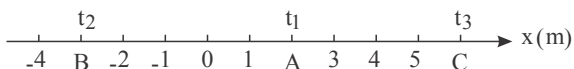




۱) متحرکی مطابق شکل در لحظه t_1 در نقطه A ، در لحظه t_2 در نقطه B و در لحظه t_3 در نقطه C قرار دارد.

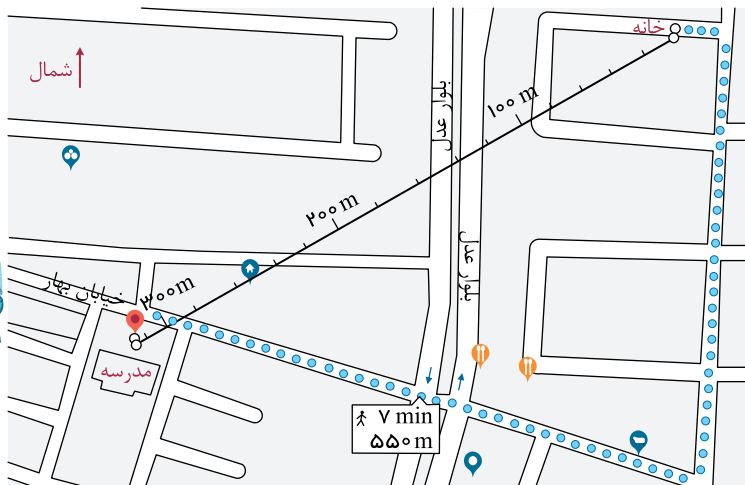


الف) بردارهای مکان متحرک را در هر یک از این لحظه‌ها روی محور x رسم کنید و برحسب بردار یکه بنویسید.

ب) بردار جابه‌جایی متحرک را در هر یک از بازه‌های زمانی t_1 تا t_2 ، t_2 تا t_3 و t_1 تا t_3 به دست آورید.

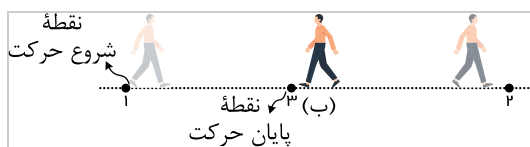

۲) همانند شکل روبه‌رو به کمک یک نرم‌افزار نقشه‌یاب، مکان خانه و مدرسه‌تان را مشخص کنید. سپس مسافت و اندازه بردار جابه‌جایی خانه تا

مدرسه را تعیین کنید.

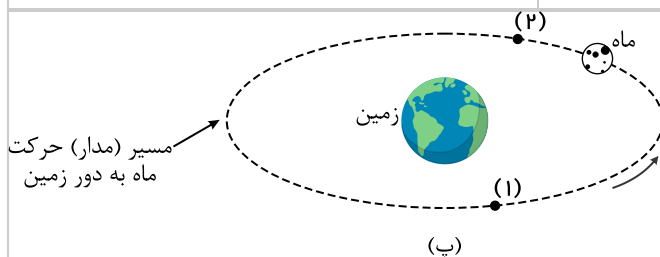


۳) الف) شکل الف شخصی را در حال پیاده‌روی در راستای خط راست و بدون تغییر جهت، از مکان ۱ به مکان ۲ نشان می‌دهد. مسیر حرکت و بردار

جابه‌جایی شخص را روی شکل مشخص و اندازه بردار جابه‌جایی را با مسافت مقایسه کنید.



ب) شخص پس از رسیدن به مکان ۲، برمی‌گردد و روی همان مسیر به مکان ۳ می‌رود (شکل ب)، مسیر حرکت و بردار جابه‌جایی شخص را روی شکل مشخص و اندازه بردار جابه‌جایی را با مسافت پیموده‌شده، مقایسه کنید.

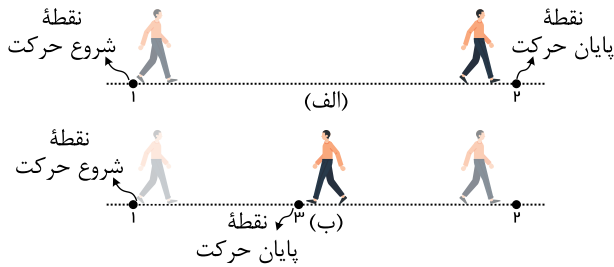


پ) شکل پ مسیر حرکت ماه به دور زمین را نشان می‌دهد. وقتی ماه در جهت نشان داده‌شده، در شکل، از مکان ۱ به مکان ۲ می‌رود مسیر حرکت و بردار جابه‌جایی آن را روی شکل مشخص و به اندازه بردار جابه‌جایی آن را با مسافت پیموده‌شده، مقایسه کنید.

۴ با توجه به داده‌های نقشه شکل مقابل:



الف) تندی متوسط و اندازه سرعت متوسط خودرو را پیدا کنید.
 ب) مفهوم فیزیکی این دو کمیت چه تفاوتی با یکدیگر دارد؟
 پ) در چه صورت، تندی متوسط و اندازه سرعت متوسط می‌توانند تقریباً با یکدیگر برابر باشند؟



۵ در چه صورت اندازه سرعت متوسط یک متحرک با تندی متوسط آن برابر است؟

برای پاسخ خود می‌توانید به شکل‌های زیر نیز توجه کنید.

۶ جدول زیر را کامل کنید. فرض کنید هر چهار متحرک در مدت زمان s $4,0$ فاصله بین مکان آغازین و مکان پایانی را طی می‌کنند.

| مکان آغازین | مکان پایانی | بردار جابه‌جایی | سرعت متوسط | جهت حرکت |
|-------------------|-------------------|-------------------|----------------------------|----------|
| $(-2,0 m)\vec{i}$ | $(6,4 m)\vec{i}$ | | | متحرک A |
| | $(-2,5 m)\vec{i}$ | $(-5,6 m)\vec{i}$ | | متحرک B |
| $(2,0 m)\vec{i}$ | $(8,6 m)\vec{i}$ | | | متحرک C |
| $(-1,4 m)\vec{i}$ | | | $(2,4 \frac{m}{s})\vec{i}$ | متحرک D |

۷ معادله حرکت جسمی در SI به صورت $x = t^3 - 3t^2 + 4$ است.

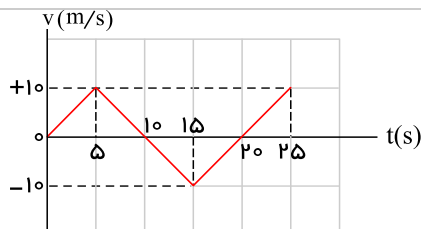
الف) مکان متحرک را در $t = 0 s$ و $t = 2 s$ به دست آورید.

ب) سرعت متوسط جسم را در بازه زمانی صفر تا ۲ ثانیه پیدا کنید.

۸ نمودار سرعت - زمان متحرکی مطابق شکل زیر است:

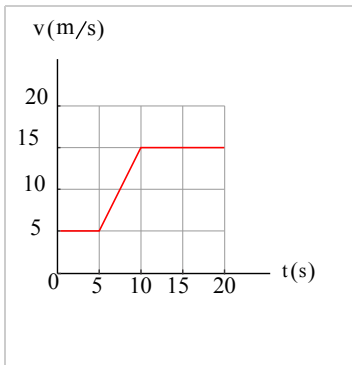
الف) نمودار شتاب - زمان این متحرک را رسم کنید.

ب) اگر $x_0 = -10 m$ باشد، نمودار مکان - زمان متحرک را رسم کنید.



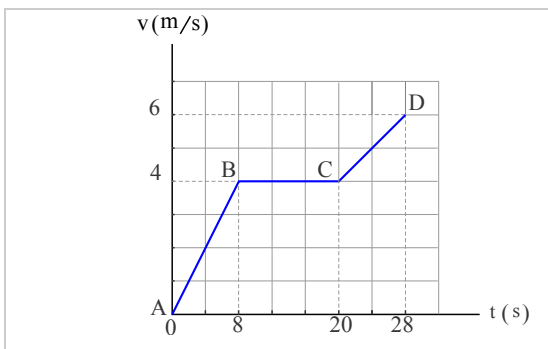


۹ شکل نشان داده شده نمودار سرعت - زمان خودرویی را نشان می دهد که روی مسیری مستقیم حرکت می کند.



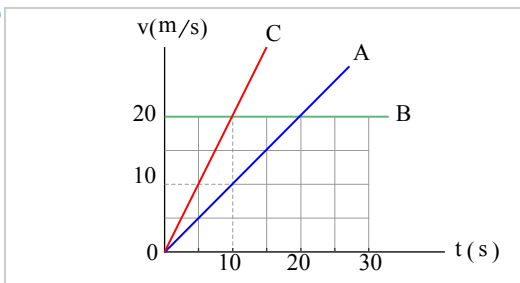
- الف) شتاب خودرو را در هر یک از لحظه های $t = 3s$, $t = 8s$, $t = 11s$ و $t = 15s$ به دست آورید.
 ب) شتاب متوسط در بازه زمانی $t_1 = 0s$ تا $t_2 = 20s$ را به دست آورید.
 پ) در هر یک از بازه های زمانی $t_1 = 5s$ تا $t_2 = 11s$ و $t_3 = 11s$ تا $t_4 = 20s$ خودرو چقدر جابه جا شده است؟
 ت) سرعت متوسط خودرو در بازه های $t_1 = 5s$ تا $t_2 = 11s$ و $t_3 = 11s$ تا $t_4 = 20s$ را به دست آورید.

۱۰ شکل زیر، نمودار سرعت - زمان متحرکی را که در امتداد محور x حرکت می کند در مدت ۲۸ ثانیه نشان می دهد.



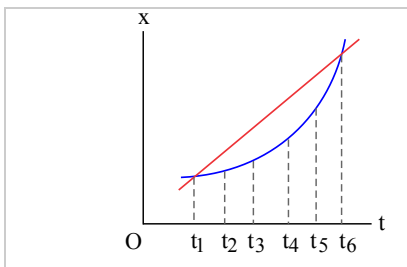
- الف) شتاب در هر یک از مرحله های AB ، BC و CD چقدر است؟
 ب) شتاب متوسط در بازه زمانی صفر تا ۲۸ ثانیه چقدر است؟
 پ) جابه جایی متحرک را در این بازه زمانی پیدا کنید.

۱۱ در شکل روبه رو، نمودار سرعت - زمان سه متحرک نشان داده شده است.



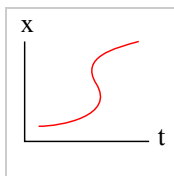
- الف) شتاب سه متحرک را به طور کیفی با یکدیگر مقایسه کنید.
 ب) شتاب هر متحرک را به دست آورید.
 پ) در بازه زمانی $0s$ تا $10s$ جابه جایی این سه متحرک را پیدا کنید.

۱۲ شکل زیر، نمودار مکان - زمان دو خودرو را نشان می دهد که در جهت محور x در حرکت اند.

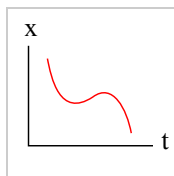


- الف) در چه لحظه هایی دو خودرو از کنار یکدیگر می گذرند؟
 ب) در چه لحظه ای تندى دو خودرو تقریباً یکسان است؟
 پ) سرعت متوسط دو خودرو را در بازه زمانی t_1 تا t_2 با هم مقایسه کنید.

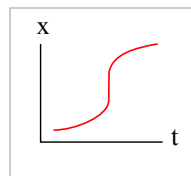
۱۳ توضیح دهید کدام یک از نمودارهای مکان - زمان شکل زیر می تواند نشان دهنده نمودار $x - t$ یک متحرک باشد.



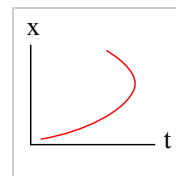
(ت)



(پ)



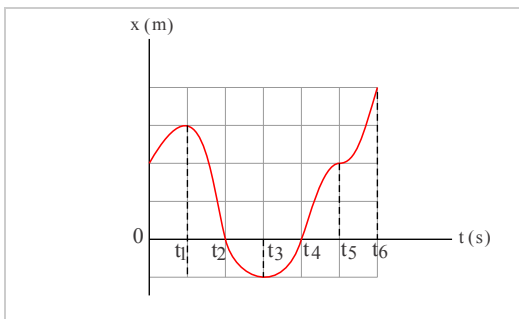
(ب)



(الف)



۱۴ با توجه به نمودار مکان - زمان شکل روبه‌رو به پرسش‌های زیر پاسخ دهید:



الف) متحرک چند بار از مبدأ مکان عبور می‌کند؟

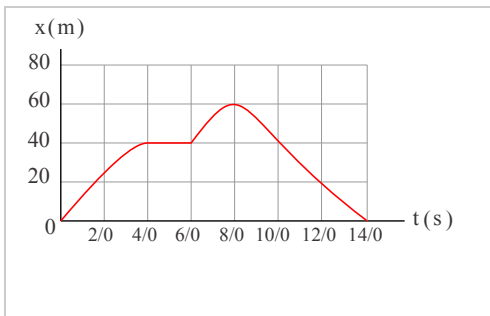
ب) در کدام بازه‌های زمانی متحرک در حال دور شدن از مبدأ است؟

پ) در کدام بازه‌های زمانی متحرک در حال نزدیک شدن به مبدأ است؟

ت) جهت حرکت چند بار تغییر کرده است؟ در چه لحظه‌هایی؟

ث) جابه‌جایی کل در جهت محور x است یا خلاف آن؟

۱۵ شکل روبه‌رو نمودار مکان - زمان دوچرخه‌سواری را نشان می‌دهد که روی مسیری مستقیم در حال حرکت است.



الف) در کدام لحظه، دوچرخه‌سوار بیشترین فاصله از مبدأ را دارد؟

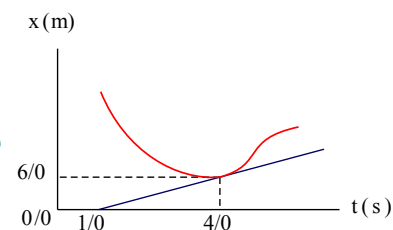
ب) در کدام بازه‌های زمانی، دوچرخه‌سوار در جهت محور x حرکت می‌کند؟

پ) در کدام بازه زمانی، دوچرخه‌سوار در خلاف جهت محور x حرکت می‌کند؟

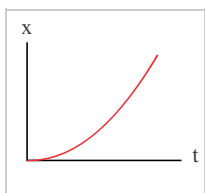
ت) در کدام بازه زمانی، دوچرخه‌سوار ساکن است؟

ث) تندی متوسط و سرعت متوسط دوچرخه‌سوار را در هر یک از بازه‌های زمانی s ۰ تا s ۲٫۰، s ۲٫۰ تا s ۴٫۰، s ۴٫۰ تا s ۶٫۰، s ۶٫۰ تا s ۸٫۰، s ۸٫۰ تا s ۱۰٫۰، s ۱۰٫۰ تا s ۱۲٫۰، s ۱۲٫۰ تا s ۱۴٫۰ حساب کنید.

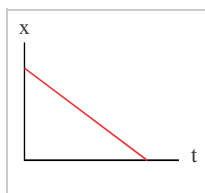
۱۶ شکل روبه‌رو، نمودار مکان - زمان متحرکی را نشان می‌دهد. خط مماس بر منحنی در لحظه $t = ۴٫۰$ s رسم شده است. سرعت متحرک را در این لحظه پیدا کنید.



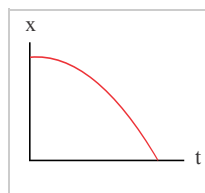
۱۷ توضیح دهید کدامیک از نمودارهای مکان - زمان نشان داده‌شده، حرکت متحرکی را توصیف می‌کند که سرعت اولیه آن در جهت محور x و شتاب آن برخلاف جهت محور x است.



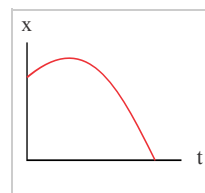
(الف)



(ب)

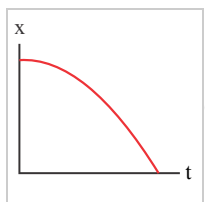


(پ)

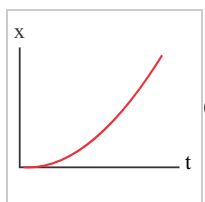


(ت)

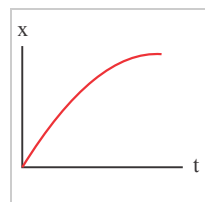
۱۸ توضیح دهید از نمودارهای مکان - زمان شکل زیر، کدام موارد حرکت متحرکی را توصیف می‌کند که از حال سکون شروع به حرکت کرده و به تدریج بر تندی آن افزوده شده است.



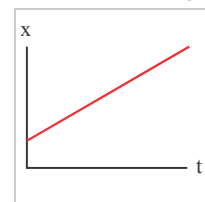
(الف)



(ب)

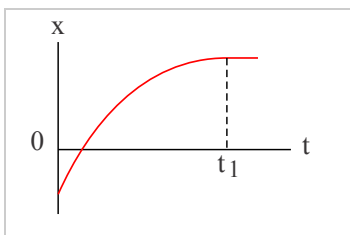


(پ)



(ت)

۱۹ شکل روبه‌رو، نمودار مکان - زمان متحرکی را نشان می‌دهد که در امتداد محور x در حرکت است.

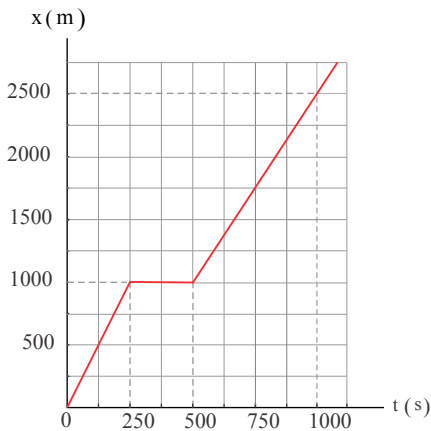


الف) از لحظه صفر تا لحظه t_1 سرعت متحرک رو به افزایش است یا کاهش؟

ب) اگر در لحظه t_1 خط مماس بر منحنی موازی محور زمان باشد، سرعت متحرک در این لحظه چقدر است؟



۲۱ شکل زیر، نمودار مکان - زمان حرکت یک دوندۀ دوی نیمه‌استقامت را در امتداد یک خط راست نشان می‌دهد.



الف) در کدام بازۀ زمانی دونده سریع‌تر دویده است؟

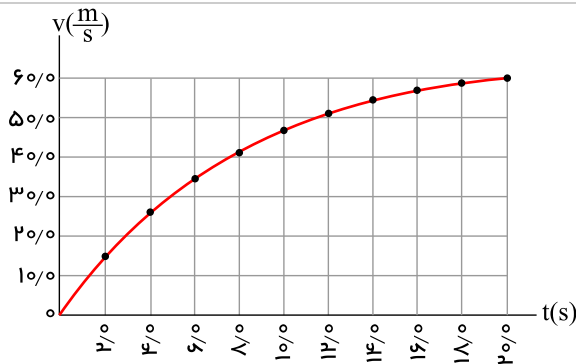
ب) در کدام بازۀ زمانی، دونده ایستاده است؟

پ) سرعت دونده را در بازۀ زمانی ۰s تا ۲۵۰s حساب کنید.

ت) سرعت دونده را در بازۀ زمانی ۵۰۰s تا ۱۰۰۰s حساب کنید.

ث) سرعت متوسط دونده را در بازۀ زمانی ۰s تا ۱۰۰۰s حساب کنید.

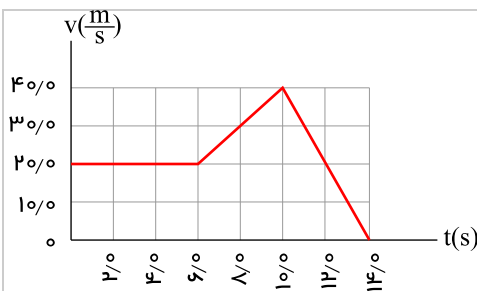
۲۲ نمودار سرعت - زمان خودرویی که در راستای محور x حرکت می‌کند در بازۀ زمانی ۰s تا ۲۰s مطابق شکل روبه‌رو است.



الف) شتاب متوسط خودرو در این بازۀ زمانی چقدر است؟

ب) شتاب خودرو را در لحظه $t = ۸s$ به‌دست آورید.

۲۳ نمودار سرعت - زمان خودرویی که در راستای محور x حرکت می‌کند در بازۀ زمانی صفر تا ۱۴s مطابق شکل روبه‌رو است.

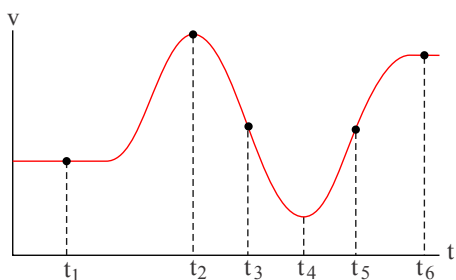


الف) شتاب متوسط خودرو در این بازۀ زمانی چقدر است؟

ب) شتاب خودرو را در هر یک از لحظه‌های $t = ۲s$, $t = ۸s$ و $t = ۱۱s$ به‌دست

آورید.

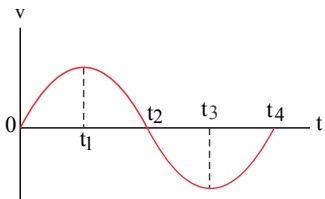
۲۴ شکل روبه‌رو نمودار سرعت - زمان دوچرخه‌سواری را نشان می‌دهد که در امتداد محور x در حرکت است. جهت شتاب دوچرخه‌سوار را در



هر یک از لحظه‌های t_1, t_2, t_3, t_4, t_5 و t_6 تعیین کنید.



۲۵ نمودار سرعت - زمان متحرکی در شکل زیر نشان داده شده است. تعیین کنید در کدام بازه‌های زمانی بردار شتاب در جهت محور x و در کدام بازه‌های زمانی در خلاف جهت محور x است.



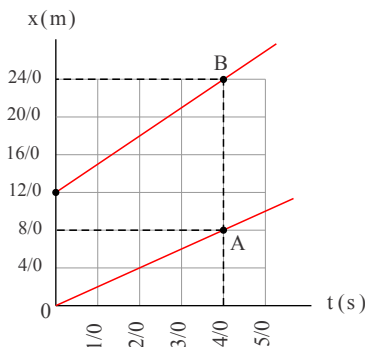
۲۶ دانستن محل قرارگیری یک ماهواره در مأموریت‌های فضایی و اطمینان از اینکه ماهواره در مدار پیش‌بینی شده قرار گرفته، یکی از مأموریت‌های کارشناسان فضایی است. بدین منظور، تپ‌های الکترومغناطیسی را که با سرعت نور در فضا حرکت می‌کنند، به طرف ماهواره مورد نظر می‌فرستند و بازتاب آن توسط ایستگاه زمینی دریافت می‌شود. اگر زمان رفت و برگشت یک تپ ۰٫۲۴ ثانیه باشد، فاصله ماهواره از ایستگاه زمینی، تقریباً چقدر است؟

۲۷ جسمی با سرعت ثابت بر مسیری مستقیم در حرکت است. اگر جسم در لحظه $t_1 = 5,0\text{ s}$ در مکان $x_1 = 6,0\text{ m}$ و در لحظه $t_2 = 20,0\text{ s}$ در مکان $x_2 = 36,0\text{ m}$ باشد:

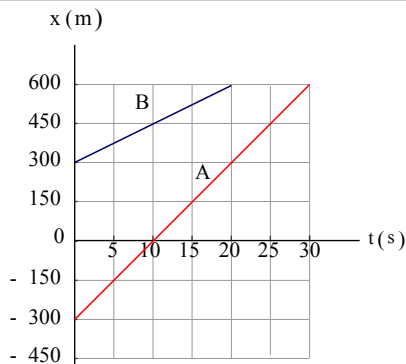
الف) معادله مکان - زمان جسم را بنویسید.

ب) نمودار مکان - زمان جسم را رسم کنید.

۲۸ شکل مقابل، نمودار مکان - زمان دو متحرک A و B را نشان می‌دهد که در راستای محور x حرکت می‌کنند. سرعت هر متحرک را پیدا کنید و معادله مکان - زمان آن‌ها را بنویسید.



۲۹ شکل زیر، نمودار مکان - زمان دو خودرو را نشان می‌دهد که روی یک خط راست حرکت می‌کنند.



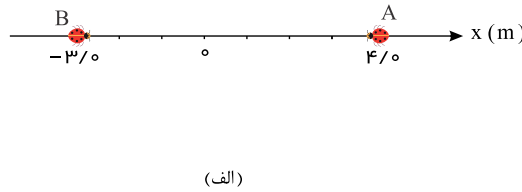
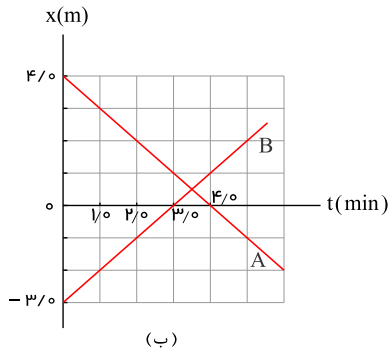
الف) معادله حرکت هر یک از آنها را بنویسید.

ب) اگر خودروها با همین سرعت حرکت کنند، در چه زمان و مکانی به هم می‌رسند؟

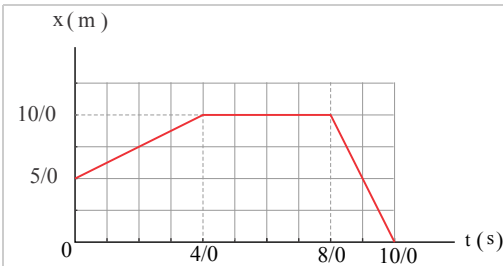


۳۰ شکل (الف)، مکان دو کفش دوزک A و B را که در راستای محور x حرکت می کنند در لحظه $t = 0$ نشان می دهد. نمودار مکان - زمان این کفش دوزک ها در شکل (ب) رسم شده است.

الف) از روی نمودار به طور تقریبی تعیین کنید کفش دوزک ها در چه لحظه و در چه مکانی به یکدیگر می رسند؟
ب) با استفاده از معادله مکان - زمان، زمان و مکان هم رسی کفش دوزک ها را پیدا کنید.



۳۱ شکل زیر، نمودار مکان - زمان متحرکی را نشان می دهد که در امتداد محور x حرکت می کند.



الف) جابه جایی و مسافت پیموده شده توسط متحرک در کل زمان حرکت چقدر است؟
ب) سرعت متوسط متحرک را در هر یک از بازه های زمانی 0 تا 4 s، 4 تا 8 s، 8 تا 10 s و همچنین در کل زمان حرکت به دست آورید.
پ) معادله حرکت متحرک را در هر یک از بازه های زمانی 0 تا 4 s، 4 تا 8 s، 8 تا 10 s بنویسید.
ت) نمودار سرعت - زمان متحرک را رسم کنید.

۳۲ خودرویی با سرعت $180 \frac{km}{h}$ در امتداد مسیری مستقیم از چهارراهی می گذرد و تندی آن با شتاب $10 \frac{m}{s^2}$ افزایش می یابد. سرعت خودرو پس از 300 m جابه جایی چقدر است؟

۳۳ معادله سرعت - زمان متحرکی که در امتداد محور x حرکت می کند در صورت $v = -1.8t + 2.2$ است.

الف) سرعت متحرک در لحظه $t = 4$ s چقدر است؟

ب) سرعت متوسط متحرک و جابه جایی آن در بازه زمانی صفر تا $t = 4$ s چقدر است؟

پ) نمودار سرعت - زمان این متحرک را رسم کنید.

۳۴ متحرکی در امتداد محور x و با شتاب ثابت در حرکت است. در مکان $x = +10$ m سرعت متحرک $4 \frac{m}{s}$ و در مکان $x = +19$ m سرعت

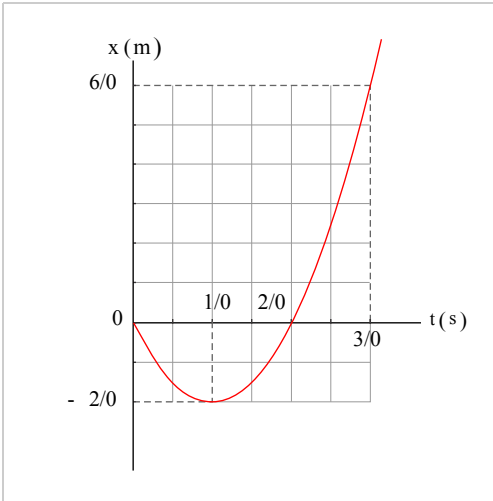
متحرک $18 \frac{km}{h}$ است.

الف) شتاب حرکت آن چقدر است؟

ب) پس از چه مدتی سرعت متحرک از $4 \frac{m}{s}$ به سرعت $18 \frac{km}{h}$ می رسد؟

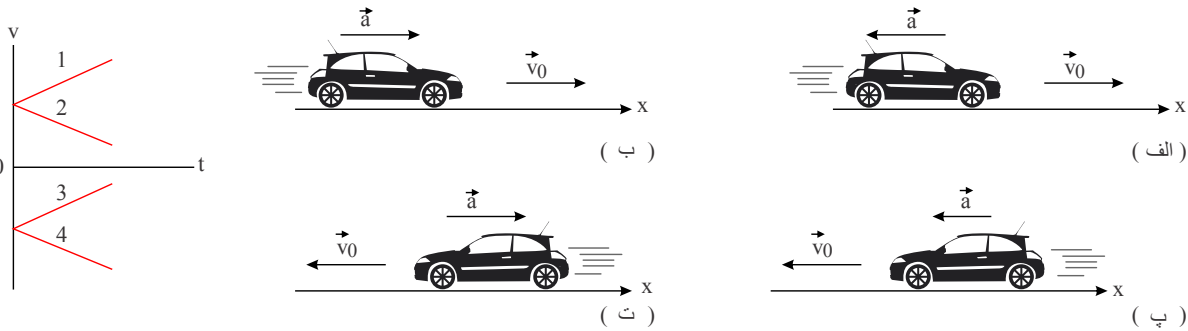


۳۵ شکل زیر، نمودار مکان - زمان متحرکی را نشان می‌دهد که در امتداد محور x با شتاب ثابت در حرکت است.

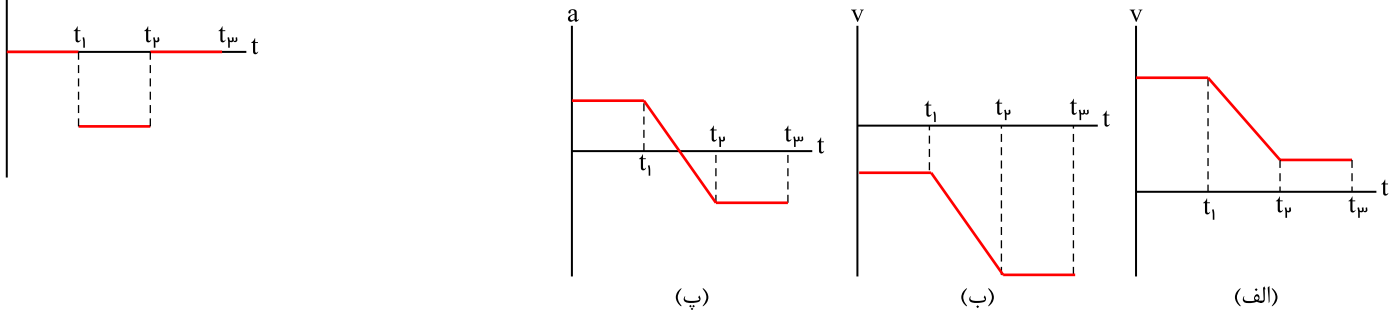


- الف) سرعت متوسط متحرک در بازه زمانی صفر تا 3.0 ثانیه، چند متر بر ثانیه است؟
 ب) معادله مکان - زمان متحرک را بنویسید.
 پ) سرعت متحرک را در لحظه $t = 3.0$ s پیدا کنید.
 ت) نمودار سرعت - زمان متحرک را رسم کنید.

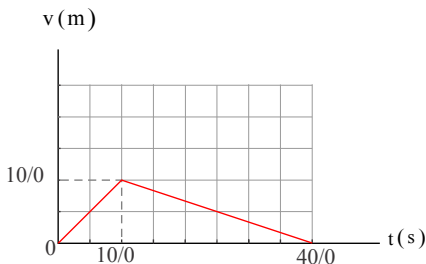
۳۶ در تمامی حالت‌های شکل زیر، خودروها در امتداد محور x و با شتاب ثابت در حرکت‌اند. حرکت هریک از خودروها، توسط کدام یک از نمودارهای $v - t$ توصیف می‌شود؟ همچنین توضیح دهید تندی کدام خودرو در حال افزایش (حرکت تندشونده) و تندی کدام خودرو در حال کاهش (حرکت کندشونده) است.



۳۷ نمودار شتاب - زمان متحرکی که در امتداد محور x حرکت می‌کند، مطابق شکل زیر است. توضیح دهید چگونه هریک از نمودارهای سرعت - زمان شکل‌های (الف، ب و پ) می‌تواند متناظر با نمودار شتاب - زمان روبه‌رو باشد.

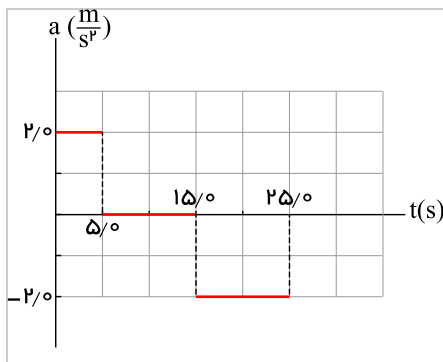


۳۸ نمودار $v - t$ متحرکی که در امتداد محور x حرکت می‌کند، مطابق شکل زیر است. سرعت متوسط متحرک در بازه زمانی 0 s تا 5.0 s چند برابر سرعت متوسط آن در بازه زمانی 25.0 s تا 40.0 s است؟



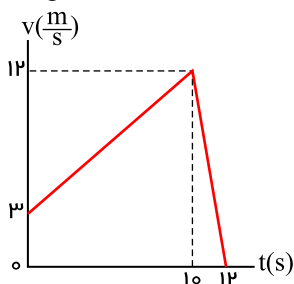


۳۹ شکل مقابل، نمودار شتاب - زمان یک ماشین اسباب‌بازی را نشان می‌دهد که در امتداد محور x حرکت می‌کند. با فرض $x_0 = 0$ و $v_0 = 0$ ، در بازه زمانی صفر تا $25/0$ ،



الف) نمودارهای سرعت - زمان و مکان - زمان این ماشین را رسم کنید.
 ب) با توجه به نمودار سرعت - زمان، مشخص کنید در کدام یک از بازه‌های زمانی، حرکت ماشین تندشونده، کندشونده یا با سرعت ثابت است.
 پ) شتاب متوسط ماشین را پیدا کنید.
 ت) جابه‌جایی ماشین را پیدا کنید.

۴۰ آهویی در مسیری مستقیم در امتداد محور x می‌دود. نمودار سرعت - زمان آهو در بازه زمانی صفر تا $12/0$ مطابق شکل است. در این بازه زمانی: الف) مسافت کل پیموده‌شده توسط آهو را به دست آورید.



ب) جابه‌جایی آهو را پیدا کنید.
 پ) نمودار شتاب - زمان آهو را رسم کنید.

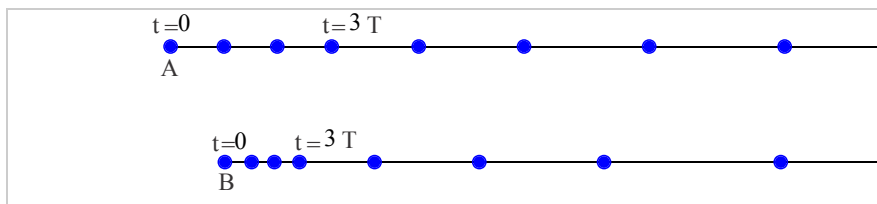
۴۱ خودرویی پشت چراغ قرمز ایستاده است. با سبز شدن چراغ، خودرو با شتاب $2 \frac{m}{s^2}$ شروع به حرکت می‌کند. در همین لحظه، کامیونی با سرعت ثابت $36 \frac{km}{h}$ از آن سبقت می‌گیرد.

الف) در چه لحظه و در چه مکانی خودرو به کامیون می‌رسد؟

ب) نمودار مکان - زمان را برای خودرو و کامیون در یک دستگاه مختصات رسم کنید.

پ) نمودار سرعت - زمان را برای خودرو و کامیون در یک دستگاه مختصات رسم کنید.

۴۲ هریک از شکل‌های زیر، مکان یک خودرو را در لحظه‌های $t = 0$ ، $t = T$ ، $t = 2T$ ، $t = 3T$ و ... نشان می‌دهد. هر دو خودرو در لحظه $t = 3T$ شتاب می‌گیرند. توضیح دهید:

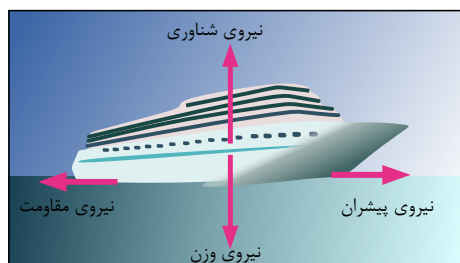


الف) سرعت اولیه کدام خودرو بیشتر است.

ب) سرعت نهایی کدام خودرو بیشتر است.

پ) کدام خودرو شتاب بیشتری دارد.

۴۳ در شکل روبه‌رو یک کشتی در حال حرکت را می‌بینید که نیروهای وارد بر آن متوازن‌اند. کدام نیروها اثر یکدیگر را خنثی کرده‌اند؟





۴۴ وقتی در خودروی ساکنی نشسته‌اید و خودرو ناگهان شروع به حرکت می‌کند، به صندلی فشرده می‌شوید. همچنین اگر در خودروی در حال حرکتی نشسته باشید، در توقف ناگهانی به جلو پرتاب می‌شوید.

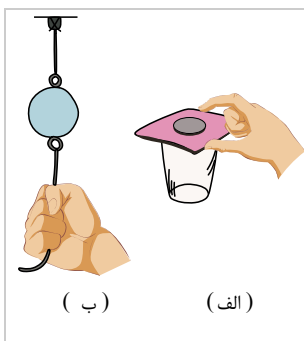
الف) علت این پدیده‌ها را توضیح دهید.

ب) نقش کمربند ایمنی و کیسه هوا در کم شدن آسیب‌ها در تصادف‌ها را بیان کنید.



۴۵ الف) در شکل الف مقوا را به سرعت می‌کشیم، برای سکه چه اتفاقی می‌افتد؟

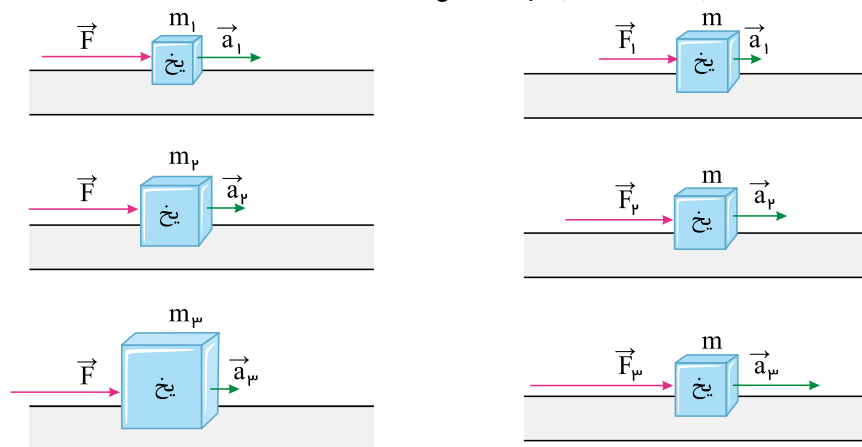
ب) در شکل ب، اگر به آرامی نیروی وارد بر گوی سنگین را زیاد کنیم کدام نخ پاره می‌شود؟ اگر ناگهان نخ را بکشیم، کدام نخ پاره می‌شود؟ علت آن را توضیح دهید.



۴۶ در فیلمی علمی - تخیلی، موتور یک کشتی فضایی که در فضای تهی خارج از جو زمین و دور از هر سیاره و خورشید در حرکت است، از کار می‌افتد. در نتیجه حرکت کشتی فضایی کند می‌شود و می‌ایستد. آیا امکان وقوع چنین رویدادی وجود دارد؟ توضیح دهید.

۴۷ درباره آزمایش ذهنی گالیله تحقیق کنید.

۴۸ در شکل‌های زیر، قطعه یخ‌ها روی یک سطح افقی بدون اصطکاک قرار دارند. تفسیر خود را از این شکل‌ها بیان کنید.



۴۹ الف) براساس قانون سوم نیوتون و آنچه از اصطکاک آموختید، توضیح دهید راه رفتن با شروع از حالت سکون چگونه انجام می‌شود؟

ب) چرا راه رفتن روی یک سطح سر مانند سطح یخ به سختی ممکن است؟

۵۰ شخصی در حال هل دادن جعبه‌ای سنگین روی سطح افقی است و این جعبه در جهت این نیرو حرکت می‌کند. با توجه به آنکه نیرویی که شخص

به جعبه وارد می‌کند با نیرویی که جعبه به شخص وارد می‌کند هم‌اندازه است، توضیح دهید چگونه جعبه حرکت می‌کند؟

۵۱ سببی را در نظر بگیرید که به شاخه درختی آویزان است و سپس از درخت جدا می‌شود.

الف) با رسم شکل نیروهای وارد بر سیب را قبل و بعد از جدا شدن از درخت نشان دهید.

ب) در هر حالت واکنش این نیروها بر چه اجسامی وارد می‌شود؟



- ۵۲ در هریک از موارد زیر، نیروهای وارد بر جسم را مشخص کنید. واکنش هریک از این نیروها به چه جسمی وارد می‌شود؟
 الف) خودرویی با سرعت ثابت در یک مسیر مستقیم افقی در حال حرکت است.
 ب) کشتی‌ای با سرعت ثابت در حال حرکت است.
 پ) قایقرانی در حال پارو زدن است.
 ت) چتربازی در هوای آرام و در امتداد قائم در حال سقوط است.
 ث) هواپیمایی در یک سطح پروازی افقی با سرعت ثابت در حال حرکت است.
 ج) توپی در راستای قائم به زمین برخورد می‌کند و برمی‌گردد.

۵۳ الف) وزن قطعه‌ای طلا به جرم ۱۰۰ گرم را روی سطح زمین به دست آورید.

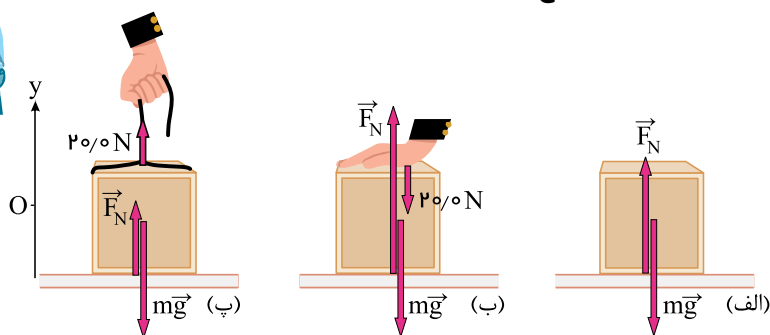
ب) وزن یک جسم در سطح یک سیاره برابر با نیروی گرانشی است که از طرف آن سیاره بر جسم وارد می‌شود. وزن این قطعه طلا را در سطح ماه و مریخ به دست آورید و با هم مقایسه کنید.

$$(g_{\text{مریخ}} = ۳,۷ \frac{N}{kg}, g_{\text{ماه}} = ۱,۶ \frac{N}{kg}, g_{\text{زمین}} = ۹,۸ \frac{N}{kg})$$

۵۴ دو گوی هم‌اندازه را که جرم یکی دو برابر دیگری است ($m_2 = ۲m_1$) از بالای برجی به ارتفاع h به‌طور هم‌زمان رها می‌کنیم. اگر از مقاومت هوا صرف‌نظر کنیم، سرعت برخورد گوی‌ها با زمین را با هم مقایسه کنید.

۵۵ چتربازی از یک وسیله پرنده تقریباً ساکن که در ارتفاع نسبتاً زیادی قرار دارد، به بیرون می‌پرد و پس از مدتی چتر خود را باز می‌کند و در امتداد قائم سقوط می‌کند. حرکت چترباز را از لحظه پرش تا رسیدن به زمین تحلیل کنید و نموداری تقریبی از تندى آن برحسب زمان رسم کنید.

۵۶ همانند شکل، جعبه‌ای به جرم $۴,۰ \text{ kg}$ روی میزی افقی قرار دارد. نیروی عمودی سطح را در حالت‌های نشان داده شده به دست آورید.



۵۷ دانش‌آموزی به جرم $۵۰,۰ \text{ kg}$ روی یک ترازوی فنری در آسانسور ایستاده است. در هر یک از حالت‌های زیر این ترازو چند نیوتون را نشان

$$\text{می‌دهد؟ } (g = ۹,۸۰ \frac{N}{kg})$$

الف) آسانسور ساکن است.

ب) آسانسور با سرعت ثابت حرکت می‌کند.

پ) آسانسور با شتاب $\frac{m}{s^2}$ به طرف بالا شروع به حرکت می‌کند.

ت) آسانسور با شتاب $\frac{m}{s^2}$ به طرف پایین شروع به حرکت می‌کند.

۵۸ وزنه‌ای به جرم $۲,۰ \text{ kg}$ را به انتهای فنری به طول ۱۲ cm که ثابت آن $\frac{N}{cm}$ است می‌بندیم و فنر را از سقف یک آسانسور آویزان می‌کنیم.

طول فنر را در حالت‌های زیر محاسبه کنید. ($g = ۹,۸ \frac{N}{kg}$) و فرض کنید در هر حالت، جسم متصل به فنر نسبت به آسانسور در حال تعادل باشد.

الف) آسانسور ساکن است.

ب) آسانسور با سرعت ثابت $\frac{m}{s}$ رو به پایین در حرکت است.

پ) آسانسور با شتاب ثابت $\frac{m}{s^2}$ از حال سکون رو به پایین شروع به حرکت کند.

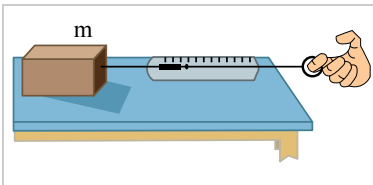
ت) آسانسور با شتاب ثابت $\frac{m}{s^2}$ از حال سکون رو به بالا شروع به حرکت کند.



- ۵۹ در هریک از حالت‌های زیر، عددی را که ترازوی فنری نشان می‌دهد با وزن شخص مقایسه کنید.
- (الف) آسانسور به طرف بالا شروع به حرکت کند.
- (ب) آسانسور به طرف پایین شروع به حرکت کند.
- (پ) آسانسور در حالی که به طرف بالا حرکت می‌کند، متوقف شود.
- (ت) آسانسور در حالی که به طرف پایین حرکت می‌کند، متوقف شود.

- ۶۰ آزمایشی طراحی کنید که نشان دهد ضریب اصطکاک ایستایی جسم به مساحت سطح تماس بستگی ندارد.
- وسایل لازم: نیروسنج، قطعه چوبی به شکل مکعب مستطیل با وجوه یکنواخت، ترازو، خط‌کش
- شرح آزمایش:

(۱) مکعب چوبی را از طرف وجه بزرگ آن، روی سطح افقی میز قرار می‌دهیم.



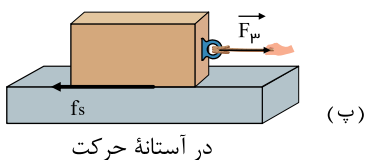
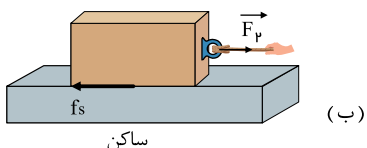
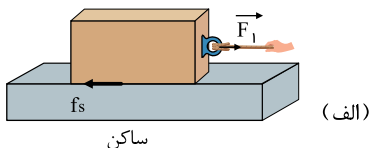
(۲) نیروسنج را مانند شکل به مکعب چوبی وصل کرده و سر دیگر نیروسنج را با دست گرفته و به‌طور افقی می‌کشیم.

- (۳) نیروی دست خود را به آرامی افزایش می‌دهیم تا جایی که مکعب چوبی در آستانه لغزیدن قرار گیرد. در این حالت عددی را که نیروسنج نشان می‌دهد، در جدول یادداشت می‌کنیم (برای افزایش دقت در نتیجه‌گیری می‌توان آزمایش را چندین بار تکرار کرد).
- (۴) اکنون مکعب چوبی را از طرف وجه کوچک‌تر روی سطح قرار داده و مراحل ۲ و ۳ را تکرار می‌کنیم.
- (۵) با اندازه‌گیری جرم مکعب چوبی و استفاده از رابطه $f_{s,max} = \mu_s F_N$ ، $F_N = mg$ ، مقدار μ_s را محاسبه می‌کنیم.

$$\mu_s = \frac{f_{s,max}}{F_N} = \frac{F_{\text{نیروسنج}}}{mg}$$

- ۶۱ اگر در شکل‌های زیر، جرم جسم $4,0\text{ kg}$ و بزرگی نیروها $F_1 = 4,0\text{ N}$ ، $F_2 = 8,0\text{ N}$ و $F_3 = 16,0\text{ N}$ باشد.

- (الف) بزرگی نیروهای اصطکاک ایستایی در هر حالت چقدر است؟
- (ب) ضریب اصطکاک ایستایی را پیدا کنید.



- ۶۲ جعبه‌ای به جرم 75 kg روی سطح افقی قرار دارد اگر ضریب اصطکاک ایستایی بین جعبه و زمین $0,600$ و جسم در ابتدا ساکن باشد، حداقل نیروی افقی لازم برای به حرکت درآوردن جعبه چقدر است؟ $(g = 9,8 \frac{\text{N}}{\text{kg}})$

- ۶۳ آزمایشی طراحی کنید که نشان دهد $f_{s,max}$ متناسب با F_N است.

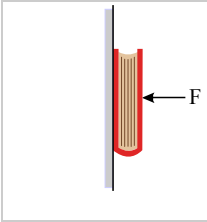


۶۴ کتابی را مانند شکل با نیروی عمودی F به دیوار قائمی فشرده و ثابت نگه داشته‌ایم.

الف) نیروهای وارد بر کتاب را رسم کنید.

ب) اگر جرم کتاب $۲٫۵\text{kg}$ باشد، اندازه نیروی اصطکاک را به دست آورید.

پ) اگر کتاب را بیشتر به دیوار بفشاریم، آیا نیروی اصطکاک تغییر می‌کند؟ با این کار چه نیروهایی افزایش می‌یابد؟




۶۵ در شکل نشان داده شده، شخص با نیروی ۲۰۰N جسم $۹۰٫۰$ کیلوگرمی را هل می‌دهد، اما جسم ساکن می‌ماند. ولی وقتی با نیروی ۳۰۰N جسم را هل می‌دهد، جسم در آستانه حرکت قرار می‌گیرد.

الف) نیروی اصطکاک ایستایی بین جسم و سطح در هر حالت چقدر است؟

ب) ضریب اصطکاک ایستایی بین جسم و سطح چقدر است؟

پ) اگر پس از حرکت، شخص با نیروی ۲۰۰N جسم را هل دهد و ضریب اصطکاک جنبشی بین سطح و جسم $۰٫۲۰$ باشد،

شتاب حرکت جسم چقدر خواهد شد؟ $(g = ۹٫۸ \frac{m}{s^2})$



۶۶ قطعه چوبی را با سرعت افقی $۱۰٫۰ \frac{m}{s}$ روی سطحی افقی پرتاب می‌کنیم. ضریب اصطکاک جنبشی بین چوب و سطح $۰٫۲۰$ است.

الف) چوب پس از پیمودن چه مسافتی می‌ایستد؟

ب) اگر از یک قطعه چوب دیگر استفاده کنیم که جرم آن دو برابر جرم قطعه چوب اول و ضریب اصطکاک جنبشی آن با سطح افقی با اولی یکسان باشد و با همان سرعت پرتاب شود، مسافت پیموده شده آن چند برابر می‌شود؟

۶۷ آزمایشی طراحی کنید که با آن بتوانید:

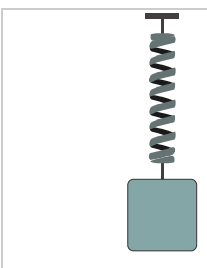
الف) نیروی اصطکاک جنبشی وارد بر جسمی مانند یک قطعه چوب در حال لغزش روی سطح را اندازه بگیرید و با استفاده از آن μ_k را به دست آورید.

ب) بستگی یا عدم بستگی نیروی اصطکاک جنبشی به مساحت سطح تماس دو جسم را تحقیق کنید.

۶۸ در شکل روبه‌رو وقتی وزنه $۴٫۰\text{kg}$ را به فنر آویزان می‌کنیم، در حالت تعادل طول فنر $۱۴٫۰\text{cm}$ می‌شود، وقتی وزنه $۵٫۰\text{kg}$ را به فنر آویزان می‌کنیم، در حالت تعادل طول فنر $۱۵٫۰\text{cm}$ می‌شود.

الف) ثابت فنر چقدر است؟

ب) طول عادی فنر (بدون وزنه) چند سانتی‌متر است؟



۶۹ تعدادی فنر متفاوت تهیه کنید.

الف) سختی آنها را مقایسه کنید.

ب) با طراحی یک آزمایش، ثابت هر فنر را به دست آورید.

۷۰ کارگری یک سطل محتوی مصالح به جرم $۱۶٫۰\text{kg}$ را با طناب سبکی به طرف بالا می‌کشد. اگر شتاب رو به بالای سطل $۱٫۲\text{m/s}^2$ باشد، نیروی

کشش طناب چقدر است؟ $(g = ۹٫۸۰ \frac{m}{s^2})$



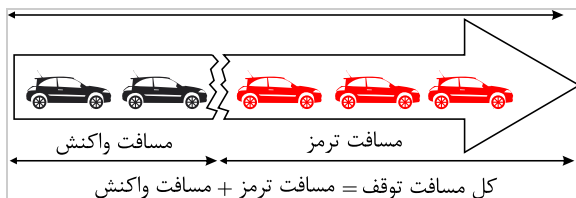


۷۱) یک خودروی باری با طناب افقی محکمی، یک خودروی سواری به جرم 1500 kg را می‌کشد. نیروی اصطکاک و مقاومت هوا در مقابل حرکت خودروی سواری 220 N و 380 N است.



الف) اگر سرعت خودرو ثابت باشد نیروی کشش طناب چقدر است؟
ب) اگر خودرو با شتاب ثابت $\frac{m}{s^2}$ به طرف راست کشیده شود، نیروی کشش طناب چقدر است؟

۷۲) برای یک راننده دانستن کل مسافت توقف خودرو اهمیت دارد. همان‌طور که شکل نشان می‌دهد کل مسافت توقف، دو قسمت دارد؛ مسافت واکنش (مسافتی که خودرو از لحظه دیدن مانع تا ترمز گرفتن طی می‌کند) و مسافت ترمز (مسافتی که خودرو از لحظه ترمز گرفتن تا توقف کامل طی می‌کند).



الف) دو عامل مؤثر در مسافت واکنش را بنویسید.
ب) زمان واکنش راننده‌های 0.6 s است. در طی این زمان، خودرو مسافت 18 m را طی می‌کند. با فرض ثابت بودن سرعت در این مدت، اندازه آن را حساب کنید.
پ) اگر در این سرعت راننده ترمز کند و خودرو پس از 0.5 s متوقف شود، مسافت ترمز و شتاب خودرو را حساب کنید.
ت) وقتی خودرو ترمز می‌کند، نیروی خالص وارد بر آن چقدر است؟ جرم خودرو را 1500 kg فرض کنید.

۷۳) می‌خواهیم به جسمی که جرم آن 50 kg است، شتاب $\frac{m}{s^2}$ بدهیم. نیرویی را که باید به جسم وارد کنیم محاسبه کنید.

الف) جسم روی سطح افقی بدون اصطکاک حرکت کند.

ب) جسم روی سطح افقی با ضریب اصطکاک 0.2 به طرف راست حرکت کند و شتابش نیز به طرف راست باشد.

۷۴) راننده خودرویی که با سرعت $72 \frac{\text{km}}{\text{h}}$ در یک مسیر مستقیم در حال حرکت است، با دیدن مانعی اقدام به ترمز می‌کند و خودرو پس از طی مسافت 20 m متوقف می‌شود.

الف) شتاب خودرو در مدت ترمز چقدر است؟

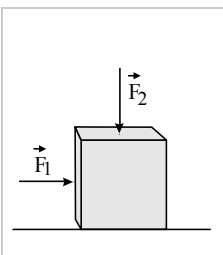
ب) از لحظه ترمز تا توقف کامل خودرو، چقدر طول می‌کشد؟

پ) نیروی اصطکاک بین لاستیک‌ها و سطح چقدر است؟ (جرم خودرو را 1200 kg فرض کنید).

جسم در راستای قائم با شتاب رو به بالا شروع به حرکت کند.

جسم در راستای قائم با شتاب رو به پایین شروع به حرکت کند.

۷۷) در شکل زیر، نیروی F_1 به بزرگی 200 N بر جعبه وارد شده است، اما جعبه همچنان ساکن است. اگر در همین حالت بزرگی نیروی قائم \vec{F}_2 که جعبه را به زمین می‌فشارد از صفر شروع به افزایش کند، کمیت‌های زیر چگونه تغییر می‌کنند؟



الف) اندازه نیروی عمودی سطح وارد بر جعبه

ب) اندازه نیروی اصطکاک ایستایی وارد بر جعبه

پ) اندازه بیشینه نیروی اصطکاک ایستایی

ت) نیروی خالص وارد بر جسم

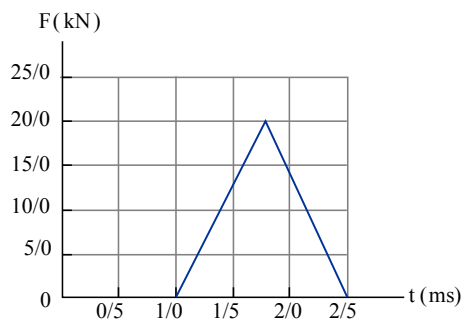
۷۸) توپی به جرم 28 g با تندی $15 \frac{\text{m}}{\text{s}}$ به طور افقی به بازیکنی نزدیک می‌شود. بازیکن با مشت به توپ ضربه می‌زند و باعث می‌شود توپ با تندی $22 \frac{\text{m}}{\text{s}}$ در جهت مخالف برگردد.
الف) اندازه تغییر تکانه توپ را محاسبه کنید.

ب) اگر مشت بازیکن 0.06 s با توپ در تماس باشد، اندازه نیروی متوسط وارد بر مشت بازیکن از طرف توپ را به دست آورید.

۷۹) نشان دهید بین اندازه تکانه (p) و انرژی جنبشی (K) جسمی که جرم آن m است، $K = \frac{p^2}{2m}$ برقرار است.



۸۰ شکل زیر، منحنی نیروی خالص بر حسب زمان را برای توپ بیسبالی که با چوب بیسبال به آن ضربه زده شده است، نشان می‌دهد. تغییر تکانه توپ و نیروی خالص متوسط وارد بر آن را در مدت ضربه زدن به دست آورید.



۸۱ ثابت گرانشی G را اولین بار هنری کاوندیش در سال ۱۷۹۸ اندازه‌گیری کرد. در مورد روش اندازه‌گیری G توسط هنری کاوندیش تحقیق کنید و نتیجه را به کلاس گزارش دهید.

۸۲ دو جسم در فاصله $۲۰٫۰\text{m}$ از هم، یکدیگر را با نیروی گرانشی کوچک $۱٫۰ \times ۱۰^{-۸}\text{N}$ جذب می‌کنند. اگر جرم یکی از اجسام $۵۰٫۰\text{kg}$ باشد، جرم جسم دیگر چقدر است؟

۸۳ الف) سفینه‌ای به جرم $۳٫۰ \times ۱۰^۴\text{kg}$ در وسط فاصله بین زمین و ماه قرار دارد. نیروی گرانشی خالصی را که از طرف زمین و ماه به این سفینه در این مکان وارد می‌شود به دست آورید. (از داده‌های مسئله‌های قبل استفاده کنید).
ب) در چه فاصله‌ای از زمین، نیروی گرانشی ماه و زمین بر سفینه، یکدیگر را خنثی می‌کنند؟

$$M_{\text{زمین}} = ۵٫۹۸ \times ۱۰^{۲۴}\text{kg}, \quad M_{\text{ماه}} = ۷٫۳۶ \times ۱۰^{۲۲}\text{kg}$$

$$\text{فاصله زمین تا ماه} = ۳٫۸۴ \times ۱۰^۵\text{km}$$

۸۴ نشان دهید شتاب گرانشی روی زمین برابر است با: $g = G \frac{M_e}{R_e^2}$

۸۵ الف) در چه ارتفاعی از سطح زمین، وزن یک شخص به نصف مقدار خود در سطح زمین می‌رسد؟
ب) اگر جرم ماهواره‌ای ۲۵۰kg باشد، وزن آن در ارتفاع ۳۶۰۰۰ کیلومتری از سطح زمین چقدر خواهد شد؟

۸۶ الف) شتاب گرانشی ناشی از خورشید در سطح زمین چقدر است؟
ب) شتاب گرانشی ناشی از ماه در سطح زمین چقدر است؟

$$M_{\text{خورشید}} = ۱٫۹۹ \times ۱۰^{۳۰}\text{kg}, \quad M_{\text{ماه}} = ۷٫۳۶ \times ۱۰^{۲۲}\text{kg}$$

$$\text{فاصله زمین تا خورشید} = ۱۴۹٫۶ \times ۱۰^۶\text{km}$$

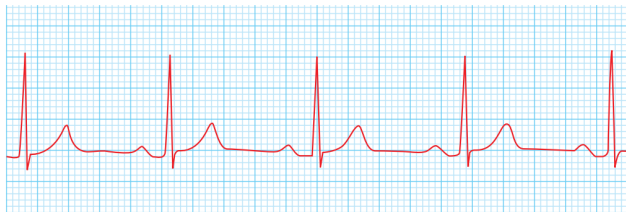
$$\text{فاصله زمین تا ماه} = ۳٫۸۴ \times ۱۰^۵\text{km}$$

۸۷ تلسکوپ فضایی هابل در ارتفاع تقریبی ۶۰۰ کیلومتری از سطح زمین به دور زمین می‌چرخد.
الف) شتاب گرانشی در این فاصله چقدر است؟

ب) وزن این تلسکوپ در این ارتفاع چند برابر وزن آن روی زمین است؟

۸۸ در حرکت هماهنگ ساده، مکان $x(t)$ باید پس از گذشت یک دوره تناوب برابر مقدار اولیه‌اش شود. یعنی اگر $x(t)$ مکان در زمان دلخواه t باشد، آنگاه نوسانگر باید در زمان $t + T$ دوباره به همان مکان بازگردد و بنابراین $A \cos \omega t = A \cos \omega(t + T)$. بر این اساس نشان دهید $\omega = \frac{\pi}{T}$

۸۹ بسامد ضربان قلب مربوط به نمودار شکل زیر چقدر است؟ (دوره تناوب)



ضربان قلب این شخص $\frac{1}{65}$ دقیقه یا $۰٫۹۲$ ثانیه است.)

۹۰ دامنه نوسان یک حرکت هماهنگ ساده $۳٫۰ \times ۱۰^{-۲}\text{m}$ و بسامد آن ۵Hz است. معادله حرکت این نوسانگر را نوشته و نمودار مکان - زمان



۹۱ ذره‌ای در حال نوسان هماهنگ ساده با دوره تناوب T است. با فرض اینکه در $t = 0$ s ذره در $x = +A$ باشد، تعیین کنید در هر یک از لحظات زیر، آیا ذره در $x = -A$ ، $x = +A$ یا در $x = 0$ خواهد بود؟ الف) $t = 2.0T$ ب) $t = 3.5T$ پ) $t = 5.25T$ (راهنمایی: برای پاسخ به این تمرین، ساده‌تر آن است که چند دوره از یک نمودار کسینوسی را رسم کنید.)

۹۲ معادله حرکت هماهنگ ساده یک نوسانگر در SI به صورت $x = (0.050\text{m}) \cos 2\pi t$ است.

الف) در چه زمانی، پس از لحظه صفر، برای نخستین بار تندی نوسانگر به بیشترین مقدار خود می‌رسد؟

ب) در چه زمانی، پس از لحظه صفر، برای نخستین بار تندی نوسانگر به صفر می‌رسد؟

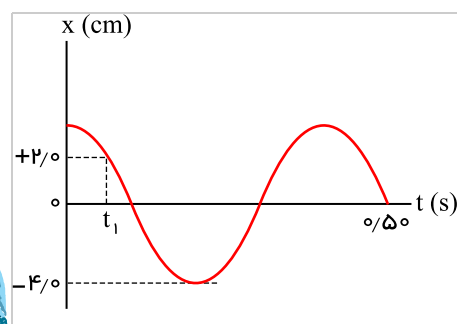
۹۳ جسمی به جرم 1.0kg به فنری افقی با ثابت $6.0 \frac{N}{cm}$ متصل است. فنر به اندازه 9.0cm فشرده و سپس رها می‌شود و جسم روی سطح افقی

شروع به نوسان می‌کند. با چشم‌پوشی از اصطکاک:

الف) دامنه نوسان و تندی بیشینه جسم چقدر است؟

ب) وقتی تندی جسم $1.6 \frac{m}{s}$ است، انرژی پتانسیل کشسانی آن چقدر است؟

۹۴ نمودار مکان - زمان نوسانگری مطابق شکل زیر است:



الف) معادله حرکت این نوسانگر را بنویسید.

ب) مقدار t_1 را به دست آورید.

پ) اندازه شتاب نوسانگر را در لحظه t_1 محاسبه کنید.

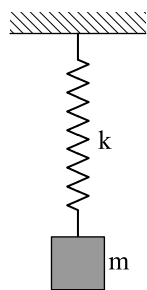
۹۵ با انتخاب وزنه‌ها و فنرهای مختلف در آرایشی مطابق شکل و با اندازه‌گیری زمان تعداد مشخصی نوسان کامل، و سپس محاسبه دوره تناوب T

برای هر سامانه جرم - فنر به‌طور تجربی نشان دهید که:

الف) دوره تناوب سامانه جرم - فنر با یک فنر معین ولی وزنه‌های متفاوت، با جذر جرم وزنه به‌طور مستقیم متناسب است. ($T \propto \sqrt{m}$)

ب) دوره تناوب سامانه جرم - فنر با یک وزنه معین ولی فنرهای متفاوت، با جذر ثابت فنر به‌طور وارون متناسب است. ($T \propto \frac{1}{\sqrt{k}}$)

پ) دوره تناوب سامانه جرم - فنر مستقل از دامنه است.



۹۶ جرم خودرویی همراه با سرنشینان آن 1600kg است. این خودرو روی چهار فنر با ثابت $1.0^4 \frac{N}{m}$ سوار شده است. دوره تناوب،

بسامد و بسامد زاویه‌ای ارتعاش خودرو وقتی از چاله‌ای می‌گذرد چقدر است؟ فرض کنید وزن خودرو به‌طور یکنواخت روی فنرهای چهارچرخ توزیع شده است.

۹۷ هرگاه جسمی به جرم m به فنری متصل شود و به نوسان درآید، با دوره تناوب 2.0s نوسان می‌کند. اگر جرم این جسم 2.0kg افزایش یابد،

دوره تناوب 3.0s می‌شود. مقدار m چقدر است؟

۹۸ دامنه نوسان وزنه‌ای که به یک فنر با ثابت فنر $74 \frac{N}{m}$ متصل است و در راستای افقی نوسان می‌کند، برابر 8.0cm است. اگر انرژی پتانسیل این

نوسانگر در نقطه‌ای از مسیر نوسان، $1.0 \times 10^{-2}\text{J}$ باشد، انرژی جنبشی آن در این مکان چقدر است؟ (از نیروهای اتلافی چشم‌پوشی شود.)



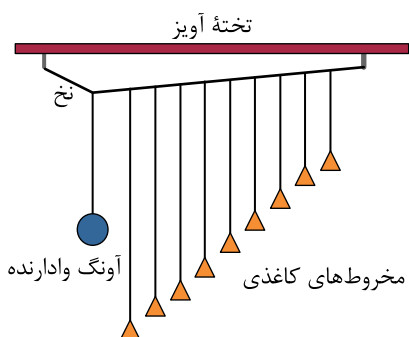
۱۰۰ الف) ساعتی آونگ‌دار (با آونگ ساده) در تهران تنظيم شده است. اگر اين ساعت به منطقه‌ای در استوا برده شود، عقب می‌افتد یا جلو؟ مقدار اين عقب یا جلو افتادن در یک شبانه‌روز چقدر است؟

$$(g_{\text{تهران}} = 9,80 \frac{m}{s^2} \text{ و } g_{\text{استوا}} = 9,78 \frac{m}{s^2})$$

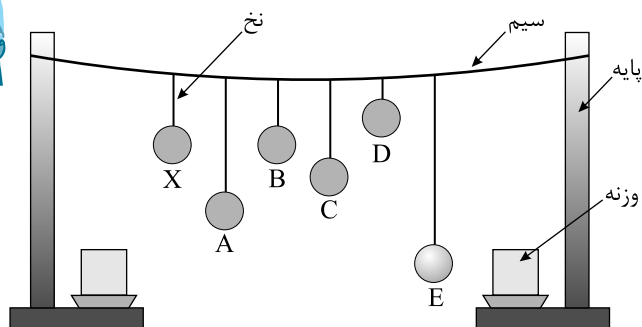
ب) به نظر شما آیا با افزایش دما، یک ساعت آونگ‌دار جلو می‌افتد یا عقب؟

۱۰۱ طول تعدادی آونگ ساده که از میله‌ای افقی آویزان‌اند، عبارت‌اند از $0,40m$ ، $0,80m$ ، $1,2m$ ، $2,8m$ ، $3,5m$. فرض کنید میله دستخوش نوسان‌هایی افقی با بسامد زاویه‌ای در گسترده $2,0 \frac{rad}{s}$ تا $4,0 \frac{rad}{s}$ بشود. کدام آونگ‌ها با دامنه بزرگ‌تری به نوسان درمی‌آیند؟ (توجه کنید گرچه تشدید در بسامد مشخصی رخ می‌دهد اما دامنه نوسان در نزدیک این بسامد همچنان بزرگ است).

۱۰۲ در پی زمین‌لرزه عظیمی (به بزرگی ۸٫۱ مقیاس ریشتر) که در ساحل غربی مکزیک در سال ۱۹۸۵ اتفاق افتاد ساختمان‌های نیمه‌بلند فرو ریختند، ولی ساختمان‌های کوتاه و بلندتر پابرجا ماندند. علت این پدیده را توضیح دهید.



۱۰۳ آونگ‌های بارتون: یک آونگ با وزنه سنگین و تعدادی آونگ سبک با طول‌های متفاوت را مطابق شکل سوار کنید. آونگ‌ها روی نخ سوار شده‌اند که هر دو انتهای آن توسط گیره‌هایی به تخته آویز متصل شده است. به آونگ سنگین اصطلاحاً آونگ وادارنده گفته می‌شود، زیرا به نوسان درآوردن این آونگ در صفحه عمود بر صفحه شکل، موجب تاب خوردن نخ و خوردن نخ آویز و در نتیجه به نوسان واداشتن سایر آونگ‌ها می‌شود. آونگ وادارنده را به نوسان درآوريد و آنچه را مشاهده می‌کنید بنویسید.

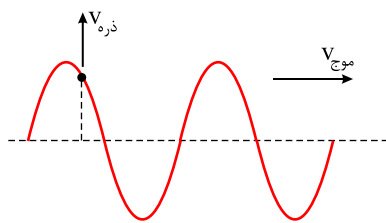


۱۰۴ مطابق شکل چند آونگ را از سیمی آویخته‌ایم. توضیح دهید با به نوسان درآوردن آونگ X، آونگ‌های دیگر چگونه نوسان می‌کنند؟



۱۰۵ هر فرد معمولاً با چرخش اندک بدنش به چپ و راست، راه می‌رود و بدین ترتیب نیروهای کوچکی به زمین زیر پایش وارد می‌کند. این نیروها بسامدی در حدود $0,5 Hz$ دارند. لرزش شدید پل هوایی میلینیوم در آغاز هزاره جدید را به عبور منظم گروهی از افراد از این پل ربط داده‌اند. چگونه ممکن است نوسان‌های بدن این افراد موجب چنین لرزشی شده باشد؟

۱۰۶ یکی از ویژگی‌های موج پیش‌رونده، انتقال انرژی از یک نقطه به نقطه دیگر، در جهت انتشار موج است. با در نظر گرفتن یک تب طولی در یک فنر بلند کشیده‌شده، این ویژگی را توضیح دهید.



۱۰۷ شکل زیر موجی عرضی در یک ریسمان را نشان می‌دهد که با تندی v موج به سمت راست حرکت می‌کند، در حالی که تندی ذره نشان داده‌شده ریسمان v است. آیا این دو تندی با هم برابرند؟ توضیح دهید.



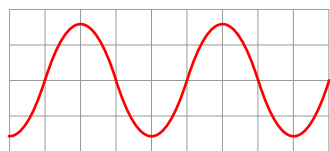
۱۰۸ در سازه‌های زهی مانند تار، کمانچه و گیتار با سفت یا شل کردن تار، تندی انتشار موج عرضی در تار تغییر می‌کند. در یک گیتار طول هر تار بین دو انتهای ثابت $۰.۶۲۸m$ است. برای نواختن بالاترین بسامد، جرم تار $۰.۲۰۸g$ و برای نواختن پایین‌ترین بسامد، جرم تار $۳.۳۲g$ است. تارها تحت کششی برابر $۲۲۶N$ قرار دارند. تندی انتشار موج برای ایجاد این دو بسامد چقدر است؟

۱۰۹ سیمی با چگالی $۷.۸۰ \frac{g}{cm^3}$ و سطح مقطع $۰.۵۰mm^2$ بین دو نقطه با نیروی $۱۵۶N$ کشیده شده است. تندی انتشار موج عرضی را در این سیم محاسبه کنید.

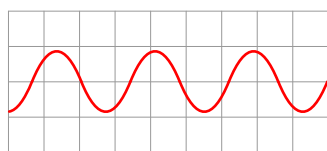
۱۱۰ یک نوسان‌ساز موج‌هایی دوره‌ای در یک ریسمان کشیده ایجاد می‌کند.

(الف) با افزایش بسامد نوسان‌ساز کدام یک از کمیت‌های زیر تغییر نمی‌کند؟ بسامد موج، تندی موج، طول موج

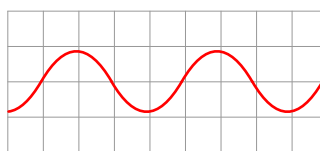
(ب) حال اگر به جای افزایش بسامد، کشش ریسمان را افزایش دهیم، هر یک از کمیت‌های زیر چه تغییری می‌کند؟ بسامد موج، تندی موج، طول موج.



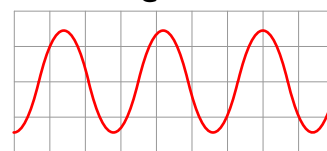
۱۱۱ شکل روبه‌رو موجی عرضی را نشان می‌دهد. دامنه و طول موج هر کدام از شکل موج‌های (الف)، (ب) و (پ) را با دامنه و طول موج این شکل مقایسه کنید.



(ب)

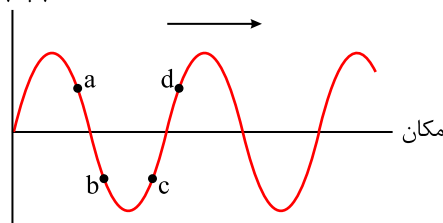


(پ)



(الف)

جابه‌جایی



مکان

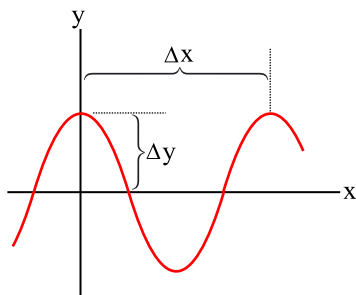
۱۱۲ شکل زیر یک موج سینوسی را در لحظه‌ای از زمان نشان می‌دهد که در جهت محور X در

طول ریسمان کشیده شده‌ای حرکت می‌کند. چهار جزء از این ریسمان روی شکل نشان داده شده‌اند.

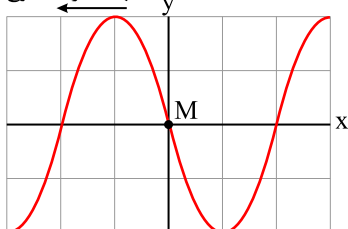
در این لحظه هر یک از این چهار جزء بالا می‌روند یا پایین؟

۱۱۳ در نمودار جابه‌جایی - مکان موج عرضی شکل زیر $\Delta x = ۴۰.۰cm$ و $\Delta y = ۱۵.۰cm$ است. اگر

بسامد نوسان‌های چشمه $۸۰.۰Hz$ باشد، طول موج، دامنه، تندی و دوره تناوب موج چقدر است؟



جهت حرکت موج



۱۱۴ شکل زیر یک تصویر لحظه‌ای از موجی عرضی در یک ریسمان کشیده شده را نشان می‌دهد. موج به

سمت چپ حرکت می‌کند.

الف با رسم این موج در زمان $\frac{T}{۴}$ بعد، نشان دهید جزء M ریسمان در این مدت در چه جهتی حرکت کرده است. همچنین روی این موج، دامنه موج و طول موج را نشان دهید.

ب اگر طول موج $۵.۰cm$ و تندی موج $۱۰ \frac{cm}{s}$ باشد، بسامد موج را به دست آورید.

پ تعیین کنید موج در مدت $\frac{T}{۴}$ چه مسافتی را پیموده است؟

۱۱۵ شکل زیر طیف موج‌های الکترومغناطیسی را با یک مقیاس تقریبی نشان می‌دهد.



| | | | | | | |
|------------------|-----------|---|---|---|---|---|
| | پرتوهای X | P | Q | R | S | T |
| پرتوهای γ | | | | | | |

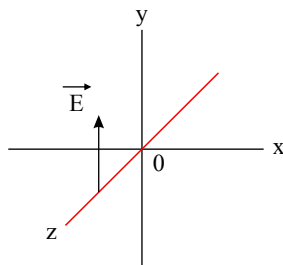
الف) نام قسمت‌هایی از طیف را که با حروف علامت گذاری شده‌اند، بنویسید.

ب) اگر در طول طیف از چپ به راست حرکت کنیم، مقدار کدام مشخصه‌های موج افزایش یا کاهش می‌یابد و کدام ثابت می‌ماند؟

۱۱۶) الف) طول موج نور نارنجی در هوا حدود $6,20 \times 10^{-7} m$ است، بسامد این نور چند هرتز است؟


ب) بسامد نور قرمز حدود $4,30 \times 10^{14} Hz$ است. طول موج این نور را در هوا و آب حساب کنید. (سرعت نور را در هوا $3,0 \times 10^8 \frac{m}{s}$ و در آب $2,25 \times 10^8 \frac{m}{s}$ فرض کنید.)

۱۱۷) شکل زیر میدان الکتریکی یک موج الکترومغناطیسی سینوسی را در نقطه‌ای معین و دور از چشمه، در یک لحظه نشان می‌دهد. موج انرژی را در خلاف جهت محور z انتقال می‌دهد. جهت میدان مغناطیسی موج را در این نقطه و این لحظه تعیین کنید.



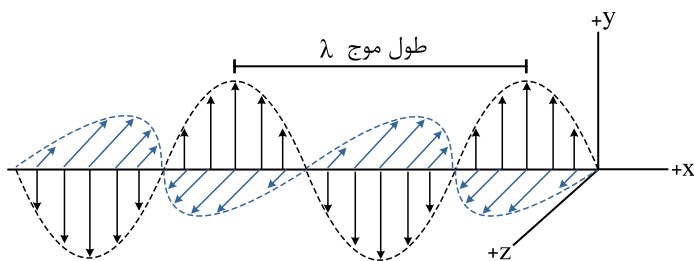
۱۱۸) در مورد نواحی اصلی طیف امواج الکترومغناطیسی، چگونگی تولید و کاربردهای آنها تحقیق کنید.

۱۱۹) مطابق شکل روبه‌رو یک گوشی تلفن همراه را در یک محفظه تخلیه هوای شیشه‌ای آویزان کنید. برقراری تماس با گوشی، صدای آن را خواهید شنید. ولی با به کار افتادن پمپ تخلیه هوا، صدا به تدریج ضعیف و سرانجام خاموش می‌شود، در حالی که امواج الکترومغناطیسی همچنان به گوش می‌رسند. از این آزمایش چه نتیجه‌ای می‌گیرید؟



۱۲۰) طول آنتن یک گوشی تلفن همراه قدیمی معمولاً $\frac{1}{4}$ طول موج دریافتی است. اگر طول چنین آنتنی تقریباً برابر $8,5 cm$ باشد، بسامدی را که این گوشی با آن کار می‌کند تعیین کنید.

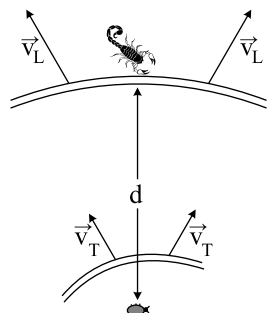
۱۲۱) در یک لحظه خاص، میدان الکتریکی مربوط به یک موج الکترومغناطیسی در نقطه‌ای از فضا در جهت +z و میدان مغناطیسی مربوط به آن در جهت +y است. جهت انتشار در کدام سو است؟ (جهت‌های +x، +y و +z را مانند شکل در نظر بگیرید.)



۱۲۲) چشمه موجی با بسامد $10 Hz$ در یک محیط که تندی انتشار موج در آن $100 \frac{m}{s}$ است، نوسان‌هایی طولی ایجاد می‌کند. اگر دامنه نوسان‌ها $4,0 cm$ باشد،

الف) فاصله بین دو تراکم متوالی این موج چقدر است؟

ب) فاصله بین یک تراکم و یک انبساط متوالی چقدر است؟



۱۲۳) عقرب‌های ماسه‌ای وجود طعمه را با امواجی که بر اثر حرکت طعمه در ساحل شنی ایجاد می‌شود، احساس می‌کنند. این امواج که در سطح ماسه منتشر می‌شوند، بر دو نوع‌اند: امواج عرضی با تندی $v_T = 50 \frac{m}{s}$ و امواج طولی با تندی $v_L = 150 \frac{m}{s}$. عقرب ماسه‌ای می‌تواند با استفاده از اختلاف زمانی بین رسیدن این امواج به نزدیک‌ترین پای خود، فاصله خود از طعمه را تعیین کند. اگر این اختلاف زمان برابر $\Delta t = 4,0 ms$ باشد، طعمه در چه فاصله‌ای از عقرب قرار دارد؟



۱۲۴) توضیح دهید کدام یک از عامل‌های زیر بر تندی صوت در هوا مؤثر است.

الف) شکل موج (ب) دامنه موج (پ) بسامد موج (ت) دمای هوا

۱۲۵) تندی صوت در یک فلز خاص، برابر فلز v است. به یک سر لوله توخالی بلندی از جنس این فلز به طول L ضربه محکمی می‌زنیم. شنونده‌ای که در سر دیگر این لوله قرار دارد دو صدا را می‌شنود. یکی ناشی از موجی است که از دیواره لوله می‌گذرد و دیگری از موجی است که از طریق هوای داخل لوله عبور می‌کند.

الف) اگر تندی صوت در هوا $v_{\text{هوا}}$ باشد، بازه زمانی Δt بین دریافت این دو صدا در گوش شنونده چقدر خواهد بود؟ $(v_{\text{هوا}} = 340 \frac{m}{s})$

ب) اگر $\Delta t = 1,00 s$ و فلز از جنس فولاد باشد، طول L اولیه چقدر است؟ $(v_{\text{فولاد}} = 5941 \frac{m}{s})$

۱۲۶) شخصی با چکش، به انتهای میله باریک بلندی ضربه‌ای می‌زند. تندی صوت در این میله ۱۵ برابر تندی صوت در هوا است. شخص دیگری که گوش خود را نزدیک به انتهای دیگر میله گذاشته است، دو صدا را که یکی از میله می‌آید و دیگری از هوای اطراف میله، با اختلاف زمانی $0,12 s$ می‌شنود. اگر تندی صوت در هوا $340 \frac{m}{s}$ باشد، طول میله چقدر است؟

۱۲۷) الف) چگونگی ایجاد صوت توسط دیپازون را توضیح دهید.

ب) به نظر شما چه ساز و کاری موجب صدای وزوز حشرات هنگام پرواز می‌شود؟

۱۲۸) در سونوگرافی معمولاً از کاوهای دستی موسوم به تراگذار فراصوتی برای تشخیص پزشکی استفاده می‌شود که دقیقاً روی ناحیه مورد نظر از بدن بیمار گذاشته و حرکت داده می‌شود. این کاوه در بسامد $6,7 MHz$ عمل می‌کند.



الف) بسامد زاویه‌ای در این کاوه نوسان چقدر است؟

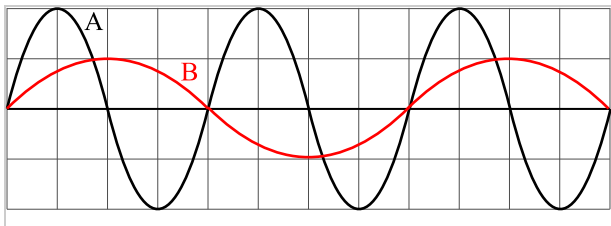
ب) اگر تندی موج صوتی در بافتی نرم از بدن $1500 \frac{m}{s}$ باشد، طول موج این موج در این بافت چقدر است؟

۱۲۹) در یک آتش بازی، موشکی در بالای آسمان منفجر می‌شود. فرض کنید صوت به‌طور یکنواخت در تمام جهتها منتشر شود. از جذب انرژی صوتی در محیط و نیز از بازتابی که ممکن است امواج صوتی از زمین پیدا کند چشم‌پوشی کنید. با فرض اینکه صوت با شدت $I = 0,1 \frac{W}{m^2}$ به شنونده‌ای برسد که به فاصله $r_1 = 640 m$ از محل انفجار قرار دارد، این صوت به شنونده‌ای که در فاصله $r_2 = 160 m$ از محل انفجار قرار دارد با چه شدتی می‌رسد؟

۱۳۰) موجی صوتی با توان $10^{-4} W$ از دو صفحه فرضی مطابق شکل می‌گذرد. اگر مساحت صفحه‌ها به ترتیب $A_1 = 4,0 m^2$ و $A_2 = 12 m^2$ باشد، شدت صوت در دو سطح را تعیین کنید و توضیح دهید چرا شنونده در محل صفحه دوم، صدا را آهسته‌تر می‌شنود؟

۱۳۱) با زیاد کردن صدای تلویزیونی، شدت صوتی که به گوش ما می‌رسد 100 برابر می‌شود. تراز شدت صوتی که می‌شنویم چند دسی بل افزایش یافته است؟

۱۳۲) نمودار جابه‌جایی - مکان دو موج صوتی A و B که در محیط منتشر شده‌اند، به‌صورت زیر است. دامنه، طول موج، بسامد و شدت این دو موج صوتی را با هم مقایسه کنید.



۱۳۳) یک دستگاه صوتی، صدایی با تراز شدت $\beta_1 = 90,0 dB$ و دستگاه صوتی دیگر، صدایی با تراز شدت $\beta_2 = 95,0 dB$ ایجاد می‌کند.

شدت‌ها، مربوط به این دو تراز (بر حسب $\frac{W}{m^2}$) به ترتیب I_1 و I_2 هستند. نسبت $\frac{I_2}{I_1}$ را تعیین کنید.

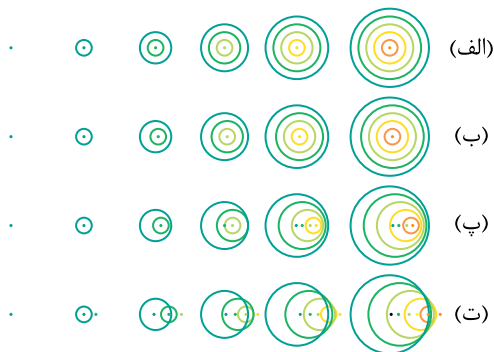


۱۳۴ اگر به مدت ۱۰ دقیقه در معرض صوتی با تراز شدت 10 dB باشیم، آستانه شنوایی به طور موقت از 28 dB به 20 dB افزایش می‌یابد. مطالعات نشان داده است که به طور متوسط اگر به مدت ۱۰ سال در معرض صدایی با تراز شدت 92 dB قرار گیریم، آستانه شنوایی به طور دائم به 28 dB افزایش می‌یابد. شدت‌های صوتی مربوط به 28 dB و 92 dB چقدر است؟

۱۳۵ شدت صدای حاصل از یک مته سنگ‌شکن در فاصله 100 m از آن $10^{-2} \frac{\text{W}}{\text{m}^2}$ است. تراز شدت صوتی آن برحسب dB چقدر می‌شود؟

۱۳۶ در هر ردیف شکل روبه‌رو، جبهه‌های موج متوالی حاصل از یک چشمه را می‌بینید. الف) تندی چشمه‌ها را با هم مقایسه کنید.

ب) تندی هر چشمه را با تندی صوت مقایسه کنید.



۱۳۷ شکل مقابل جهت‌های حرکت یک چشمه صوتی و یک ناظر (شنونده) را در وضعیت‌های مختلف نشان می‌دهد.

بسامدی را که ناظر در حالت‌های مختلف می‌شنود با حالت‌های الف مقایسه کنید.

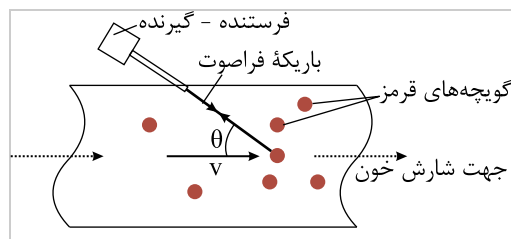
| چشمه | ناظر (شنونده) | |
|------|---------------|-------|
| • | • | (الف) |
| → | • | (ب) |
| ← | • | (پ) |
| • | → | (ت) |
| • | ← | (ث) |
| → | ← | (ج) |
| ← | → | (چ) |

۱۳۸ دانش‌آموزی بین دو صخره قائم ایستاده و فاصله او از صخره نزدیک‌تر 240 m است. دانش‌آموز فریاد می‌زند و اولین پژواک صدای خود را پس از 1.5 ثانیه و صدای پژواک دوم را 1 ثانیه بعد از پژواک اول می‌شنود.

الف) تندی صوت در هوا چقدر است؟

ب) فاصله بین دو صخره را بیابید.

۱۳۹ اندازه‌گیری تندی شارش خون:



از مکان‌یابی پژواکی به همراه اثر دوپلر می‌توان برای تعیین تندی شارش خون (گویچه‌های قرمز) در رگ‌ها استفاده کرد. در مورد چگونگی این فناوری تحقیق کنید.

۱۴۰ رادار دوپلری: از امواج الکترومغناطیسی نیز می‌توان برای مکان‌یابی پژواکی استفاده کرد.

در این مورد و کاربرد آن به خصوص در تعیین تندی خودروها تحقیق کنید.



۱۴۱ کمترین فاصله بین شما و یک دیوار بلند چقدر باشد تا پژواک صدای خود را از صدای اصلی تمیز دهید؟ تندی صوت در هوا را $340 \frac{\text{m}}{\text{s}}$ در نظر




۱۴۲ درباره میکروفون سهموی که از آن برای ثبت صداهای ضعیف و دستگاه لیتوتریپسی که از آن برای شکستن سنگ‌های کلیه، با کمک بازتابنده‌های بیضوی استفاده می‌شود تحقیق کنید.




تصویری از یک میکروفون سهموی

۱۴۳ با اسباب نشان داده‌شده در شکل روبه‌رو، می‌توان زاویه تابش و زاویه بازتابش را در امواج صوتی اندازه‌گیری کرد.



نمایشی از اسباب آزمایش بازتاب صوت

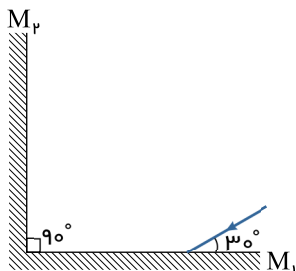
با استفاده از این اسباب، قانون بازتاب عمومی را برای امواج صوتی تحقیق کنید.



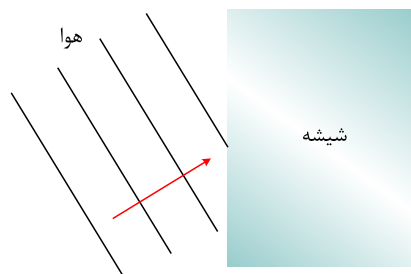
تصویری از معبد کولکان

۱۴۴ اگر در فاصله مناسبی از یک رشته پلکان بلند بایستید و یک بار کف بزنید، پژواکی بیشتر از یک صدای برهم زدن دست می‌شنوید. نمونه جالبی از این پدیده در برابر رشته پله‌های معبد قدیمی کولکان در مکزیک رخ می‌دهد. این معبد از ۹۲ پله سنگی تشکیل شده است. در مورد چنین پژواکی توضیح دهید.

۱۴۵ در شکل‌های زیر پرتوهای بازتابیده از آینه‌های تخت M_1 و M_2 را رسم کنید.



۱۴۶ وقتی یک باریکه لیزر را به دیوار کلاس می‌تابانیم، همه دانش‌آموزان نقطه رنگی ایجادشده روی دیوار را می‌بینند. دلیل آن چیست؟



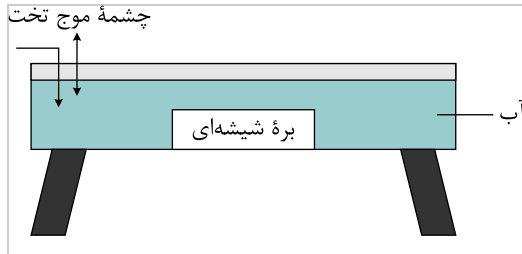
۱۴۷ در شکل زیر موج نوری فرودی از هوا وارد شیشه می‌شود. بخشی از موج در سطح جدایی دو محیط باز می‌تابد و بخشی دیگر شکست می‌یابد و وارد شیشه می‌شود.

۱) طول موج بازتابیده را با موج فرودی مقایسه کنید.

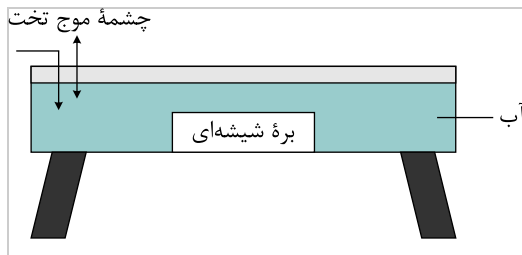
۲) جبهه‌های موج شکست‌یافته را رسم کنید.



۱۴۸ در تشت موج شکل زیر، تندی امواج در ناحیه کم عمق 0.4 برابر تندی در ناحیه عمیق است. اگر زاویه تابش امواج در آب 30° باشد، زاویه شکست چقدر می شود؟



۱۴۹ در یک تشت موج به کمک یک نوسان ساز تیغه‌ای که با بسامد 500 Hz کار می کند، امواجی تخت ایجاد می کنیم، به طوری که فاصله بین دو برآمدگی متوالی آن برابر با 10 cm می شود.

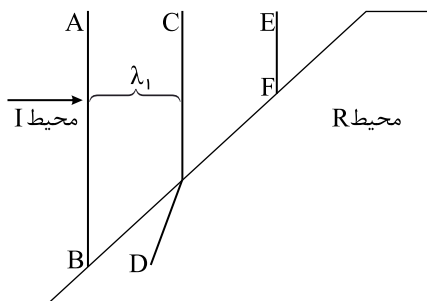


اگر اکنون بره‌های شیشه‌ای را در کف تشت قرار دهیم، امواج در ورود به ناحیه کم عمق بالای بره، شکست پیدا می کنند. اگر تندی امواج در ناحیه کم عمق، 0.4 برابر تندی در ناحیه عمیق باشد، طول موج امواج در ناحیه کم عمق چقدر می شود؟

۱۵۰ اگر موج سینوسی از قسمت ضخیم طناب به قسمت نازک آن وارد شود، بسامد، تندی و طول موج عبوری در مقایسه با موج فرودی چه تغییری می کند؟

۱۵۱ ضریب شکست آب 1.3 و ضریب شکست شیشه 1.5 است. اگر نوری به طور مایل از آب به مرز شیشه با آب بتابد، با رسم نموداری، جبهه‌های موج را در دو محیط نشان دهید.

۱۵۲ با رسم شکلی از جبهه‌های موج توضیح دهید چگونه جهت انتشار جبهه‌های موج با رسیدن به یک ساحل شیب دار، تغییر می کند.



۱۵۳ شکل زیر جبهه‌های موجی را نشان می دهد که بر مرز بین محیط I و محیط R فرود آمده اند.

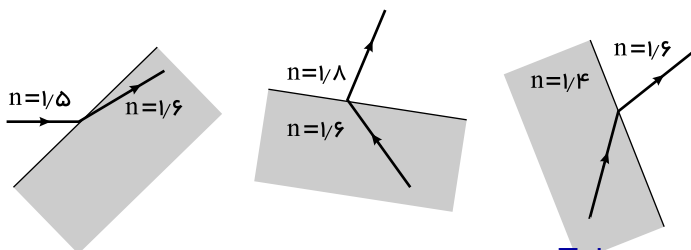
الف ادامه جبهه موج EF را در محیط R رسم کنید.

ب توضیح دهید در کدام محیط تندی موج بیشتر است.

پ آیا با استفاده از این نمودار می توان نسبت تندی موج عبوری به موج فرودی را محاسبه کرد؟

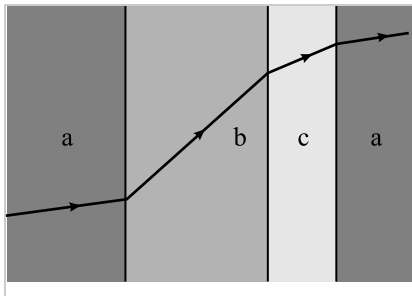
۱۵۴ با کمک یک تیغه متوازی السطوح و یک لیزر تک رنگ، آزمایشی را طراحی و اجرا کنید که به کمک آن بتوان ضریب شکست یک تیغه متوازی السطوح شفاف را اندازه گرفت.

۱۵۵ کدام یک از سه شکل زیر یک شکست را نشان می دهد که از لحاظ فیزیکی ممکن است؟





۱۵۶ شکل روبه‌رو یک پرتوی موج الکترومغناطیسی را نشان می‌دهد که با عبور از محیط اولیه a ، از طریق محیط‌های b و c به محیط a بازمی‌گردد.



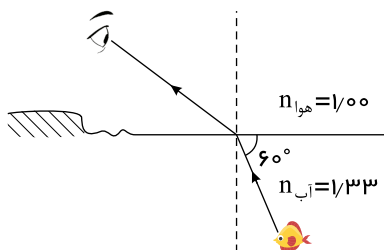
این محیط‌ها را برحسب تندی موج در آنها از بیشترین تا کمترین مرتب کنید.

۱۵۷ طول موج نور قرمز لیزر هلیم - نئون در هوا حدود 633nm است، ولی در زجاجیه چشم 474nm است. الف) بسامد این نور چقدر است؟ ب)

ضریب شکست زجاجیه برای این نور چقدر است؟ پ) تندی این نور در زجاجیه را محاسبه کنید.

۱۵۸ مطابق شکل، پرتو نوری که از ماهی به چشمان شخص می‌رسد تحت زاویه 60° به مرز آب - هوا برخورد کرده است. زاویه شکست این پرتو

در هوا چقدر است؟

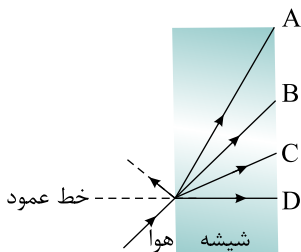


۱۵۹ سکه‌ای را در گوشه فنجانی خالی قرار دهید و طوری مقابل آن قرار بگیرید که نتوانید سکه را ببینید. سپس بی‌آنکه سرتان را حرکت دهید

به آرامی در فنجان آب بریزید، به طوری که آب ریختن شما موجب جابه‌جایی سکه نشود. با پر شدن فنجان، سکه را خواهید دید. با رسم پرتوها علت

دیده شدن را توضیح دهید.

۱۶۰ شکل زیر پرتویی را نشان می‌دهد که از هوا وارد شیشه شده است. کدام گزینه‌های A تا D ، می‌تواند پرتوی داخل شیشه را نشان دهد؟

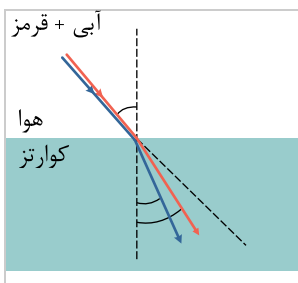


۱۶۱ دو دانش‌آموز به نور زرد نگاه می‌کنند. یکی از آنها نور زرد را ترکیب دو نور قرمز و سبز و دیگری آن را از یک نوع رنگ می‌داند. به نظر شما

با چه تجربه‌ای می‌توان از این دو نظر، یکی را انتخاب کرد؟

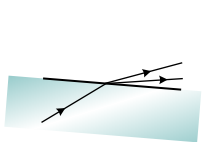
۱۶۲ شکل روبه‌رو باریکه نوری متشکل از دو پرتوی قرمز و آبی را نشان می‌دهد که از هوا و با زاویه تابش 45° بر سطح تیغه تختی از کوارتز

می‌تابد. زاویه‌های شکست برای این دو پرتو را محاسبه کنید.

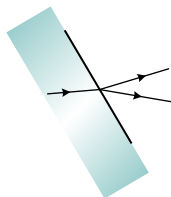


ضریب شکست نورهای قرمز و آبی در کوارتز به ترتیب برابرند با $n_{\text{قرمز}} = 1,459$ و $n_{\text{آبی}} = 1,467$.

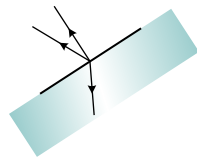
۱۶۳ در شکل‌های زیر، پرتوی فرودی که شامل نورهای قرمز و آبی است از شیشه وارد هوای رقیق شده است. کدام شکل، شکستی را نشان می‌دهد که از لحاظ فیزیکی ممکن است؟



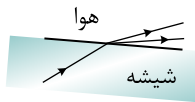
(ت)



(پ)



(ب)

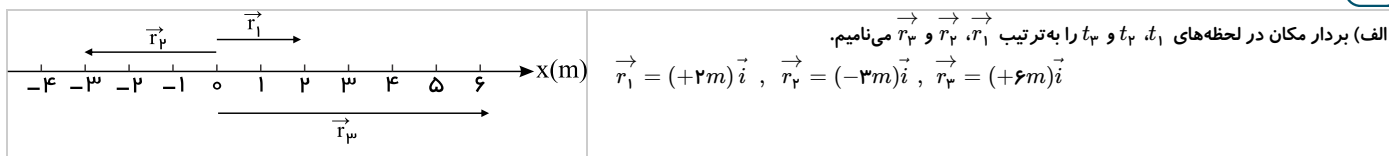


(الف)

پاسخنامه تشریحی

۲۶

۱



(ب)

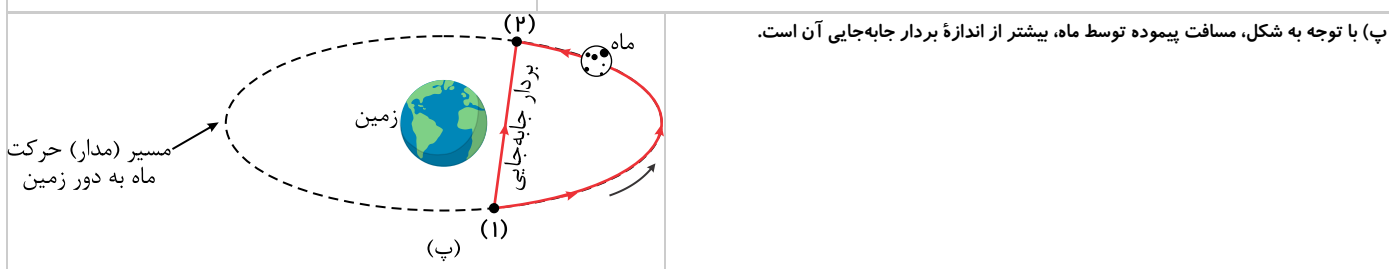
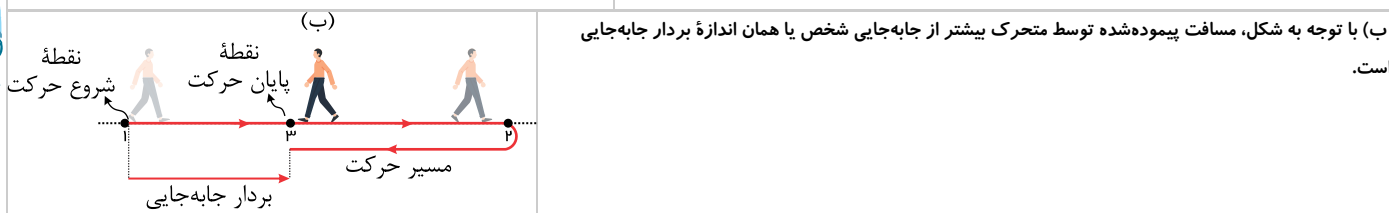
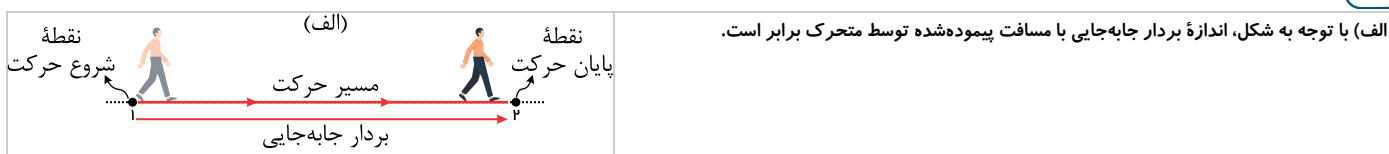
$$t_1 < t < t_2 \Rightarrow \vec{d}_{12} = \vec{r}_2 - \vec{r}_1 = (-3m)\vec{i} - (+2m)\vec{i} = (-5m)\vec{i}$$

$$t_2 < t < t_3 \Rightarrow \vec{d}_{23} = \vec{r}_3 - \vec{r}_2 = (+6m)\vec{i} - (-3m)\vec{i} = (+9m)\vec{i}$$

$$t_1 < t < t_3 \Rightarrow \vec{d}_{13} = \vec{r}_3 - \vec{r}_1 = (+6m)\vec{i} - (+2m)\vec{i} = (+4m)\vec{i}$$

۲ با توجه به شکل و مقیاس نقشه، اندازه بردار جابه‌جایی تقریباً ۳۲۰ متر و مسافت پیموده شده ۵۵۰ متر است.

۳



۴

(الف) مدت زمان حرکت خودرو یک ساعت و بیست دقیقه (۸۰ دقیقه) است.

$$\Delta t = 80 \text{ min} = \frac{80}{60} h = \frac{4}{3} h \quad s_{av} = \frac{l}{\Delta t} = \frac{18 \text{ km}}{\left(\frac{4}{3} h\right)} = 66 \frac{\text{km}}{h}$$

$$v_{av} = \frac{d}{\Delta t} = \frac{60 \text{ km}}{\left(\frac{4}{3} h\right)} = 45 \frac{\text{km}}{h}$$

(ب) تندی متوسط، یک کمیت نرده‌ای (عددی) است و تنها مقدار دارد؛ اما سرعت متوسط، یک کمیت برداری و دارای مقدار و جهت (راستا و سو) است که ما تنها مقدار آن را حساب کرده‌ایم. جهت سرعت متوسط همان جهت جابه‌جایی است که تقریباً به سوی شمال است.

(پ) اگر مسیر حرکت خودرو مستقیم باشد و خودرو تغییر جهت ندهد، اندازه جابه‌جایی با مسافت برابر می‌شود؛ در نتیجه، اندازه سرعت متوسط برابر می‌شوند.

۵ اگر یک متحرک روی خط راست و در یک جهت حرکت کند (تغییر جهت نداشته باشد)، اندازه جابه‌جایی متحرک با مسافت پیموده شده توسط آن برابر است؛ در نتیجه، اندازه سرعت متوسط با تندی متوسط برابر می‌شود.

۶



| جهت حرکت | سرعت متوسط | بردار جابه‌جایی | مکان پایانی | مکان آغازین | |
|----------|------------------------------|-------------------|-------------------|--------------------|---------|
| مثبت | $(2,1 \frac{m}{s}) \vec{i}$ | $(8,4m) \vec{i}$ | $(6,4m) \vec{i}$ | $(-2,0 m) \vec{i}$ | متحرک A |
| منفی | $(-1,4 \frac{m}{s}) \vec{i}$ | $(-5,6m) \vec{i}$ | $(-2,5m) \vec{i}$ | $(3,1m) \vec{i}$ | متحرک B |
| مثبت | $(1,65 \frac{m}{s}) \vec{i}$ | $(6,6m) \vec{i}$ | $(8,6m) \vec{i}$ | $(2,0m) \vec{i}$ | متحرک C |
| مثبت | $(2,4 \frac{m}{s}) \vec{i}$ | $(9,6m) \vec{i}$ | $(8,2m) \vec{i}$ | $(-1,4m) \vec{i}$ | متحرک D |

(الف) ۷

$$x = t^3 - 3t^2 + 4$$

$$\begin{cases} t = 0s \Rightarrow x(0s) = 4m \\ t = 2s \Rightarrow x(2s) = 2^3 - 3 \times 2^2 + 4 = 0m \end{cases}$$

(ب)

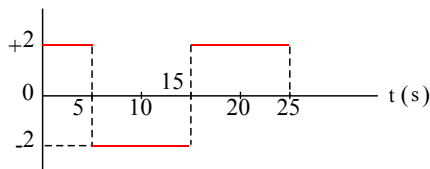
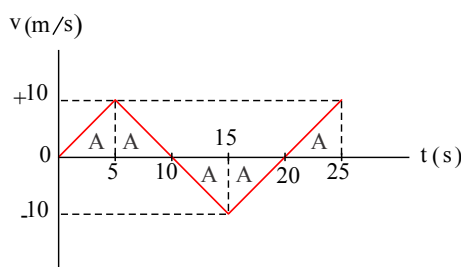
$$v_{av} = \frac{x(2s) - x(0s)}{2s - 0s} = \frac{(0m) - (4m)}{2s} = -2 \frac{m}{s}$$

(الف) ابتدا شتاب متحرک در هر مرحله را به دست می‌آوریم: ۸

$$0s < t < 5s \Rightarrow a = \frac{v(5s) - v(0s)}{5s - 0s} = \frac{10 \frac{m}{s} - 0 \frac{m}{s}}{5s} = +2 \frac{m}{s^2}$$

$$5s < t < 15s \Rightarrow a = \frac{v(15s) - v(5s)}{15s - 5s} = \frac{(-10 \frac{m}{s}) - (10 \frac{m}{s})}{10s} = -2 \frac{m}{s^2}$$

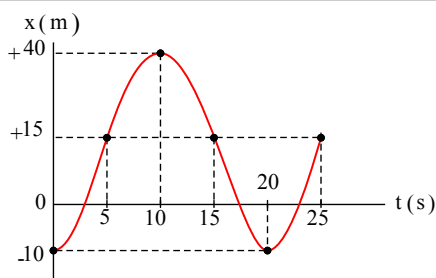
$$15s < t < 25s \Rightarrow a = \frac{v(25s) - v(15s)}{25s - 15s} = \frac{(10 \frac{m}{s}) - (-10 \frac{m}{s})}{10s} = +2 \frac{m}{s^2}$$

a (m/s²)(ب) سطح محصور میان منحنی $v-t$ و محور زمان، برابر جابه‌جایی است.

$$A = \frac{1}{2} \times 10 \frac{m}{s} \times 5s = 25m$$

$$\begin{cases} 0s < t < 5s \Rightarrow \Delta x_1 = +A = +25m \\ 5s < t < 15s \Rightarrow \Delta x_2 = +A = +25m \\ 15s < t < 20s \Rightarrow \Delta x_3 = -A = -25m \\ 20s < t < 25s \Rightarrow \Delta x_4 = -A = -25m \\ 15s < t < 25s \Rightarrow \Delta x_5 = +A = +25m \end{cases}$$

$$\begin{cases} \Delta x_1 = x_5 - x_0 \Rightarrow x_5 = x_0 + \Delta x_1 = (-10m) + 25m = +15m \\ \Delta x_2 = x_{15} - x_5 \Rightarrow x_{15} = x_5 + \Delta x_2 = (+15m) + 25m = +40m \\ \Delta x_3 = x_{20} - x_{15} \Rightarrow x_{20} = x_{15} + \Delta x_3 = (+40m) - 25m = +15m \\ \Delta x_4 = x_{25} - x_{20} \Rightarrow x_{25} = x_{20} + \Delta x_4 = (+15m) - 25m = -10m \\ \Delta x_5 = x_{25} - x_{15} \Rightarrow x_{25} = x_{15} + \Delta x_5 = (-10m) + 25m = +15m \end{cases}$$



با توجه به مکان متحرک در لحظه‌های صفر، 5s، 10s، 15s، 20s و 25s و همچنین نمودار

سرعت - زمان، نمودار مکان - زمان متحرک به شکل روبه‌رو رسم می‌شود:

(توجه کنید که شیب نمودار مکان - زمان برابر سرعت است و با توجه به تغییرات سرعت، شیب نمودار

مکان - زمان تغییر می‌کند.)

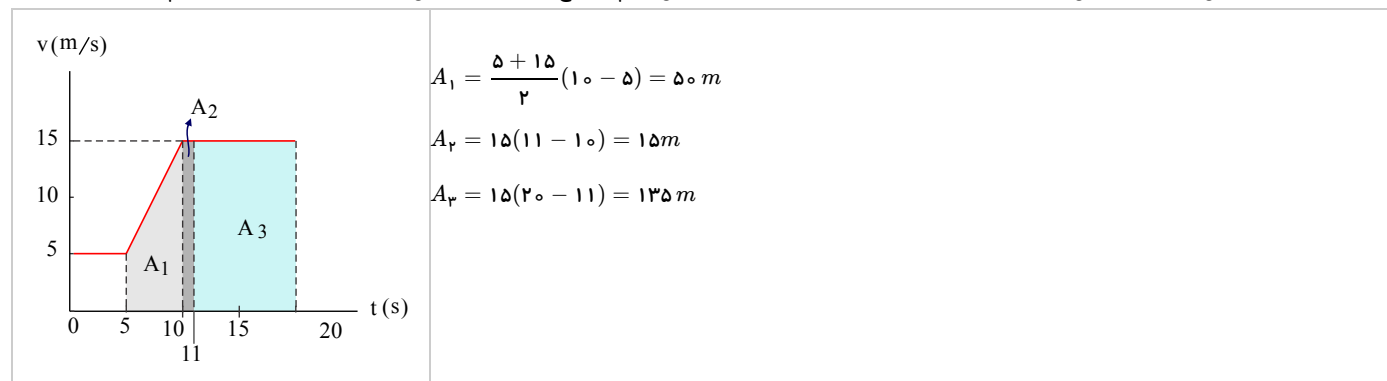


$$a(As) = \frac{v(10s) - v(5s)}{10s - 5s} = \frac{15 \frac{m}{s} - 5 \frac{m}{s}}{5s} = 2 \frac{m}{s^2}$$

(ب)

$$0s < t < 20s \Rightarrow a_{av} = \frac{v(20s) - v(0s)}{20s - 0s} = \frac{15 \frac{m}{s} - 5 \frac{m}{s}}{20s} = \frac{1}{2} \frac{m}{s^2}$$

(پ) برای محاسبه جابه‌جایی در بازه‌های زمانی $t_1 = 5s$ تا $t_2 = 11s$ و $t_3 = 11s$ تا $t_4 = 20s$ می‌توانیم از سطح محصور میان منحنی $v-t$ و محور زمان استفاده کنیم.



(ت)

$$t_1 \text{ تا } t_2 \Rightarrow (v_{av})_{12} = \frac{\Delta x_{12}}{t_2 - t_1} = \frac{65m}{11s - 5s} = \frac{65}{6} \frac{m}{s}$$

$$t_2 \text{ تا } t_3 \Rightarrow (v_{av})_{23} = \frac{\Delta x_{23}}{t_3 - t_2} = \frac{135m}{20s - 11s} = 15 \frac{m}{s}$$

توجه: در بازه زمانی t_1 تا t_2 سرعت ثابت است.

10 الف

$$a_{AB} = \frac{v_B - v_A}{t_B - t_A} = \frac{4 \frac{m}{s} - 0 \frac{m}{s}}{8s - 0s} = 0.5 \frac{m}{s^2}$$

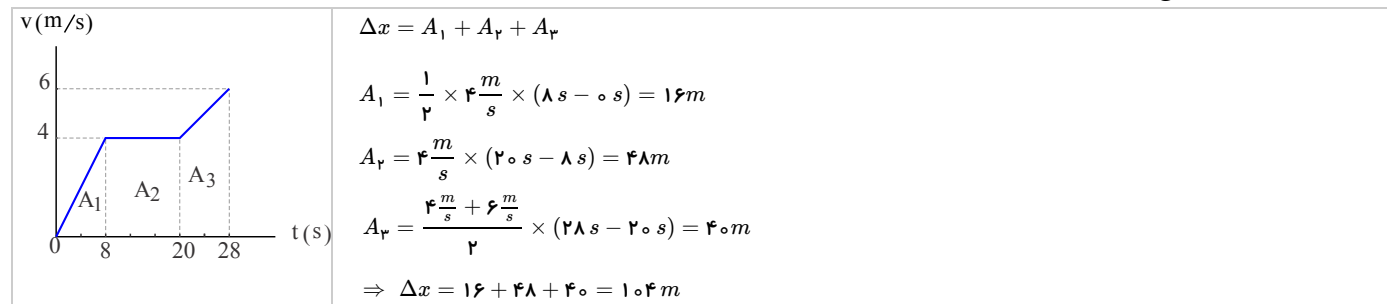
$$a_{BC} = \frac{v_C - v_B}{t_C - t_B} = 0$$

$$a_{CD} = \frac{v_D - v_C}{t_D - t_C} = \frac{6 \frac{m}{s} - 4 \frac{m}{s}}{20s - 8s} = 0.25 \frac{m}{s^2}$$

(ب)

$$0s < t < 20s \Rightarrow a_{av} = \frac{v_D - v_A}{t_D - t_A} = \frac{6 \frac{m}{s} - 0 \frac{m}{s}}{20s - 0s} = \frac{3}{10} \frac{m}{s^2}$$

(پ) جابه‌جایی متحرک برابر سطح محصور بین منحنی $v-t$ و محور زمان است.



11 الف) منحنی نمودار سرعت - زمان متحرک‌ها خط راست است؛ پس شتاب متحرک‌ها ثابت و برابر شیب خط نمودار سرعت - زمان است.

با توجه به نمودار، شتاب متحرک B صفر است (خط B افقی است) و شتاب متحرک‌های A و C مثبت و شتاب متحرک C از شتاب متحرک A بیشتر است.

(ب)

$$a_A = \text{شیب خط A} = \frac{4 \frac{m}{s} - 0 \frac{m}{s}}{8s - 0s} = 0.5 \frac{m}{s^2}$$

$$a_B = \text{شیب خط B} = 0$$

$$a_C = \text{شیب خط C} = \frac{6 \frac{m}{s} - 4 \frac{m}{s}}{8s - 0s} = 0.25 \frac{m}{s^2}$$

(پ) سطح محصور میان منحنی سرعت - زمان و محور زمان، برابر جابه‌جایی است.

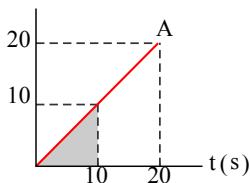
$$\Delta x_A = \frac{1}{2} \times 4 \frac{m}{s} \times 8s = 16m$$

$$\Delta x_B = 4 \frac{m}{s} \times 20s = 80m$$

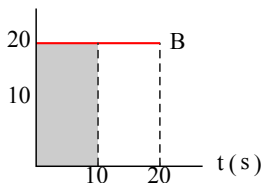


$$\Delta x_C = \frac{1}{2} \times 20 \frac{m}{s} \times 10 s = 100 m$$

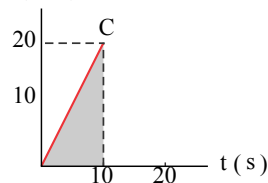
v(m/s)



v(m/s)



v(m/s)



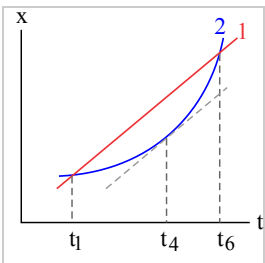
۱۲ الف) در لحظه t_1 و لحظه t_2 خودروها در یک مکان قرار می‌گیرند و از کنار هم می‌گذرند.

ب) منحنی ۱، خط راست است و مربوط به خودرویی است که با تندی ثابت حرکت می‌کند.

منحنی ۲، مربوط به خودرویی است که تندی آن در حال افزایش است.

در لحظه t_4 خط مماس بر منحنی ۲، با خط ۱ موازی می‌شود؛ در نتیجه، تندی خودروی ۲ در لحظه t_4 با تندی خودروی ۱ برابر می‌شود.

پ) در بازه زمانی t_1 تا t_2 جابه‌جایی خودروها برابر است؛ پس سرعت متوسط خودروها نیز در این بازه زمانی برابر است.



۱۳ نمودار مکان - زمان (مکان جسم بر حسب زمان) همواره یک تابع است؛ یعنی به ازای هر مقدار t ، حداکثر یک مقدار برای x می‌تواند وجود داشته باشد و متحرک در یک لحظه نمی‌تواند در چند مکان قرار داشته باشد.

بنابراین، نمودارهای «الف»، «ب» و «ت» نمی‌توانند نشان‌دهنده نمودار $x - t$ یک متحرک باشند و تنها نمودار «پ» می‌تواند مکان متحرکی را بر حسب زمان نشان دهد. بنابراین، پاسخ گزینه «پ» است.

۱۴ الف) متحرک در لحظه‌های t_1 تا t_2 و t_3 تا t_4 از مبدأ مکان عبور می‌کند. (در این لحظه‌ها، $x = 0$ می‌شود)

ب) در بازه‌های زمانی 0 تا t_1 ، t_1 تا t_2 و t_2 تا t_3 متحرک از مبدأ دور می‌شود.

پ) در بازه‌های زمانی t_1 تا t_2 و t_2 تا t_3 متحرک به مبدأ نزدیک می‌شود.

ت) جهت حرکت دو بار و در لحظه‌های t_1 و t_2 تغییر کرده است.

ث) مکان نهایی متحرک (x در لحظه t_2)، از مکان اولیه آن (x در لحظه صفر) بزرگ‌تر است و در نتیجه جابه‌جایی کل متحرک در سوی مثبت محور x است.

۱۵ الف) در لحظه $t = 8s$ دوچرخه‌سوار در مکان $x = 60 m$ و در دورترین فاصله از مبدأ قرار دارد.

ب) در بازه زمانی $0 s$ تا $4s$ و $6s$ تا $8s$ دوچرخه‌سوار در جهت مثبت محور x حرکت می‌کند. (در این بازه‌های زمانی x افزایش می‌یابد)

پ) در بازه زمانی $8s$ تا $14s$ دوچرخه‌سوار در جهت منفی محور x حرکت می‌کند. (در این بازه زمانی x کاهش می‌یابد)

ت) در بازه زمانی $4s$ تا $6s$ دوچرخه‌سوار ساکن است (x ثابت است) و منحنی یک خط راست موازی محور زمان است.

ث) در لحظه $t = 2s$ ، دوچرخه‌سوار تقریباً در مکان $25m$ قرار دارد.

$$0 s < t < 2 s \Rightarrow v_{av} = \frac{25m - 0 m}{2s - 0 s} = \frac{25m}{2s} = 12,5 \frac{m}{s}$$

$$4 s < t < 6 s \Rightarrow v_{av} = \frac{40m - 60m}{6s - 4s} = \frac{-20m}{2s} = -10 \frac{m}{s}$$

$$2 s < t < 5 s \Rightarrow v_{av} = \frac{40m - 25m}{5s - 2s} = \frac{15m}{3s} = 5 \frac{m}{s}$$

$$8 s < t < 14 s \Rightarrow v_{av} = \frac{0m - 60m}{14s - 8s} = \frac{-60m}{6s} = -10 \frac{m}{s}$$

$$0 s < t < 14 s \Rightarrow v_{av} = \frac{0m - 0m}{14s - 0 s} = \frac{0m}{14s} = 0 \frac{m}{s}$$

۱۶ سرعت متحرک در لحظه $t = 4s$ برابر با شیب خط مماس بر منحنی مکان - زمان در این لحظه است. خط مماس بر منحنی مکان - زمان از نقاط

($0 m$ و $1 s$) و ($6m$ و $4s$) عبور می‌کند. بنابراین:

$$\text{سرعت در لحظه } 4s = \text{شیب خط مماس} = \frac{6m - 0m}{4s - 1s} = \frac{6m}{3s} = 2 \frac{m}{s}$$

۱۷ در هر گزینه، حرکت مربوط به نمودار $x - t$ را تحلیل می‌کنیم:

الف) شیب مماس بر منحنی در لحظه صفر مثبت است؛ پس سرعت اولیه در جهت مثبت محور x است. از طرفی، در ابتدای حرکت شیب خط مماس در حال کاهش است و سرعت کاهش می‌یابد؛

در نتیجه شتاب حرکت منفی است.

ب) خط مماس بر منحنی در لحظه صفر، افقی است؛ پس متحرک از حالت سکون شروع به حرکت می‌کند. در ادامه، شیب منحنی منفی می‌شود و اندازه آن در حال افزایش است؛ در نتیجه، حرکت

در جهت منفی محور x و تندشونده و شتاب حرکت نیز منفی است.



پ) نمودار خط راست با شیب منفی است؛ پس متحرک با سرعت ثابت در سوی منفی محور x حرکت می‌کند. و شتاب آن صفر است.
 ت) خط مماس بر منحنی در لحظه صفر، افقی است؛ پس متحرک از حالت سکون شروع به حرکت می‌کند. در ادامه، شیب منحنی مثبت می‌شود و اندازه آن در حال افزایش است؛ در نتیجه، حرکت در جهت مثبت محور x و تندشونده و شتاب حرکت نیز مثبت است.
 بنابراین، پاسخ گزینه «الف» است.

۱۸) شیب نمودار مکان - زمان برابر سرعت و قدرمطلق آن برابر تندی است. با توجه به این نکته، به بررسی هر نمودار می‌پردازیم:

الف) شیب نمودار مثبت و ثابت است. پس متحرک با تندی ثابت در سوی مثبت محور مکان حرکت می‌کند و شتاب آن صفر است.
 ب) شیب نمودار مثبت و در حال کاهش است و به صفر می‌رسد؛ پس متحرک، سرعت اولیه‌ای در جهت مثبت دارد و تندی آن به تدریج کاهش می‌یابد تا به صفر برسد و متوقف شود.
 پ) شیب نمودار در شروع حرکت صفر است، سپس مثبت می‌شود و افزایش می‌یابد؛ پس متحرک از حال سکون و در جهت مثبت شروع به حرکت می‌کند و تندی آن افزایش می‌یابد.
 ت) شیب نمودار در شروع حرکت صفر است و سپس منفی می‌شود و قدرمطلق آن افزایش می‌یابد؛ پس متحرک از حال سکون و در جهت منفی شروع به حرکت می‌کند و تندی آن افزایش می‌یابد.

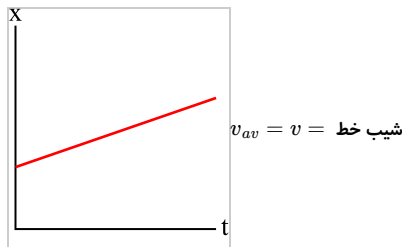
بنابراین موارد «پ» و «ت» پاسخ هستند.

(از نظر کیفی تفاوت موارد «پ» و «ت» در مکان اولیه (نقطه شروع حرکت) و جهت حرکت است.

۱۹) الف) شیب خط مماس بر منحنی از لحظه صفر تا لحظه t_1 در حال کاهش است؛ بنابراین، تندی (یا اندازه سرعت) متحرک در حال کاهش است.

ب) هنگامی که خط مماس بر منحنی موازی محور زمان است، شیب آن صفر است؛ بنابراین، در لحظه t_1 سرعت متحرک صفر است.

۲۰) اگر نمودار مکان - زمان متحرک خط راست باشد، سرعت متوسط در هر بازه زمانی دلخواه از این حرکت، برابر شیب آن خط می‌شود و مقدار ثابتی است؛ در نتیجه، سرعت متوسط در هر بازه زمانی دلخواه با سرعت لحظه‌ای متحرک در هر لحظه دلخواه برابر می‌شود.



۲۱) الف) شیب نمودار $x - t$ برابر سرعت متحرک است. در بازه زمانی 0 s تا 250 s، شیب نمودار بیشتر است؛ بنابراین در این بازه زمانی دوندۀ سریع‌تر دویده است.

ب) در بازه زمانی 250 s تا 500 s، دوندۀ در یک مکان قرار دارد و ایستاده است.

| | |
|----|---------------------------------------------------------------------------------------------------------------------------------------------------------------------------------------------------------------------------------------|
| پ) | $0 \text{ s} < t < 250 \text{ s} \Rightarrow v = \frac{\Delta x}{\Delta t} = \frac{(1000 \text{ m}) - (0 \text{ m})}{(250 \text{ s}) - (0 \text{ s})} = \frac{1000 \text{ m}}{250 \text{ s}} = 4 \frac{\text{m}}{\text{s}}$ |
| ت) | $500 \text{ s} < t < 1000 \text{ s} \Rightarrow v = \frac{\Delta x}{\Delta t} = \frac{(2500 \text{ m}) - (1000 \text{ m})}{(1000 \text{ s}) - (500 \text{ s})} = \frac{1500 \text{ m}}{500 \text{ s}} = 3 \frac{\text{m}}{\text{s}}$ |
| ث) | $0 \text{ s} < t < 1000 \text{ s} \Rightarrow v_{av} = \frac{\Delta x}{\Delta t} = \frac{(2500 \text{ m}) - (0 \text{ m})}{(1000 \text{ s}) - (0 \text{ s})} = \frac{2500 \text{ m}}{1000 \text{ s}} = 2,5 \frac{\text{m}}{\text{s}}$ |

۲۲) الف)

$$0 \text{ s} < t < 20 \text{ s} \Rightarrow a_{av} = \frac{\Delta v}{\Delta t} = \frac{60 \frac{\text{m}}{\text{s}} - 0 \frac{\text{m}}{\text{s}}}{20 \text{ s} - 0 \text{ s}} = 3 \frac{\text{m}}{\text{s}^2}$$

ب) می‌توانیم منحنی سرعت - زمان متحرک در بازه زمانی 6 s تا 10 s را تقریباً خط راست فرض کنیم و یا فرض کنیم شیب خط مماس بر منحنی در لحظه 8 s تقریباً برابر شیب خط عبوری از لحظه‌های 6 s و 10 s است.

در لحظه‌های 6 s و 10 s سرعت متحرک تقریباً $34 \frac{\text{m}}{\text{s}}$ و $47 \frac{\text{m}}{\text{s}}$ است و داریم:

$$8 \text{ s در لحظه } a \approx \frac{47 \frac{\text{m}}{\text{s}} - 34 \frac{\text{m}}{\text{s}}}{10 \text{ s} - 6 \text{ s}} = \frac{13 \frac{\text{m}}{\text{s}}}{4 \text{ s}} = 3,25 \frac{\text{m}}{\text{s}^2}$$

۲۳) الف)

$$0 \text{ s} < t < 14 \text{ s} \Rightarrow a_{av} = \frac{0 \frac{\text{m}}{\text{s}} - 20 \frac{\text{m}}{\text{s}}}{14 \text{ s} - 0 \text{ s}} = \frac{-20 \frac{\text{m}}{\text{s}}}{14 \text{ s}} = -1,4 \frac{\text{m}}{\text{s}^2}$$

ب) لحظه $t = 2$ s در بازه زمانی 0 s تا 6 s قرار دارد که در آن سرعت ثابت و شتاب صفر است. پس شتاب در لحظه $t = 2$ s صفر است.

لحظه $t = 8$ s در بازه زمانی 6 s تا 10 s قرار دارد که در آن منحنی خط راست و شتاب ثابت و داریم:

$$a(8 \text{ s}) = \frac{v(10 \text{ s}) - v(6 \text{ s})}{10 \text{ s} - 6 \text{ s}} = \frac{40 \frac{\text{m}}{\text{s}} - 20 \frac{\text{m}}{\text{s}}}{4 \text{ s}} = +5 \frac{\text{m}}{\text{s}^2}$$

همچنین لحظه $t = 11$ s در بازه زمانی 10 s تا 14 s قرار دارد که در آن بازه نیز منحنی خط راست است و شتاب ثابت و داریم:

$$a(11 \text{ s}) = \frac{v(14 \text{ s}) - v(10 \text{ s})}{14 \text{ s} - 10 \text{ s}} = \frac{0 \frac{\text{m}}{\text{s}} - 40 \frac{\text{m}}{\text{s}}}{4 \text{ s}} = -10 \frac{\text{m}}{\text{s}^2}$$

۲۴) شتاب برابر شیب خط مماس بر نمودار سرعت - زمان است.

لحظه‌های t_1 و t_2 در بازه‌هایی قرار دارند که در آن منحنی سرعت - زمان، خط راستی موازی محور زمان است. در این بازه‌های زمانی، سرعت ثابت و در نتیجه، شتاب صفر است.



در لحظه t_p ، منحنی سرعت زمان نزولی، شیب آن منفی و شتاب در این لحظه منفی است. در لحظه t_0 ، منحنی سرعت زمان صعودی، شیب آن مثبت و شتاب در این لحظه مثبت است.

۲۵) شیب خط مماس بر نمودار سرعت - زمان برابر شتاب است.

در بازه‌های زمانی 0 تا t_1 و t_1 تا t_p تا t_p تا t_0 ، شیب منحنی، مثبت و شتاب در جهت محور x است.

در بازه زمانی t_1 تا t_p ، شیب منحنی، منفی و شتاب در خلاف جهت محور x است.

توجه: در لحظه‌های t_1 و t_p که شتاب تغییر علامت می‌دهد، شتاب صفر شده است.

۲۶) تندی نور در خلأ $s = 3 \times 10^8 \frac{m}{s}$ است.

$$s = \frac{l}{\Delta t} \Rightarrow 3 \times 10^8 \frac{m}{s} = \frac{l}{0.24s} \Rightarrow l = 7.2 \times 10^7 m$$

$$l = 2d = 7.2 \times 10^7 m \Rightarrow d = 3.6 \times 10^7 m$$

مسافت پیموده شده توسط تپ الکترومغناطیسی، دو برابر فاصله ماهواره از ایستگاه زمینی است.

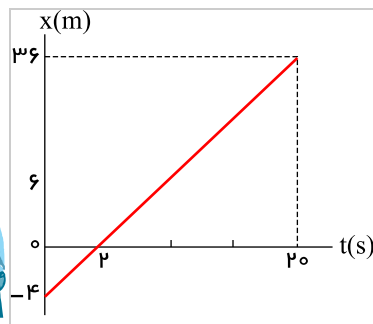
۲۷) الف) معادله مکان - زمان را به صورت $x = vt + x_0$ فرض می‌کنیم:

$$\begin{cases} t_1 = 5s, x_1 = 6m \Rightarrow 6 = 5v + x_0 \\ t_2 = 20s, x_2 = 36m \Rightarrow 36 = 20v + x_0 \end{cases}$$

$$\Rightarrow 36 - 6 = 20v - 5v \Rightarrow 30 = 15v \Rightarrow v = 2 \frac{m}{s}$$

$$\Rightarrow 6 = 5 \times 2 + x_0 \Rightarrow 6 = 10 + x_0 \Rightarrow x_0 = -4m$$

$$x = vt + x_0 \Rightarrow x = 2t - 4$$



ب)

توجه: محل برخورد منحنی با محور زمان را می‌توانیم با قرار دادن صفر به جای x در معادله مکان - زمان به دست آوریم.

۲۸) متحرک A در لحظه‌های $0s$ و $4s$ در مکان‌های $0m$ و $4m$ قرار دارد.

$$v_A = \frac{4m - 0m}{4s - 0s} = 1 \frac{m}{s}$$

مکان اولیه متحرک A (مکان در لحظه صفر)، صفر است ($x_{0A} = 0m$).

$$x_A = v_A t + x_{0A} \Rightarrow x_A = 1t + 0 \Rightarrow x_A = t$$

همچنین متحرک B در لحظه‌های $0s$ و $4s$ در مکان‌های $12m$ و $24m$ قرار دارد.

$$v_B = \frac{24m - 12m}{4s - 0s} = 3 \frac{m}{s}$$

مکان اولیه متحرک B (مکان در لحظه صفر)، $12m$ است ($x_{0B} = 12m$).

$$x_B = v_B t + x_{0B} \Rightarrow x_B = 3t + 12$$

۲۹) الف) مکان اولیه خودروهای A و B به ترتیب $x_{0A} = -300m$ و $x_{0B} = +300m$ است و در لحظه $t = 10s$ به ترتیب در مکان‌های $0m$ و $x_{1B} = +450m$ قرار دارند.

$$\begin{cases} x_A = v_A t + x_{0A} \\ x_B = v_B t + x_{0B} \end{cases} \xrightarrow{t=10s} \begin{cases} 0 = 10v_A - 300 \Rightarrow v_A = 30 \frac{m}{s} \\ 450 = 10v_B + 300 \Rightarrow v_B = 15 \frac{m}{s} \end{cases}$$

$$\Rightarrow x_A = 30t - 300, x_B = 15t + 300$$

ب) خودروها در لحظه‌ای به هم می‌رسند که $x_A = x_B$:

$$x_A = x_B \Rightarrow 30t - 300 = 15t + 300 \Rightarrow 15t = 600 \Rightarrow t = 40s$$

$$\Rightarrow \begin{cases} x_A = 30 \times 40 - 300 \\ x_B = 15 \times 40 + 300 \end{cases} \Rightarrow x_A = x_B = 900m$$

بنابراین در لحظه $t = 40s$ و در مکان $900m$ به هم می‌رسند.

۳۰) الف) کفش‌دوزک‌ها در لحظه‌ای به هم می‌رسند که در یک مکان قرار می‌گیرند؛ بنابراین، محل تقاطع منحنی مکان - زمان به هم رسیدن آنها را نشان می‌دهد.

پس کفش‌دوزک‌ها در لحظه $t = 3.5 \text{ min}$ و در مکان $0.7m$ به هم می‌رسند.

ب) معادله مکان - زمان کفش‌دوزک‌ها را به دست می‌آوریم.

A : مکان اولیه آن $4m$ است و در لحظه 4 min به مبدأ مکان می‌رسد.

$$x_A = v_A t + x_{0A} \Rightarrow 0 = v_A \times 4 \text{ min} + 4m \Rightarrow v_A = -1 \frac{m}{\text{min}}$$



B: مکان اولیه آن $3m$ - است و در لحظه $3min$ به مبدأ مکان می‌رسد.

$$x_B = v_B t + x_{oB} \Rightarrow 0 = v_B \times 3min - 3m \Rightarrow v_B = +1 \frac{m}{min} \Rightarrow x_B = +t - 3$$

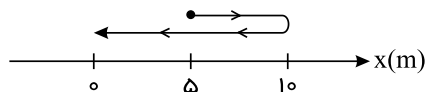
کفش‌دوزک‌ها در لحظه‌ای به هم می‌رسند که $x_A = x_B$.

$$x_A = x_B \Rightarrow -t + 4 = t - 3 \Rightarrow 7 = 2t \Rightarrow t = \frac{7}{2} = 3,5min \Rightarrow x_A = x_B = 0,5m$$

(الف) ۳۱

$$\Delta x = x(10s) - x(0s) = (0m) - (5m) = -5m$$

برای محاسبه مسافت پیموده شده، به مسیر حرکت متحرک روی محور x توجه می‌کنیم. متحرک به شکل زیر روی محور x حرکت کرده است.



$$\text{مسافت در } 4 \text{ ثانیه اول حرکت } l_1 = |x(4s) - x(0s)| = |(10m) - (5m)| = 5m$$

$$\text{مسافت در } 2 \text{ ثانیه آخر حرکت } l_2 = |x(10s) - x(8s)| = |(0m) - (10m)| = 10m$$

در بخش میانی حرکت (بازه زمانی $4s$ تا $8s$)، متحرک ساکن بوده است.

$$\Rightarrow \text{مسافت در کل زمان حرکت } l = l_1 + l_2 = (5m) + (10m) = 15m$$

(ب)

$$0s < t < 4s \Rightarrow v_{av} = \frac{(10m) - (5m)}{4s - 0s} = \frac{5m}{4s} = 1,25 \frac{m}{s}$$

$$4s < t < 8s \Rightarrow v_{av} = 0$$

$$8s < t < 10s \Rightarrow v_{av} = \frac{(0m) - (10m)}{10s - 8s} = \frac{-10m}{2s} = -5 \frac{m}{s}$$

(پ) $0s$ تا $4s$: سرعت متحرک ثابت و برابر $1,25 \frac{m}{s}$ و مکان آن در لحظه صفر $5m$ است. پس معادله حرکت آن به صورت $x = 1,25m + 5$ است.

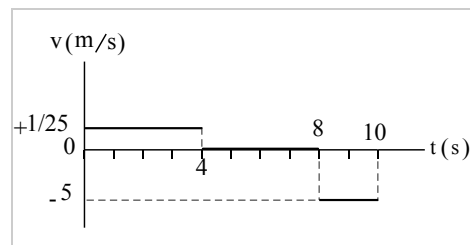
$4s$ تا $8s$: در این بازه زمانی، متحرک ساکن است و مکان آن در تمام لحظه‌ها برابر $10m$ است؛ در نتیجه معادله حرکت آن به صورت $x = 10$ است.

$8s$ تا $10s$: سرعت متحرک ثابت و برابر $-5 \frac{m}{s}$ است و متحرک در $t = 10s$ در مبدأ مکان ($x = 0$) قرار می‌گیرد:

$$x = -5t + x_0 \xrightarrow{t=10s, x=0} 0 = -5 \times 10 + x_0 \Rightarrow x_0 = 50m$$

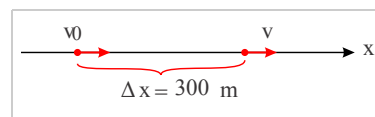
پس معادله حرکت در این بازه زمانی به صورت $x = -5t + 50$ است.

(ت)



۳۲ سرعت اولیه خودرو $v_0 = 18 \frac{km}{h}$ است.

$$v_0 = 18 \frac{km}{h} = 18 \times \frac{1000m}{3600s} = 5 \frac{m}{s}$$



$$v^2 - v_0^2 = 2a\Delta x \Rightarrow v^2 - 5^2 = 2 \times 1 \times 300 \Rightarrow v^2 = 625 \Rightarrow v = 25 \frac{m}{s}$$


(الف) ۳۳

$$v = -1,8t + 2,2 \xrightarrow{t=4s} v = -1,8 \times 4 + 2,2 = -5 \frac{m}{s}$$


(ب)

$$0s \leq t \leq 4s \Rightarrow v_{av} = \frac{v(4s) + v(0s)}{2} = \frac{-5 + 2,2}{2} = -1,4 \frac{m}{s}$$

$$\Delta x = v_{av} \times \Delta t = -1,4 \frac{m}{s} \times (4s - 0s) = -5,6m$$



۳۴



$$v_2^r - v_1^r = 2a\Delta x \Rightarrow 5^r - 4^r = 2a(19 - 10) \Rightarrow 9 = 2a \times 9 \Rightarrow a = 0.5 \frac{m}{s^2}$$

(ب)

$$\Delta x = \frac{v_2 + v_1}{2} \Delta t \Rightarrow 19 - 10 = \frac{5 + 4}{2} \Delta t \Rightarrow 9 = \frac{9}{2} \Delta t \Rightarrow \Delta t = 2s$$

(۳۵) الف) متحرک در لحظه‌های ۰ s و ۳ s به ترتیب در مکان‌های ۰ m و ۶ m قرار دارد.

$$v_{av} = \frac{x_p - x_o}{t_p - t_o} = \frac{6m - 0m}{3s - 0s} = 2 \frac{m}{s}$$

(ب) مکان اولیه متحرک صفر است ($x_o = 0$) و متحرک در لحظه‌های ۱ s و ۲ s به ترتیب در مکان‌های ۲ m و ۰ m قرار دارد.


$$x = \frac{1}{2}at^2 + v_o t + x_o \xrightarrow{x_o=0} x = \frac{1}{2}at^2 + v_o t$$

$$\begin{cases} t = 1s \Rightarrow -2 = \frac{a}{2} + v_o \Rightarrow a + 2v_o = -4 \\ t = 2s \Rightarrow 0 = 2a + 2v_o \Rightarrow a + v_o = 0 \end{cases} \Rightarrow v_o = -4 \frac{m}{s}, a = +4 \frac{m}{s^2}$$

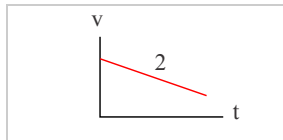
$$x = \frac{1}{2}at^2 + v_o t \Rightarrow x = 2t^2 - 4t$$

(پ)

$$v = at + v_o = 4t - 4 \xrightarrow{t=3s} v(3s) = 8 \frac{m}{s}$$

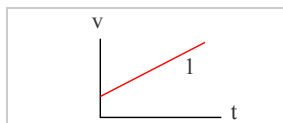


(۳۶) الف) خودرو در جهت مثبت حرکت می‌کند ($v > 0$) و شتاب خودرو در جهت منفی است ($a < 0$), پس نمودار $v - t$ آن به شکل زیر می‌تواند باشد:

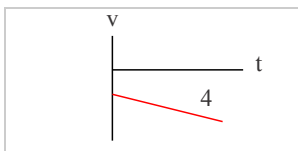


در این شرایط، شتاب مخالف سرعت است و طبق نمودار، اندازه سرعت کاهش می‌یابد و حرکت کندشونده است.

(ب) خودرو در جهت مثبت حرکت می‌کند ($v > 0$) و شتاب خودرو نیز در جهت مثبت است ($a > 0$), پس نمودار $v - t$ آن به شکل زیر می‌تواند باشد:

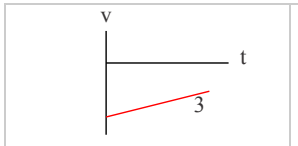


در این شرایط، شتاب موافق سرعت است و طبق نمودار، اندازه سرعت افزایش می‌یابد و حرکت تندشونده است.



در این شرایط، شتاب موافق سرعت و طبق نمودار، اندازه سرعت در حال افزایش و حرکت تندشونده است.

(ت) خودرو در جهت منفی حرکت می‌کند ($v < 0$) و شتاب خودرو در جهت مثبت است ($a > 0$)، پس نمودار $v - t$ به شکل زیر می‌تواند باشد:



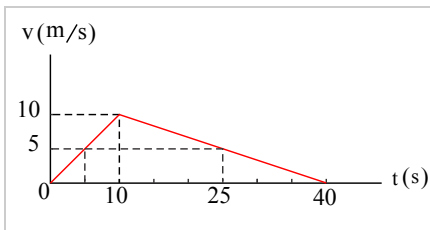
در این شرایط، شتاب مخالف سرعت و طبق نمودار، اندازه سرعت در حال کاهش و حرکت کندشونده است.

۳۷ از لحظه صفر تا لحظه t_1 ، شتاب صفر است، بنابراین در این بازه زمانی سرعت ثابت است. سپس از لحظه t_1 تا لحظه t_2 ، شتاب منفی می‌شود. پس در این بازه زمانی، شیب نمودار سرعت

- زمان منفی و نمودار سرعت زمان نزولی می‌شود. در نهایت از لحظه t_2 تا لحظه t_3 دوباره شتاب صفر می‌شود و دوباره سرعت متحرک ثابت است.

نتیجه می‌گیریم هر سه نمودار سرعت زمان الف، ب و پ، می‌توانند متناظر با این نمودار شتاب زمان باشند.

۳۸ حرکت از دو بخش با شتاب ثابت تشکیل شده است. در بخش اول (0 تا 10 s) حرکت تندشونده و در بخش دوم (10 تا 40 s) حرکت کندشونده است.



با توجه به نمودار سرعت - زمان شکل زیر و اینکه لحظه 5 s وسط بازه زمانی بخش تندشونده حرکت (0 تا 10 s) و لحظه 25 s نیز وسط بازه زمانی بخش کندشونده حرکت (10 تا 40 s) است، سرعت در این لحظه‌ها یکسان و برابر $5 \frac{m}{s}$ است.

با توجه به اینکه در حرکت با شتاب ثابت، سرعت متوسط برابر میانگین سرعت‌های ابتدا و انتهای حرکت است، داریم:

$$\left\{ \begin{aligned} \text{سرعت متوسط در بازه } 0 \text{ تا } 10 \text{ s} \quad v_{av1} &= \frac{v_0 + v_{10}}{2} = \frac{0 + 10 \frac{m}{s}}{2} = 5 \frac{m}{s} \\ \text{سرعت متوسط در بازه } 10 \text{ تا } 40 \text{ s} \quad v_{av2} &= \frac{v_{10} + v_{40}}{2} = \frac{10 \frac{m}{s} + 0}{2} = 5 \frac{m}{s} \end{aligned} \right.$$

بنابراین سرعت متوسط در بازه زمانی 0 تا 10 s برابر با سرعت متوسط در بازه زمانی 10 تا 40 s است و نسبت آنها یک می‌شود.

۳۹ الف) ابتدا به مدت 5 ثانیه (در بازه 0 تا 5 s)، شتاب متحرک $2 \frac{m}{s^2}$ است.

$$\Delta v_1 = a_1 \Delta t_1 = 2 \frac{m}{s^2} \times (5s - 0s) = 10 \frac{m}{s}$$

پس سرعت متحرک افزایش می‌یابد و از $0 \frac{m}{s}$ به $10 \frac{m}{s}$ می‌رسد.

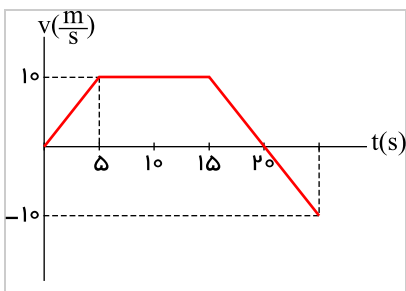
سپس به مدت 10 ثانیه (در بازه 5 تا 15 s)، شتاب متحرک، صفر و سرعت متحرک، ثابت و برابر $10 \frac{m}{s}$ است.

در نهایت به مدت 10 ثانیه (در بازه 15 تا 25 s)، شتاب متحرک $-2 \frac{m}{s^2}$ است و داریم:

$$\Delta v_2 = a_2 \Delta t_2 = -2 \frac{m}{s^2} \times (25s - 15s) = -20 \frac{m}{s}$$

بنابراین، سرعت متحرک $-20 \frac{m}{s}$ کاهش می‌یابد و از $10 \frac{m}{s}$ به $-10 \frac{m}{s}$ می‌رسد.

در این بازه زمانی و در لحظه‌ای که سرعت متحرک صفر می‌شود، جهت حرکت تغییر می‌کند. با توجه به مقدار شتاب ($-2 \frac{m}{s^2}$) و سرعت اولیه در این بازه ($+10 \frac{m}{s}$)، سرعت در لحظه 20 s صفر می‌شود.



بنابراین، نمودار سرعت زمان متحرک به شکل زیر می‌شود:

(ب)

$0s < t < 5s \Rightarrow$ تندشونده

$5s < t < 15s \Rightarrow$ یکنواخت

$15s < t < 20s \Rightarrow$ کندشونده

$20s < t < 25s \Rightarrow$ تندشونده



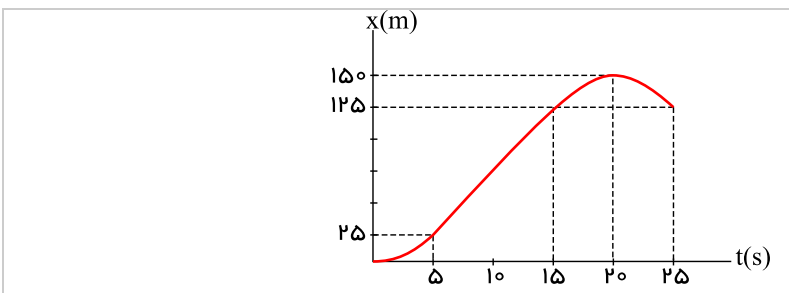
$$a_{av} = \frac{\Delta v}{\Delta t} = \frac{(-10 \frac{m}{s}) - (0 \frac{m}{s})}{25s - 0s} = \frac{-10 \frac{m}{s}}{25s} = -0.4 \frac{m}{s^2}$$

با توجه به نمودار $v-t$ این حرکت و سطح محصور بین منحنی و محور زمان، جابه‌جایی متحرک در بازه‌های زمانی مختلف را به دست می‌آوریم:

$$\begin{cases} 0s < t < 5s \Rightarrow \Delta x_1 = \frac{1}{2} \times 10 \frac{m}{s} \times 5s = 25m \\ 5s < t < 15s \Rightarrow \Delta x_2 = 10 \frac{m}{s} (15s - 5s) = 100m \\ 15s < t < 20s \Rightarrow \Delta x_3 = \frac{1}{2} \times 10 \frac{m}{s} \times (20s - 15s) = 25m \\ 20s < t < 25s \Rightarrow \Delta x_4 = -\frac{1}{2} \times 10 \frac{m}{s} (25s - 20s) = -25m \end{cases}$$

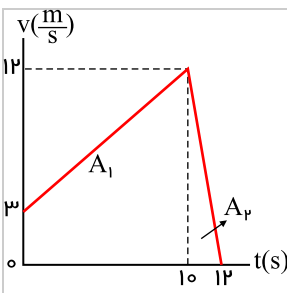
(ت)

$$\text{کل } \Delta x = \Delta x_1 + \Delta x_2 + \Delta x_3 + \Delta x_4 = +125m$$



با توجه به جابه‌جایی‌های به دست آمده، داریم:

۴۰ الف و ب) در این حرکت، سرعت همواره مثبت بوده و حرکت تغییر جهت نداشته است؛ بنابراین، مسافت پیموده شده برابر اندازه جابه‌جایی است و از طرفی، جابه‌جایی مثبت و برابر سطح محصور میان منحنی و محور زمان است.



$$A_1 = \frac{3 + 12}{2} (10 - 0) = 75m$$

$$A_2 = \frac{1}{2} \times 12 \times (12 - 10) = 12m$$

$$\Rightarrow \Delta x = A_1 + A_2 = 87m$$

$$\Rightarrow l = |\Delta x| = 87m$$

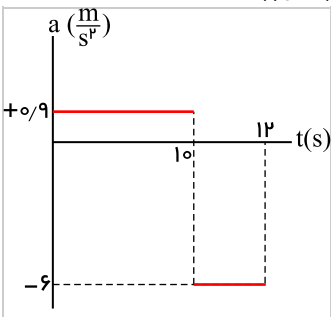
پ) حرکت از دو بخش با شتاب‌های ثابت تشکیل شده است.

در بازه زمانی $0s$ تا $10s$ شتاب ثابت و مثبت است.

$$0s < t < 10s \Rightarrow a_1 = \frac{12 \frac{m}{s} - 3 \frac{m}{s}}{10s - 0s} = 0.9 \frac{m}{s^2}$$

در بازه زمانی $10s$ تا $12s$ شتاب ثابت و منفی است.

$$10s < t < 12s \Rightarrow a_2 = \frac{0 \frac{m}{s} - 12 \frac{m}{s}}{12s - 10s} = -6 \frac{m}{s^2}$$



پس:

۴۱ الف) خودرو را متحرک ۱ و کامیون را متحرک ۲ فرض می‌کنیم. همچنین محل ایستادن خودرو که مکان اولیه خودرو و کامیون است را مبدأ مکان فرض می‌کنیم.

$$\Rightarrow x_{01} = x_{02} = 0$$

متحرک ۱ (خودرو) با شتاب ثابت و از حال سکون ($v_{01} = 0$) شروع به حرکت می‌کند و حرکت متحرک ۲ (کامیون) یکنواخت است.

$$x_1 = \frac{1}{2} a_1 t^2 + v_{01} t + x_{01} = \frac{1}{2} \times 2t^2 + 0 + 0 \Rightarrow x_1 = t^2 \quad \text{Telegram: @konkur_in}$$



$$v_p = \frac{36 \text{ km}}{h} = \frac{36 \times 1000 \text{ m}}{3600 \text{ s}} = 10 \frac{\text{m}}{\text{s}}$$

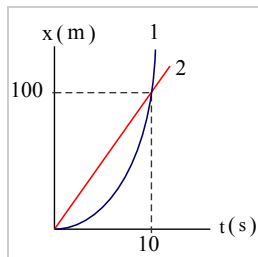
$$x_p = v_p t + x_{0,p} = 10t + 0 \Rightarrow x_p = 10t$$

$$x_1 = x_p \Rightarrow t^2 = 10t \Rightarrow t(t-10) = 0$$

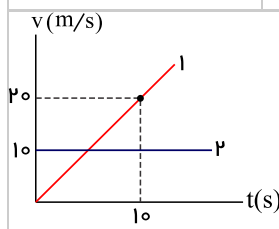
$$\Rightarrow \begin{cases} t = 0 \text{ s} \Rightarrow x_1 = x_p = 0 \Rightarrow \text{همان مکان اولیه} \\ t = 10 \text{ s} \Rightarrow x_1 = x_p = 100 \text{ m} \end{cases}$$

متحرک‌ها وقتی به هم می‌رسند که $x_1 = x_p$:

پس از 10 s و در فاصله 100 m از مبدأ مکان، خودرو به کامیون می‌رسد.



(ب)



(پ)

$$\begin{cases} v_1 = a_1 t + v_{0,1} \Rightarrow v_1 = 2t + 0 = 2t \\ v_2 = 20 \frac{\text{m}}{\text{s}} \end{cases}$$

توجه: در لحظه‌ای که خودرو به کامیون می‌رسد، سرعت آن دو برابر سرعت کامیون است.

۴۲ الف) در لحظات آغازین و در مدت زمان برابر، جابه‌جایی A از جابه‌جایی B بیشتر است؛ پس سرعت اولیه A از سرعت اولیه B بیشتر است.

ب) در لحظات پایانی و در مدت زمان برابر، جابه‌جایی B از جابه‌جایی A بیشتر شده است. پس سرعت نهایی B از سرعت نهایی A بیشتر است.

پ) با توجه به بیشتر بودن سرعت نهایی B از سرعت نهایی A و همچنین کمتر بودن سرعت اولیه B از سرعت اولیه A، در مدت زمان برابر، تغییر سرعت B از تغییر سرعت A بیشتر و در نتیجه، شتاب B از شتاب A بیشتر است.

$$\begin{cases} v_B > v_A \\ v_{0,B} < v_{0,A} \end{cases} \Rightarrow v_B - v_{0,B} > v_A - v_{0,A} \Rightarrow \Delta v_B > \Delta v_A \xrightarrow{\Delta t \text{ یکسان}} a_B > a_A$$

۴۳ نیروی شناوری و نیروی وزن اثر یکدیگر را خنثی می‌کنند.

نیروی پیشران و نیروی مقاومت اثر یکدیگر را خنثی می‌کنند.

۴۴ الف) طبق قانون اول نیوتون (لختی)، جسم تمایل دارد حالت سکون یا حرکت یکنواخت خود را بر روی خط راست حفظ کند.

در حالتی که خودرو ناگهان شروع به حرکت می‌کند، خودرو به سمت جلو رفته و اجسام داخل خودرو تمایل دارند حالت سکون خود را حفظ کنند؛ به همین دلیل شخص به صندلی فشرده می‌شود.

در حالتی که خودرو ناگهان توقف می‌کند، اجسام داخل خودرو تمایل دارند حالت حرکت رو به جلوی خود را حفظ کنند؛ در نتیجه اجسام به سمت جلو پرتاب می‌شوند.

ب) در هنگام توقف یا ترمز ناگهانی اتومبیل، سرنشین بنا بر خاصیت لختی، به حرکت رو به جلوی خود ادامه می‌دهد و به سمت شیشه جلوی پرتاب می‌شود. کمربند ایمنی و یا کیسه هوا، سرنشین را با خودرو یک پارچه می‌کند و اجازه حرکت سرنشین در رخدادهای ناگهانی را نمی‌دهند.

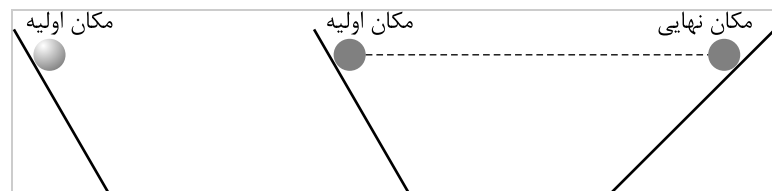
۴۵ الف) بر طبق قانون اول نیوتون، جسم تمایل دارد وضعیت سکون خود را حفظ کند. با حرکت سریع مقوا، سکه سر جای خود ساکن می‌ماند و به همین دلیل داخل لیوان می‌افتد.

ب) هنگامی که نخ را به آرامی بکشیم، نیرو فرصت کافی دارد تا به نخ بالایی انتقال یابد و نخ از قسمت بالای گوی جدا می‌گردد.

در کشش سریع نخ، لختی جرم گلوله سبب می‌شود که در بازه زمانی کوتاه، فرصت انتقال نیرو به نخ بالایی وجود نداشته باشد و در نتیجه نخ پایین پاره می‌شود.

۴۶ خیر طبق قانون اول نیوتون، وقتی برآیند نیروهای وارد بر جسم صفر باشد، جسم در حال حرکت با سرعت ثابت و بر روی خط راست، حرکت خود را حفظ می‌کند.

۴۷ گالیله طبق شکل‌های زیر، گوی‌ها را از ارتفاع معینی روی سطح شیبدار (شکل ۱) رها کرد تا به پایین بلغزند و از سطح شیبدار روبه‌روی بالا روند. او تا حد امکان سطوح را صاف و صیقلی کرد و دریافت که گوی تقریباً تا همان ارتفاع روی سطح شیبدار مقابل بالا می‌رود. او استدلال کرد که اگر بتوان از اصطکاک صرف‌نظر کرد، جسم روی سطح شیبدار دوم دقیقاً تا همان ارتفاع اولیه بالا می‌رود. حال اگر شیب سطح شیبدار دوم صفر شود (شکل ۲)، جسم باید برای همیشه روی آن با سرعت ثابت حرکت کند.



گالیله از این آزمایش ذهنی نتیجه گرفت که برای حرکت یکنواخت جسم روی خط راست، نیازی به وارد کردن نیرو به جسم نیست.

۴۸ قبل از هر چیزی می‌توان دریافت که بردار شتاب و بردار نیروی خالص وارد بر جسم همسو هستند.

در سه شکل سمت راست: با ثابت ماندن اندازه جرم جسم و با افزایش نیرو، مقدار شتاب جسم افزایش می‌یابد. یعنی نیرو با شتاب متناسب است.

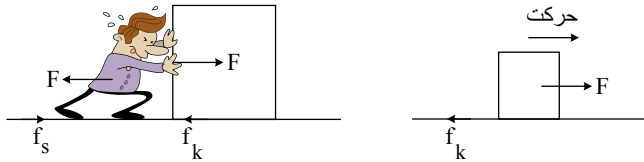
در شکل‌های سمت چپ: با ثابت ماندن نیرو و افزایش جرم جسم، مقدار شتاب جسم کاهش می‌یابد. یعنی شتاب جسم با جرم آن نسبت وارون دارد.



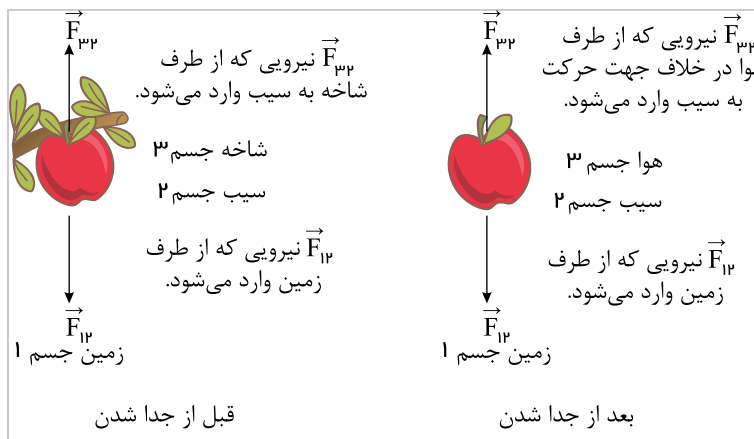
۴۹ الف) وقتی ما شروع به حرکت می‌کنیم، پاهایمان نیرویی به سمت عقب وارد می‌کند. طبق قانون سوم نیوتون، نیرویی هم‌اندازه و در خلاف جهت به پاهای ما وارد می‌شود که اصطکاک نام دارد و سبب می‌شود که به سمت جلو حرکت کنیم.

ب) زیرا ناهمواری‌های سطوح باعث افزایش اصطکاک می‌شوند؛ در نتیجه ضریب اصطکاک سطوح صاف کمتر می‌باشد که در نتیجه اصطکاک بین فرد و زمین کم شده و سبب سُر خوردن می‌شود و راه رفتن دشوار می‌گردد.

۵۰ الف) از طرف شخص به جعبه یک نیروی محرک F وارد می‌شود که چون $F \geq f_k$ است (نیروی اصطکاک جنبشی وارد بر جسم از طرف سطح زمین است) جسم بر روی سطح حرکت می‌کند.



۵۱ الف)



ب)

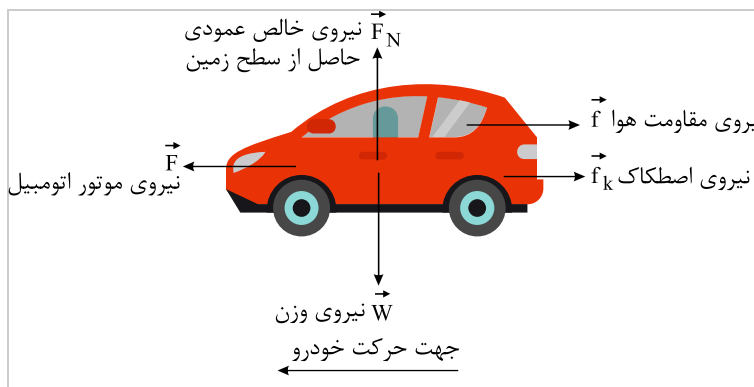
| واکنش | کنش |
|-------------------------------------------|-------------------------------------------|
| نیرویی که از طرف سیب به زمین وارد می‌شود. | نیرویی که از طرف زمین به سیب وارد می‌شود. |
| نیرویی که از طرف سیب به شاخه وارد می‌شود. | نیرویی که از طرف شاخه به سیب وارد می‌شود. |

قبل از جدا شدن

| واکنش | کنش |
|-------------------------------------------|-------------------------------------------|
| نیرویی که از طرف سیب به زمین وارد می‌شود. | نیرویی که از طرف زمین به سیب وارد می‌شود. |
| نیرویی که از طرف سیب به هوا وارد می‌شود. | نیرویی که از طرف هوا به سیب وارد می‌شود. |

بعد از جدا شدن

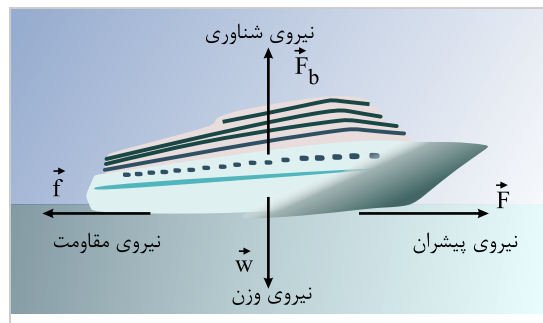
۵۲ الف)





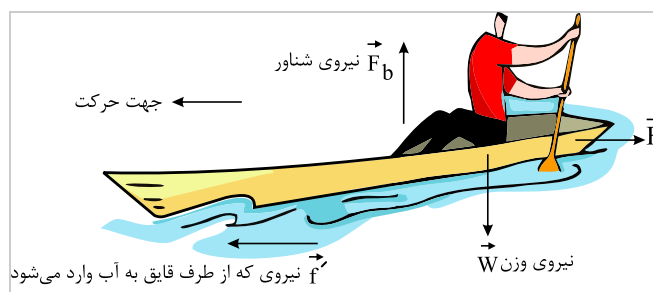
| واکنش | کنش |
|-------------------------------------------------------------------------------------------|-------------------------------------------------------------------------------------------|
| نیروی که خودرو به زمین وارد می‌کند. \vec{W}' | نیروی که زمین به خودرو وارد می‌کند. \vec{W} |
| نیروی عمودی که خودرو بر سطح جاده وارد می‌کند. \vec{F}'_N | نیروی عمودی تکیه‌گاه که سطح جاده به خودرو وارد می‌کند. \vec{F}_N |
| در وضعیت لغزش، نیروی موازی سطح از طرف خودرو در جهت حرکت به زمین وارد می‌شود. \vec{f}'_k | نیروی اصطکاکی که موازی سطح از طرف زمین در خلاف جهت حرکت به خودرو وارد می‌شود. \vec{f}_k |
| نیروی که از طرف خودرو به مولکول‌های هوا در جهت حرکت وارد می‌شود. \vec{f}' | نیروی که از مولکول‌های هوا به خودرو در خلاف جهت حرکت وارد می‌شود. \vec{f} |
| واکنش نیروی پیشران به موتور خودرو وارد می‌شود. \vec{F}' | نیروی پیشران خودرو که به محور چرخ‌ها وارد می‌شود. \vec{F} |

(ب)



| واکنش | کنش |
|-------------------------------------------------------------------------------|--------------------------------------------------------------------------------|
| نیروی که کشتی به زمین وارد می‌کند. \vec{W}' | نیروی که زمین به کشتی وارد می‌کند. \vec{W} |
| نیروی که از طرف کشتی به آب رو به پایین وارد می‌شود. \vec{F}'_b | نیروی شناوری (نیروی شناوری) رو به بالا به کشتی وارد می‌شود. \vec{F}_b |
| نیروی که در جهت مخالف حرکت از طرف آب و مولکول‌های هوا وارد می‌شود. \vec{f}' | نیروی مخالف حرکت از طرف آب و مولکول‌های هوا به سطح کشتی وارد می‌شود. \vec{f} |
| واکنش نیروی پیشران که به موتور کشتی وارد می‌شود. \vec{F}' | نیروی پیشران کشتی \vec{F} |

(پ)



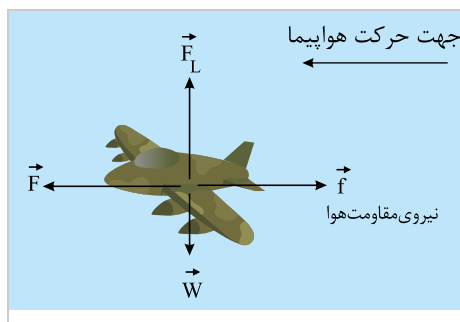
| واکنش | کنش |
|--------------------------------------------------------------------------|--------------------------------------------------------------------------------|
| نیروی که قایق به زمین وارد می‌کند. \vec{W}' | نیروی که زمین به قایق وارد می‌کند. \vec{W} |
| نیروی که از طرف قایق رو به پایین به آب وارد می‌شود. \vec{F}'_b | نیروی شناوری (نیروی شناوری) رو به بالا به قایق وارد می‌شود. \vec{F}_b |
| نیروی که در جهت حرکت قایق به آب و مولکول‌های هوا وارد می‌شود. \vec{f}' | نیروی مخالف حرکت از طرف آب و مولکول‌های هوا به سطح قایق وارد می‌شود. \vec{f} |
| نیروی که قایق به پارو وارد می‌کند. \vec{F}' | نیروی که پارو به قایق وارد می‌کند. \vec{F} |

(ت)



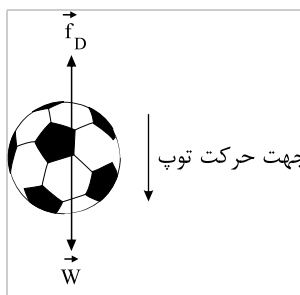
| واکنش | کنش |
|---------------------------------------------------------------------|--------------------------------------------------------------------|
| نیروی که چتر باز به زمین وارد می کند. \vec{W}' | نیروی که زمین به چتر باز وارد می کند. \vec{W} |
| نیروی که از طرف چتر باز به مولکول های هوا وارد می شود. \vec{f}'_D | نیروی که از طرف مولکول های هوا به چتر باز وارد می شود. \vec{f}_D |

(ث)



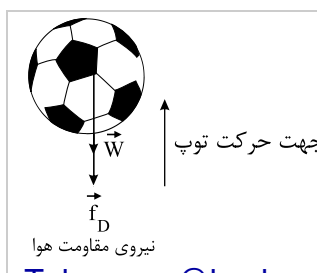
| واکنش | کنش |
|------------------------------------------------------------------------|------------------------------------------------------------------------------------|
| نیروی که هواپیما به زمین وارد می کند. \vec{W}' | نیروی که زمین به هواپیما وارد می کند. \vec{W} |
| نیروی که از طرف هواپیما به مولکول های هوا وارد می شود. \vec{F}'_L | نیروی که از طرف مولکول های هوا رو به بالا به هواپیما وارد می شود. \vec{F}_L |
| نیروی که در جهت حرکت هواپیما به مولکول های هوا وارد می شود. \vec{f}' | نیروی که در جهت مخالف حرکت از مولکول های هوا به سطح هواپیما وارد می شود. \vec{f} |
| نیروی که به موتور هواپیما وارد می شود \vec{F}' | نیروی پیشران موتور که به هواپیما وارد می شود \vec{F} |

(ج)



قبل از برخورد:

| واکنش | کنش |
|-----------------------------------------------------------------|---------------------------------------------------------------------------|
| نیروی که توپ به زمین وارد می کند. \vec{W}' | نیروی که زمین به توپ وارد می کند. \vec{W} |
| نیروی که از طرف توپ به مولکول های هوا وارد می شود. \vec{f}'_D | نیروی که از طرف مولکول های هوا رو به بالا به توپ وارد می شود. \vec{f}_D |



| بعد از برخورد: | |
|-----------------------------------------------------------------|----------------------------------------------------------------------------|
| واکنش | کنش |
| نیروی که توپ به زمین وارد می‌کند. \vec{W}' | نیروی که زمین به توپ وارد می‌کند. \vec{W} |
| نیروی که از طرف توپ به مولکول‌های هوا وارد می‌شود. \vec{f}'_D | نیروی که از طرف مولکول‌های هوا رو به پایین به توپ وارد می‌شود. \vec{f}_D |

۵۳

(الف)

$$W_1 = mg_{\text{زمین}} \rightarrow W_1 = (0.1 \text{ kg})(9.8 \frac{\text{N}}{\text{kg}}) = 0.98 \text{ N}$$

(ب)

$$W_2 = mg_{\text{ما}} \rightarrow W_2 = (0.1 \text{ kg})(1.6 \frac{\text{N}}{\text{kg}}) = 0.16 \text{ N}$$

$$W_3 = mg_{\text{مریخ}} \rightarrow W_3 = (0.1 \text{ kg})(3.7 \frac{\text{N}}{\text{kg}}) = 0.37 \text{ N}$$

$$W_1 > W_3 > W_2$$

۵۴ چون $f_D = 0$ است، شتاب سقوط یکسان است. با توجه به پایداری انرژی مکانیکی داریم:

$$a = g - \frac{f_D}{m} \xrightarrow{f_D=0} a = g$$

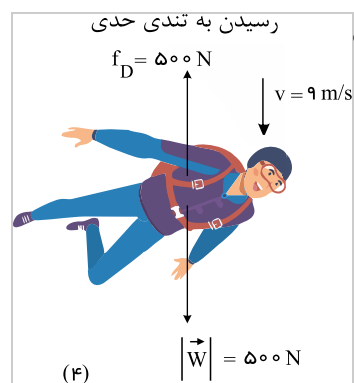
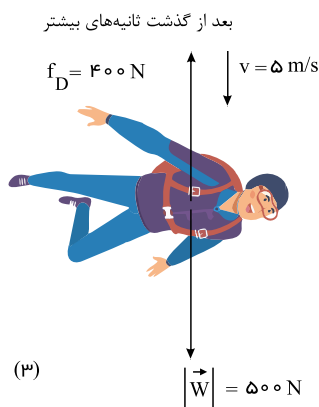
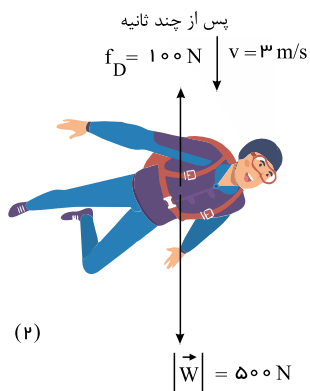
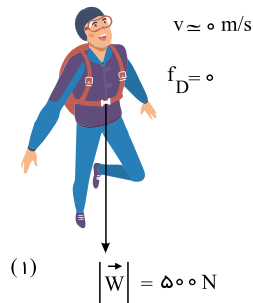
$$v^2 - v_0^2 = 2gh \rightarrow v^2 - 0 = 2gh \rightarrow v = \sqrt{2gh}$$

سرعت برخورد گلوله‌ها با زمین به جرم گلوله‌ها وابسته نیست، پس: $v_1 = v_2$

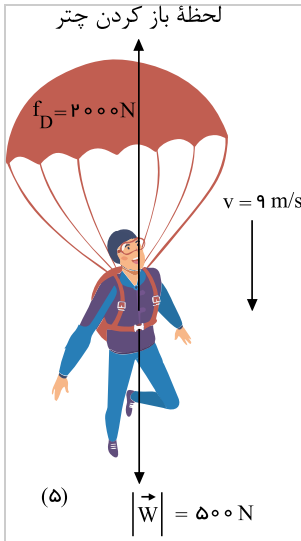
۵۵ فرض می‌کنیم شخصی به وزن 500 N از وسیله به بیرون می‌پرد. بعد از پریدن چتر باز، تندی اولیه آن بسیار ناچیز است و به تدریج تندی و مقاومت هوا افزایش می‌یابد. اگر جهت رو به

پایین را مثبت فرض کنیم، داریم:

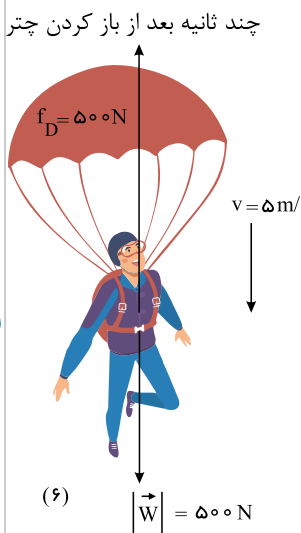
در لحظه پرش از وسیله



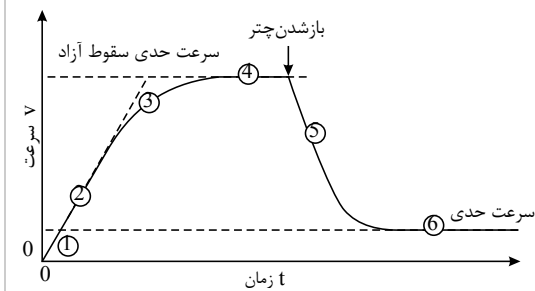
پس از مدتی، مقاومت هوا با وزن چتر باز برابر شده و نیروی خالص وارد بر چتر باز صفر می‌شود و چتر باز با تندی ثابتی (تندی حدی) به طرف زمین حرکت می‌کند.



در این حالت، چتر باز چتر را باز می‌کند. این کار باعث افزایش نیروی مقاومت هوا خواهد شد. در این حالت، برآیند نیروها و در نتیجه شتاب چتر باز به سمت بالا خواهد بود؛ بنابراین حرکتش کندشونده می‌شود و تندی چتر باز و در نتیجه نیروی مقاومت هوا کاهش می‌یابد.



در نهایت نیروی مقاومت هوا کاهش یافته و برابر نیروی وزن خواهد شد و جسم با تندی حدی کمتر به زمین می‌رسد.



(الف) ۵۶

$$F_N = mg = 4 \text{ kg} \times 9,8 \frac{\text{N}}{\text{kg}} = 39,2 \text{ N}$$

(ب)

$$F_N = mg + F' = 4 \text{ kg} \times 9,8 \frac{\text{N}}{\text{kg}} + 20 \text{ N} = 59,2 \text{ N}$$

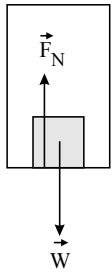
(پ)

$$F_N + F' = mg \rightarrow F_N + 20 \text{ N} = 4 \text{ kg} \times 9,8 \frac{\text{N}}{\text{kg}}$$

$$F_N = 39,2 \text{ N} - 20 \text{ N} = 19,2 \text{ N}$$

۵۷

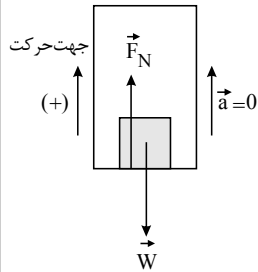
(الف)



$$F_N - mg = 0 \rightarrow F_N = mg$$

$$\rightarrow F_N = 50 \times 9.8 = 490 \text{ N}$$

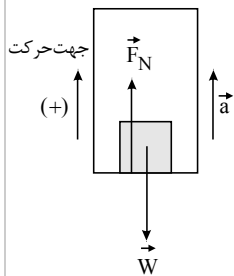
(ب) فرض می‌کنیم آسانسور رو به بالا حرکت می‌کند:



$$F_N - mg = ma = 0 \rightarrow F_N = mg$$

$$\rightarrow F_N = 50 \times 9.8 = 490 \text{ N}$$

(پ)

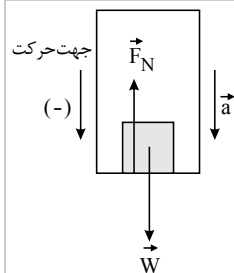


$$F_N - mg = ma \rightarrow F_N = m(g + a)$$

$$F_N = 50(9.8 + 1.2)$$

$$F_N = 550 \text{ N}$$

(ت)



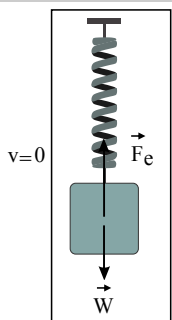
$$F_N - mg = -ma \rightarrow F_N = m(g - a)$$

$$F_N = 50(9.8 - 1.2)$$

$$F_N = 430 \text{ N}$$

۵۸

(الف)

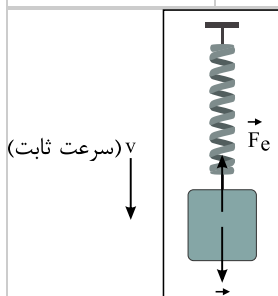


$$F_e - mg = 0 \rightarrow k\Delta L = mg$$

$$\rightarrow 20(L_1 - 12) = 2 \times (9.8)$$

$$\rightarrow L_1 = 12.98 \text{ cm}$$

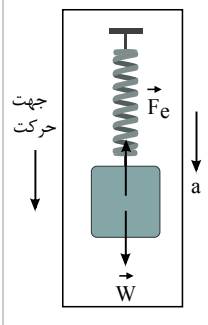
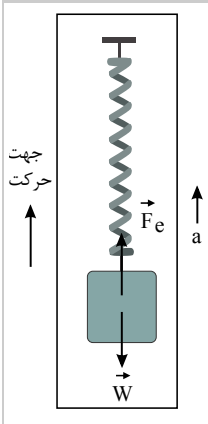
(ب)



$$F_e - mg = 0 \rightarrow k\Delta L = mg$$

$$\rightarrow 20(L_v - 12) = 2 \times 9.8$$

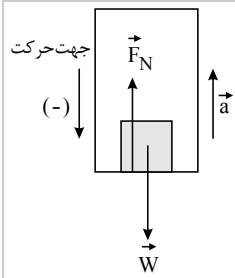
$$\rightarrow L_v = 12.98 \text{ cm}$$

| | |
|----------------------------------------------------------------------------------|---------------------------------------------------------------------------------------------------------------------------------------------------|
|  | <p>(پ)</p> $F_e - mg = -ma \rightarrow k\Delta L = m(g - a)$ $\rightarrow 20(L_f - 12) = 2 \times (9.8 - 2)$ $\rightarrow L_f = 12.78 \text{ cm}$ |
|  | <p>(ت)</p> $F_e - mg = ma \rightarrow k\Delta L = m(g + a)$ $\rightarrow 20(L_f - 12) = 2 \times (9.8 + 2)$ $\rightarrow L_f = 13.18 \text{ cm}$ |

۵۹

| | |
|------------------------------------------------------------------------------------|---------------------------------------------------------------------------------------------------------------------------------------------|
|  | <p>(الف) در این حالت، ترازو عددی بیشتر از اندازه وزن را نشان می‌دهد.</p> $F_N - mg = ma$ $\rightarrow F_N = m(g + a) \rightarrow F_N > mg$ |
|  | <p>(ب) در این حالت، ترازو عددی کوچک‌تر از اندازه وزن را نشان می‌دهد.</p> $F_N - mg = -ma$ $\rightarrow F_N = m(g - a) \rightarrow F_N < mg$ |
|  | <p>(پ) در این حالت، ترازو عددی کوچک‌تر از اندازه وزن را نشان می‌دهد.</p> $F_N - mg = -ma$ $\rightarrow F_N = m(g - a) \rightarrow F_N < mg$ |

ت) در این حالت ترازو، عددی بیشتر از اندازه وزن را نشان می‌دهد.



$$F_N - mg = ma$$

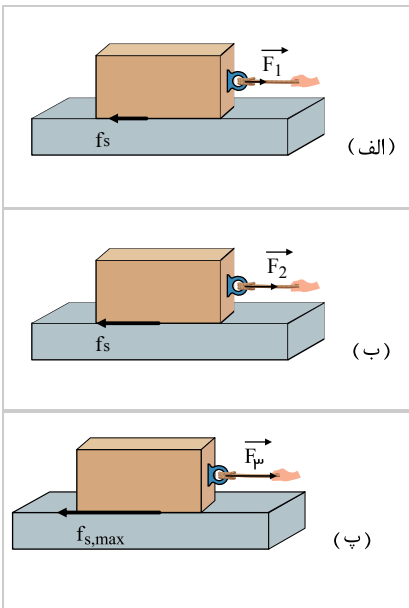
$$\rightarrow F_N = m(g + a) \rightarrow F_N > mg$$

۶۰) اگر مساحت وجه بزرگ مکعب برابر 48 cm^2 و وجه کوچک آن برابر 40 cm^2 و همچنین جرم مکعب چوبی برابر 1 kg باشد، داریم:

| شماره آزمایش | مساحت سطح تماس قطعه با میز | وزن قطعه: عددی که نیروسنج نشان می‌دهد ($f_{s,max}$) | μ_s |
|--------------|----------------------------|----------------------------------------------------------|---------|
| ۱ | 40 cm^2 | ۳ | $0,3$ |
| ۲ | 48 cm^2 | ۳ | $0,3$ |

مشاهده خواهد شد که μ_s تقریباً تغییر نمی‌کند و نتیجه می‌گیریم که ضریب اصطکاک به سطح ظاهری تماس بستگی ندارد.

۶۱) الف) در هر حالت که جسم ساکن است، نیروی اصطکاک ایستایی با نیروی F برابر است، یعنی:



$$\rightarrow F_1 - f_s = ma = 0 \rightarrow F_1 = f_s = 4N$$

$$\rightarrow F_2 - f_s = ma = 0 \rightarrow F_2 = f_s = 8N$$

$$\rightarrow F_p - f_{s,max} = ma = 0 \rightarrow F_p = f_{s,max} = 16N$$

ب) فقط برای حالتی که جسم در آستانه حرکت است، داریم:

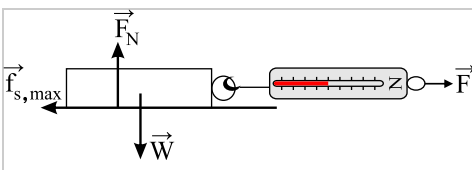
$$f_{s,max} = \mu_s F_N \rightarrow \mu_s = \frac{f_{s,max}}{mg} = \frac{16N}{4kg \times 9,8 \left(\frac{N}{kg}\right)} = 0,40$$

۶۲) حداقل نیروی لازم برای حرکت در آوردن این جسم ساکن، معادل نیروی اصطکاک ایستایی بیشینه است؛ یعنی:

$$F - f_{s,max} = ma = 0 \rightarrow F = f_{s,max} = \mu_s F_N = \mu_s mg$$

$$\rightarrow F = 0,6 \times 75kg \times 9,8 \frac{N}{kg} = 441N$$

۶۳) وسایل لازم: نیروسنج - قطعه‌های چوبی مختلف - ترازو



شرح آزمایش:

۱- قطعه چوبی را از یک وجه روی سطح افقی قرار دهید.

۲- نیروسنج را به قطعه چوب وصل کرده و سر دیگر نیروسنج را در دست گرفته و بکشید. وقتی جسم در آستانه لغزیدن قرار می‌گیرد، عددی که نیروسنج نشان می‌دهد برابر نیروی اصطکاک ایستایی بیشینه ($f_{s,max}$) است.

۳- جرم قطعه چوب را با ترازو اندازه‌گیری کرده و از رابطه $F_N = mg$ مقدار نیروی عمودی را محاسبه کنید.

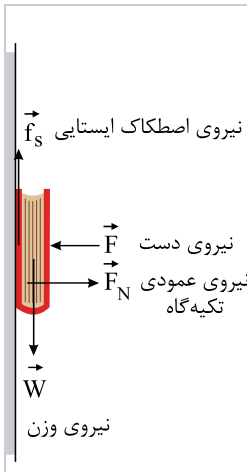
۴- این بار آزمایش را با ۲ قطعه چوبی روی هم انجام دهید. در این حالت عددی که نیروسنج نشان می‌دهد بیشتر می‌شود.



۶- اعداد به دست آمده از نیروسنج را در هر مرحله بر وزن قطعه‌های چوب تقسیم کنید. نتیجه تقسیم در تمامی مرحله‌ها ثابت خواهد بود.
نتیجه: نیروی اصطکاک ایستایی بیشینه با مقدار وزن جسم رابطه مستقیم دارد و با تقسیم این نیرو بر وزن عدد ثابتی به دست می‌آید که همان ضریب اصطکاک ایستایی است.

۶۴

(الف)



(ب)

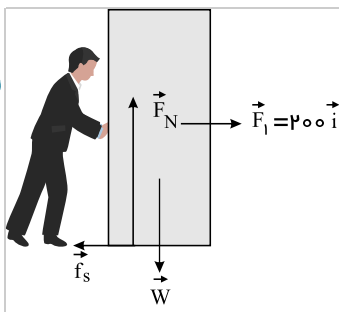
$$mg - f_s = ma \xrightarrow{a=0} f_s = mg \rightarrow f_s = 2,5 \text{ kg} \times 9,8 \frac{\text{N}}{\text{kg}} = 24,5 \text{ N}$$

(پ) خیر. با توجه به اینکه نیروی اصطکاک برابر با وزن جسم است، با تغییر نیروی F ، نیروی اصطکاک تغییری نمی‌کند، بلکه برای ثابت ماندن کتاب در راستای افقی، نیروی عمودی سطح متناسب با نیرویی که ما وارد می‌کنیم، افزایش می‌یابد.

$$F_N - F = 0 \rightarrow F = F_N$$

۶۵

(الف) جسم ساکن است.

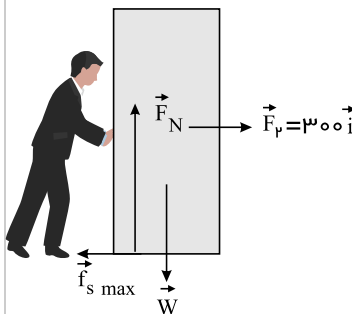


$$F_1 - f_s = 0 \\ \rightarrow f_s = F_1 = 200 \text{ N}$$

در حالت دوم نیز داریم:

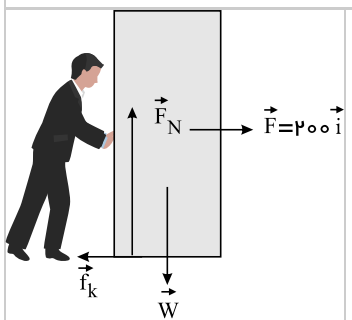
$$F_2 - f_{s, \max} = 0 \Rightarrow f_{s, \max} = F_2 = 300 \text{ N}$$

(ب) جسم در آستانه حرکت است؛ بنابراین داریم:



$$\mu_s = \frac{f_{s, \max}}{mg} = \frac{300 \text{ N}}{90 \text{ kg} \times 9,8 \frac{\text{N}}{\text{kg}}} = 0,34$$

(پ) جسم با شتاب ثابت در حرکت است.



$$F - f_k = ma \\ F - \mu_k mg = ma \\ \rightarrow 200 - 0,2 \times 90 \times 9,8 = 90a \\ \rightarrow a \approx 0,26 \frac{\text{N}}{\text{kg}}$$



$$\vec{F}_{net} = m\vec{a} \rightarrow -f_k = ma \quad \frac{f_k = \mu_k F_N}{F_N = W = mg}$$

$$-\mu_k mg = ma \rightarrow a = -\mu_k g$$

$$a = -(0,2)(9,8 \frac{N}{kg}) = -1,96 \frac{N}{kg}$$

جسم متوقف شده است؛ بنابراین $v = 0$ است.

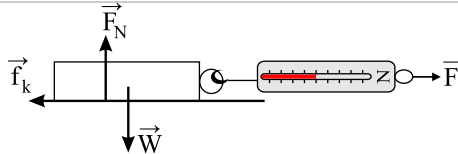
$$v^2 - v_0^2 = 2a\Delta x$$

$$0 - (10 \frac{m}{s})^2 = 2(-1,96 \frac{N}{kg})\Delta x \rightarrow \Delta x = 25,51m$$

(ب) از محاسبات قسمت قبل داریم که $a = -\mu_k g$ ؛ پس شتاب جسم به جرم آن بستگی ندارد و چون مسافت طی شده فقط به شتاب و سرعت اولیه وابسته است، پس با افزایش جرم، تغییری در مسافت طی شده ایجاد نمی‌شود.

$$\Delta x_1 = \Delta x_2 = 25,51m$$

۶۷ الف) به کمک یک نیروسنج، قطعه چوب را می‌کشیم تا حرکت کند. در بازه زمانی که قطعه چوب با سرعت ثابت در حال حرکت است، اندازه نیرویی که نیروسنج نشان می‌دهد برابر است با نیروی اصطکاک جنبشی، در نتیجه خواهیم داشت:



$$F - f_k = ma \rightarrow F - f_k = 0 \rightarrow F = f_k$$

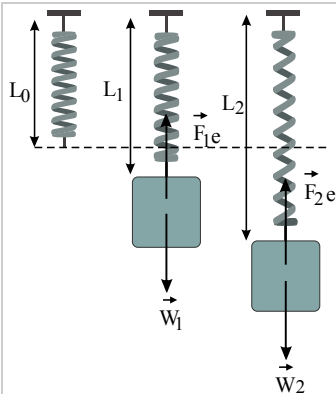
$$F = f_k = \mu_k mg \rightarrow \mu_k = \frac{F}{mg}$$

نیروی F از روی نیروسنج و m را به کمک ترازو به دست می‌آوریم.

(ب) با وجه دیگر قطعه چوب، آزمایش را تکرار می‌کنیم و سعی می‌کنیم توسط نیروسنج، قطعه چوب را با سرعت ثابت بکشیم. عددی که نیروسنج نشان می‌دهد در این شرایط تقریباً برابر حالت قبل می‌باشد. پس نیروی اصطکاک جنبشی به مساحت سطح تماس بستگی ندارد.

۶۸

الف)



$$F_{1e} = m_1 g \rightarrow k(L_1 - L_0) = m_1 g \quad (1)$$

$$F_{2e} = m_2 g \rightarrow k(L_2 - L_0) = m_2 g \quad (2)$$

$$(m_2 - m_1)g = k(L_2 - L_1)$$

$$\rightarrow k = \frac{(m_2 - m_1)g}{(L_2 - L_1)}$$

$$\rightarrow k = \frac{(\Delta kg - 4kg) \times 9,8 \frac{N}{kg}}{(15cm - 14cm)} = 9,8 \frac{N}{cm}$$

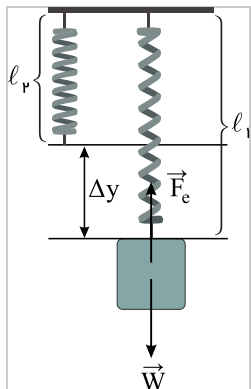
روش دوم:

$$\Delta F_e = k\Delta L \xrightarrow{\frac{\Delta L = L_2 - L_1}{\Delta F_e = (\Delta m)g}} \rightarrow k = \frac{(\Delta m)g}{\Delta L} = \frac{1 \times 9,8}{1} \rightarrow k = 9,8 \frac{N}{cm}$$

(ب)

$$k(L_1 - L_0) = m_1 g \rightarrow 9,8 \left(\frac{N}{cm}\right)(14cm - L_0) = 4kg \times 9,8 \frac{N}{kg} \rightarrow L_0 = 10cm$$

۶۹



الف) تعدادی فنر با ضخامت‌های مختلف تهیه می‌کنیم. هرچه فنر انعطاف‌پذیرتر باشد، ثابت فنر (سختی آن) کوچک‌تر و هرچه انعطاف کمتری داشته باشد، ثابت فنر (سختی آن) بیشتر است.

ب) ابتدا فنر را به‌طور آزادانه و بدون هیچ وزنه‌ای از سقف آویزان می‌کنیم و طول اولیه آن را اندازه می‌گیریم. سپس به انتهای آن، وزنه‌ای با جرم مشخص آویزان می‌کنیم. در حالت تعادل به کمک خط‌کش، طول جدید فنر را اندازه می‌گیریم.

در حالت تعادل، بزرگی نیروی وارد شده از طرف فنر به وزنه، با نیرویی که از طرف زمین به جسم وارد می‌شود، برابر است؛ بنابراین خواهیم داشت:

$$F_c = W \rightarrow k\Delta y = mg \rightarrow k = \frac{mg}{\Delta y}$$

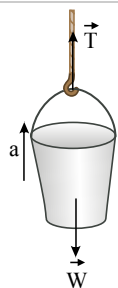
سپس در چندین نوبت فنرهای مختلف را مطابق شکل آزمایش کرده و هر بار با توجه به رابطه $k = \frac{mg}{\Delta y}$ مقدار k (ثابت فنر) را

به دست می‌آوریم.

همچنین می‌توان آزمایش را با جرم‌های مختلف تکرار کرد و به دلیل خطای اندازه‌گیری چند مقدار برای k به دست آورد. در نهایت از اعداد به دست آمده میانگین گرفته و عدد دقیق‌تری برای k به دست آورد.

۷۰

با استفاده از قانون دوم نیوتون داریم:



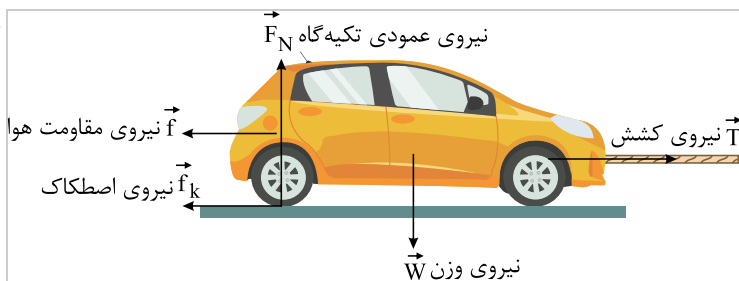
$$F_{net} = ma \rightarrow T - mg = ma$$

$$T - 16 \times 9.8 = 16 \times 1.2$$

$$T = 156.8 + 19.2 = 176N$$

۷۱

با رسم نیروهای وارد بر اتومبیل و به‌کارگیری قانون دوم نیوتون، داریم:



الف) چون خودرو با سرعت ثابت حرکت می‌کند، نیروهای وارد بر آن متوازن هستند؛ بنابراین:

$$T - f_k - f = ma = 0 \rightarrow T = f_k + f = 380 + 220 = 600N$$

ب)

$$T' - f_k - f = ma \rightarrow T' = ma + f_k + f = 2 \times 1500 + 600 = 3600N$$

۷۲ الف) زمان واکنش و تندی خودرو

ب)

$$\Delta x = vt \rightarrow 18m = v \times 0.6s \rightarrow v = 30 \frac{m}{s}$$

پ)

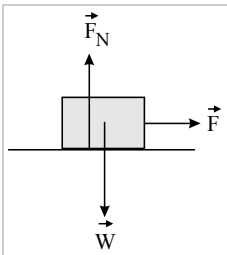
$$\Delta x = \left(\frac{v + v_0}{2}\right)t = \left(\frac{0 + 30}{2}\right) \times 5 = 75m$$

$$a = \frac{v - v_0}{t} = \frac{0 - 30}{5} \rightarrow a = -6 \frac{m}{s^2}$$

ت)

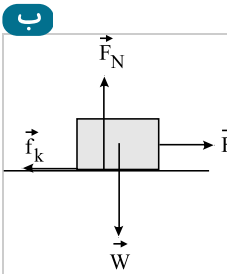
$$F_{net} = ma \rightarrow F_{net} = 1500 \times (-6) \rightarrow F_{net} = -9000N$$

۷۳



$$\vec{F}_{net} = m\vec{a} \rightarrow F = ma$$

$$\rightarrow F = 5 \times 2 = 10 \text{ N}$$



$$\vec{F}_{net} = m\vec{a} \rightarrow F - f_k = ma$$

$$\frac{f_k = \mu_k F_N}{F_N = W} \rightarrow F - \mu_k W = ma$$

$$F - (0,2)(5)(9,8) = (5)(2)$$

$$\rightarrow F - (9,8) = 10 \rightarrow F = 19,8 \text{ N}$$

۷۴ الف) چون در این قسمت، حرفی از زمان به میان نیامده، از رابطه سرعت-جابجایی استفاده می‌کنیم

$$v_o = 22 \frac{km}{h} = 22 \div 3,6 = 20 \frac{m}{s}$$

$$v^r - v_o^r = 2a\Delta x \rightarrow 0^r - (20 \frac{m}{s})^r = 2a \times 20 \text{ m}$$

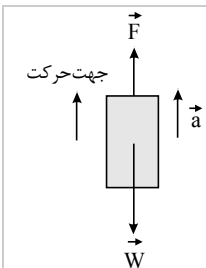
$$a = -\frac{200 \text{ m}}{40 \text{ s}^2} = -10 \frac{m}{s^2}$$

(ب)

$$v = at + v_o \rightarrow 0 = -10t + 20 \rightarrow t = 2 \text{ s}$$

پ) در حین ترمز، به جز نیروی اصطکاک، نیرویی در امتداد سطح به ماشین وارد نمی‌شود.

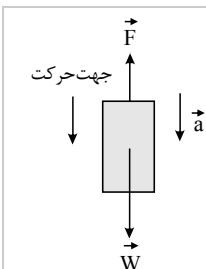
$$-f_k = ma \rightarrow -f_k = -10 \text{ m} \rightarrow f_k = 10 \times 1200 = 12000 \text{ N}$$



$$\vec{F}_{net} = m\vec{a} \rightarrow F - W = ma \rightarrow F - mg = ma$$

$$F - (5)(9,8) = (5)(2)$$

$$\rightarrow F - (49) = 10 \rightarrow F = 59 \text{ N}$$

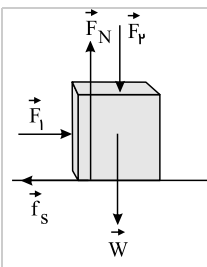


$$W - F = ma \rightarrow mg - F = ma$$

$$(5)(9,8) - F = (5)(2)$$

$$\rightarrow (49) - F = 10 \rightarrow F = 39 \text{ N}$$

(الف) در امتداد قائم، نیروهای وارد بر جسم متوازن هستند، بنابراین:



$$\vec{F}_{net} = m\vec{a}$$

$$F_N - F_v - W = ma = 0 \rightarrow F_N = F_v + W$$

با افزایش F_v ، نیروی عمودی سطح وارد بر جعبه افزایش می‌یابد.

(ب) چون جسم ساکن است، نیروی اصطکاک ایستایی برابر نیروی F_1 است، یعنی:

$$F_1 - f_s = ma = 0 \rightarrow F_1 = f_s$$

پس با افزایش F_v ، نیروی اصطکاک تغییر نمی‌کند.

(پ)

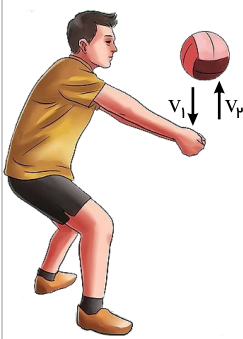
$$f_{s,max} = \mu_s F_N \rightarrow f_{s,max} = \mu_s (F_v + W)$$

با افزایش F_v ، مقدار $f_{s,max}$ افزایش می‌یابد.

(ت) نیروی خالص وارد بر جسم در راستای x و y صفر است. چون جسم در این دو راستا حرکتی ندارد.

۷۸

(الف) اگر جهت v_1 را مثبت در نظر بگیریم، جهت v_2 منفی است؛ بنابراین داریم:



$$\Delta p = m\Delta v = m(v_2 - v_1)$$

$$\Delta p = 0,28 \times (-22 - 15)$$

$$\Delta p = -10,736 \frac{kgm}{s}$$

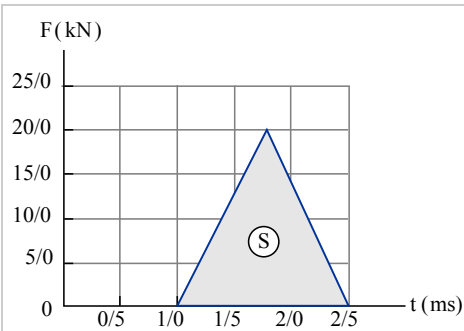
(ب) نیروی متوسط مؤثر وارد بر توپ برابر با آهنگ تغییر تکانه توپ است:

$$F_{av} = \frac{\Delta p}{\Delta t} = \frac{-10,736 \frac{kgm}{s}}{0,06s} \approx -178,93N$$

۷۹

$$\left. \begin{aligned} K &= \frac{1}{2}mv^2 \\ p &= mv \rightarrow v = \frac{p}{m} \end{aligned} \right\} \rightarrow K = \frac{1}{2}m\left(\frac{p}{m}\right)^2 \rightarrow K = \frac{p^2}{2m}$$

۸۰



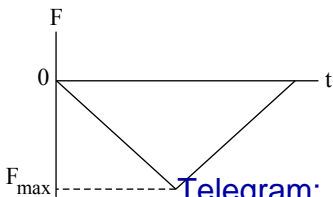
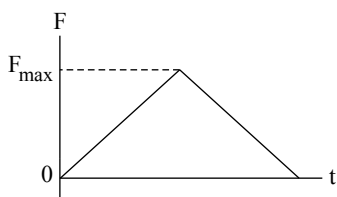
$S = \Delta p$ سطح زیر نمودار نیرو-زمان، برابر تغییر تکانه است:

$$S = \frac{1}{2} \left((2,5 - 1) \times 10^{-3}s \right) \times (20 \times 10^3 N)$$

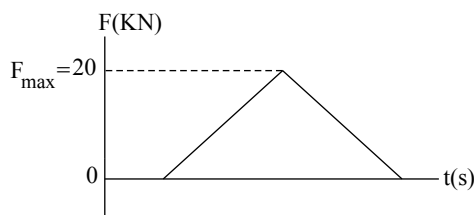
$$S = \Delta p = 15N \cdot s$$

$$F_{av} = \frac{\Delta p}{\Delta t} = \frac{15N \cdot s}{1,5 \times 10^{-3}s} = 10000N$$

به‌طور کلی اگر نمودار نیرو-زمان به‌صورت یک مثلث در بالا یا پایین محور زمان باشد، آنگاه نیروی خالص متوسط مؤثر وارد بر جسم، نصف ارتفاع مثلث است؛ یعنی داریم:



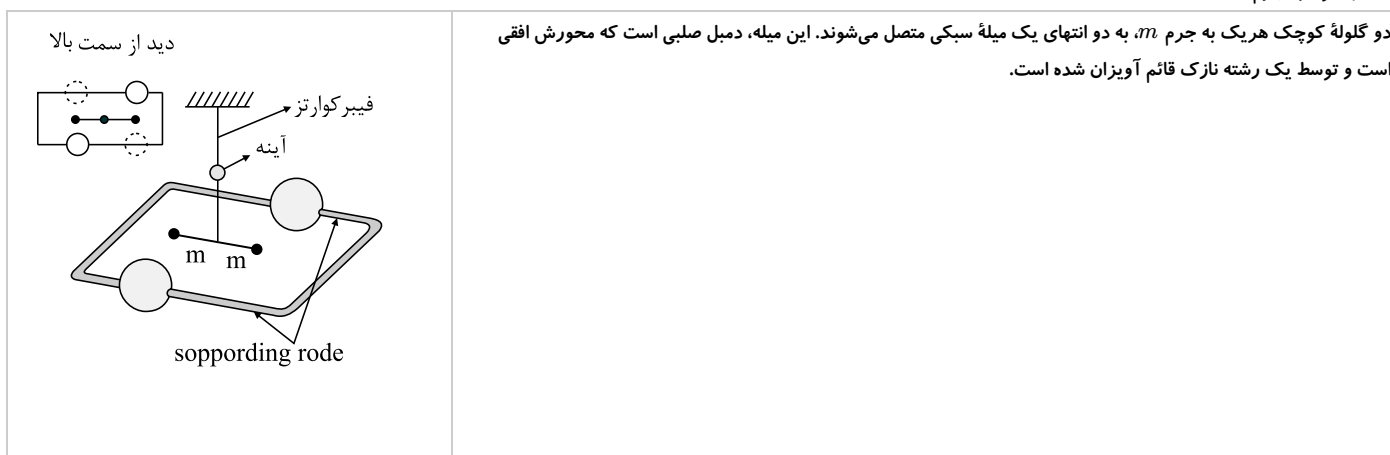
در اینجا:



$$F_{av} = \frac{1}{2} F_{max} = 10 \text{ kN} = 10000 \text{ N}$$

۸۱) ترازوی کاوندیش وسیله‌ای است که برای بررسی تجربی قانون جهانی گرانش نیوتون به کار می‌رود. اما این تناسب را می‌توان با تعریف یک ثابت تناسب به تساوی تبدیل کرد. این ثابت را ثابت جهانی گرانش می‌گویند. برای تعیین مقدار ثابت جهانی گرانش که آن را با G نمایش می‌دهیم، باید نیروی جاذبه میان دو جرم را اندازه‌گیری کنیم. قسمت‌های مختلف ترازوی کاوندیش:

(۱) دو گلوله به جرم m



دو گلوله کوچک هر یک به جرم m ، به دو انتهای یک میله سبکی متصل می‌شوند. این میله، دمبل صلبی است که محورش افقی است و توسط یک رشته نازک قائم آویزان شده است.

(۲) دو گلوله بزرگ به جرم M

دو گلوله بزرگ هر کدام به جرم M ، که در نزدیک دو سر دمبل و در دو طرف مخالف قرار داده شده‌اند. این دو گلوله نیز بر روی یک میله افقی قرار گرفته‌اند و نقطه وسط این میله بر روی تکیه‌گاهی قرار گرفته است، به گونه‌ای که می‌تواند آزادانه بچرخد. نقطه وسط این میله درست در راستای مرکز دمبل و در زیر آن قرار دارد.

(۳) آینه کوچک

این آینه کوچک بر روی رشته نازک و کمی بالاتر از دمبل قرار دارد. از طریق یک چشمه نور، بر این آینه نور تابیده می‌شود، نور منعکس شده از آینه بر روی یک مقیاس شیشه‌ای می‌افتد و به این وسیله، میزان انحراف آینه (یا زاویه چرخش) آن قابل اندازه‌گیری است. شرح کار ترازوی کاوندیش:

هرگاه جرم‌های بزرگ M در نزدیکی میله‌ای که جرم‌های کوچک m روی آن هستند، قرار گیرند، در این صورت براساس قانون جهانی گرانش نیوتون، بر گلوله‌های کوچک نیرو جاذبه‌ای وارد می‌شود، این امر باعث چرخیدن دمبل و در نتیجه تاب خوردن رشته نازک و چرخش آینه می‌شود. با استفاده از شیشه مدرج می‌توان میزان انحراف آینه (زاویه α) را هنگام چرخش گلوله‌های کوچک اندازه‌گیری نمود.

اندازه‌گیری G :

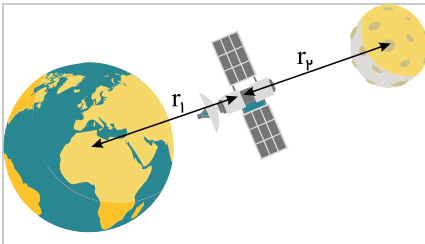
ثابت G به کمک روش انحراف پیشینه تعیین می‌شود، همان‌طور که در طرز کار ترازو گفته شد، میله بر اثر گرانش گلوله‌های بزرگ حول نقطه آویز می‌چرخد و در حین چرخش با گشتاور نیروها مخالفت می‌کند. α (زاویه پیش‌رشته هنگام حرکت گلوله‌ها از موضعی به موضع دیگر) با مشاهده انحراف باریکه بازتابیده از آینه کوچک متصل به رشته اندازه‌گیری می‌شود (تصویر رشته لامپ توسط آینه متصل به m_1 و m_2 روی خط کش مدرج می‌افتد و در نتیجه هرگونه دوران m_1 و m_2 قابل اندازه‌گیری است).

اگر جرم‌ها و فاصله میان آنها و نیز ثابت پیش‌رشته معلوم باشد، می‌توانیم G را از روی زاویه پیش‌رشته اندازه‌گیری شده محاسبه کنیم. چون نیروی جاذبه کم است، اگر بخواهیم پیش‌رشته قابل مشاهده‌ای داشته باشیم باید ثابت پیش‌رشته فوق‌العاده کوچک باشد. در این ترازو جرم‌ها مسلماً ذره نیستند، بلکه اجسامی بزرگ هستند؛ اما چون این جرم‌ها کره‌های یکنواختی هستند از لحاظ گرانشی طوری عمل می‌کنند که گویی تمام جرم آنها در مرکزشان متمرکز شده است. چون G بسیار کوچک است نیروهای گرانشی میان اجسام بر روی سطح زمین فوق‌العاده کوچک‌اند و می‌توان از آنها صرف‌نظر کرد.

۸۲

$$F = G \frac{M_e m}{r^2} \rightarrow 10^{-8} \text{ N} = \frac{6,67 \times 10^{-11} \text{ N} \cdot \frac{\text{m}^2}{\text{kg}^2} \times 50 \text{ kg} \times m}{(2m)^2} \rightarrow m = 11,99 \text{ kg}$$

۸۳



$$F_{em} = G \frac{M_e m}{r_1^2}, \quad F_{mm} = G \frac{M_m m}{r_2^2}$$

$$F_{net} = G \frac{M_e m}{r_1^2} - G \frac{M_m m}{r_2^2} = \frac{Gm}{r^2} (M_e - M_m)$$

(الف)

$$r_1 = r_2 = r = \frac{1}{2}d = \frac{1}{2} \times 3,84 \times 10^8 \text{ km} = 1,92 \times 10^8 \text{ m}$$

$$F_{net} = \frac{6,67 \times 10^{-11} \text{ N} \cdot \frac{\text{m}^2}{\text{kg}^2} \times 3 \times 10^3 \text{ kg}}{(1,92 \times 10^8 \text{ m})^2} (5,98 \times 10^{24} \text{ kg} - 7,36 \times 10^{22} \text{ kg})$$

$$F_{net} = 320,59 \text{ N}$$

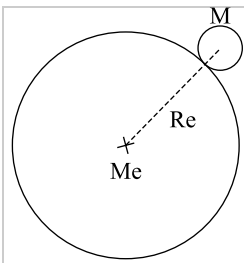
(ب)

$$F_{net} = 0 \Rightarrow G \frac{M_e m}{r_1^2} = G \frac{M_m m}{r_2^2} \rightarrow \frac{M_e}{r_1^2} = \frac{M_m}{r_2^2} \xrightarrow{r_1 + r_2 = d}$$

$$\frac{M_e}{M_m} = \frac{r_1^2}{(d - r_1)^2} \rightarrow \frac{r_1}{(d - r_1)} = \sqrt{\frac{5,98 \times 10^{24} \text{ kg}}{7,36 \times 10^{22} \text{ kg}}} \approx 9$$

$$\rightarrow \frac{r_1}{d - r_1} = 9 \rightarrow r_1 = 9d - 9r_1 \rightarrow r_1 = 0,9d = 3,456 \times 10^8 \text{ m}$$

۸۴



$$\left. \begin{aligned} F &= G \frac{M_e m}{R^2} \\ F &= mg \end{aligned} \right\} \rightarrow G \frac{M_e m}{R^2} = mg \rightarrow g = G \frac{M_e}{R^2}$$

(الف) ۸۵

$$\frac{W_h}{W_{R_e}} = \left(\frac{R_e}{R_e + h} \right)^2 \rightarrow \frac{1}{2} = \left(\frac{R_e}{R_e + h} \right)^2$$

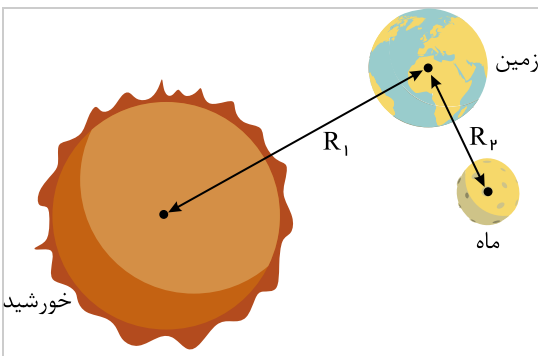
$$\rightarrow \sqrt{2} R_e = R_e + h \rightarrow h = (\sqrt{2} - 1) R_e \approx 0,4 R_e$$

(ب)

$$F = \frac{6,67 \times 10^{-11} \times 250 \times 5,98 \times 10^{24}}{(36000 \times 10^3 + 6400 \times 10^3)^2}$$

$$F = 55,467 \text{ N}$$

۸۶



$$g_{R_{e1}} = \frac{GM_s}{R_1^2} = \frac{6,67 \times 10^{-11} \text{ N} \cdot \frac{\text{m}^2}{\text{kg}^2} \times 1,99 \times 10^{30} \text{ kg}}{(149,6 \times 10^6 \times 10^3 \text{ m})^2}$$

$$g_{R_{e1}} = 5,93 \times 10^{-7} \frac{\text{N}}{\text{kg}}$$

(الف)

(ب)

$$g_{R_{e2}} = \frac{GM_m}{R_2^2} = \frac{6,67 \times 10^{-11} \text{ N} \cdot \frac{\text{m}^2}{\text{kg}^2} \times 7,36 \times 10^{22} \text{ kg}}{(384,4 \times 10^3 \text{ m})^2}$$



$$g = G \frac{M_e}{r^2} \xrightarrow{r=R_e+h} g = \frac{6,67 \times 10^{-11} \frac{N \cdot m^2}{kg^2} \times 5,98 \times 10^{24} kg}{(6400 \times 10^3 + 600 \times 10^3 m)^2} \rightarrow g = 8,14$$

(ب)

$$\frac{W_h}{W_{Re}} = \frac{G \frac{M_e}{r^2}}{G \frac{M_e}{R_e^2}} = \left(\frac{R_e}{R_e+h} \right)^2 \rightarrow \frac{W_h}{W_{Re}} = \left(\frac{6400}{6400+600} \right)^2 \approx 0,84$$

۸۸ وقتی شناسه تابع کسینوس به اندازه 2π رادیان افزایش یابد، این تابع خودش را تکرار می‌کند. بنابراین:

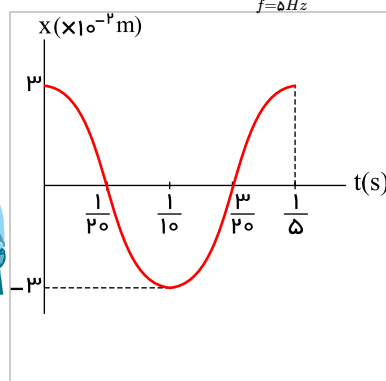
$$\omega(t+T) = \omega t + 2\pi \Rightarrow \omega T = 2\pi \Rightarrow \omega = \frac{2\pi}{T}$$

۸۹ با توجه به رابطه $f = \frac{1}{T}$ داریم:

$$f = \frac{1}{T} = \frac{1}{0,92} = 1,087 Hz$$

۹۰

$$\text{معادله حرکت: } x = A \cos \omega t \xrightarrow[\substack{\omega=2\pi f \\ f=5 Hz}]{\omega=2\pi f} x = 3 \times 10^{-2} \cos 10\pi t$$



نمودار مکان - زمان:

$$t = 0 \rightarrow x = 3 \times 10^{-2} m$$

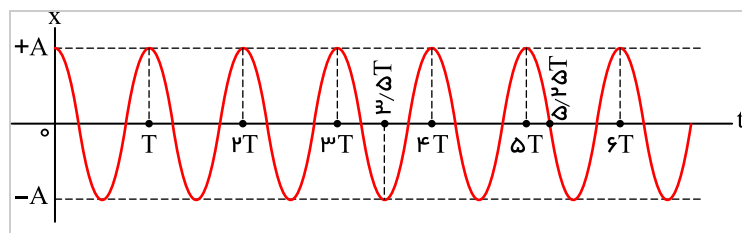
$$t = \frac{T}{4} = \frac{1}{20} s \rightarrow x = 3 \times 10^{-2} \cos \frac{10\pi}{20} = 0$$

$$t = \frac{T}{2} = \frac{1}{10} s \rightarrow x = 3 \times 10^{-2} \cos \pi = -3 \times 10^{-2} m$$

$$t = \frac{3T}{4} = \frac{3}{20} s \rightarrow x = 3 \times 10^{-2} \cos \frac{3\pi}{2} = 0$$

$$t = T = \frac{1}{5} s \rightarrow x = 3 \times 10^{-2} \cos 2\pi = 3 \times 10^{-2} m$$

۹۱



نمودار مکان - زمان نوسانگر را در چند دوره رسم می‌کنیم.

الف) طبق شکل در $t = 2T$ ذره در $x = +A$ است.ب) در $t = 3,5T$ ذره در $x = -A$ است.پ) در $t = 5,25T$ ذره در $x = 0$ است.

۹۲

الف

در مرکز نوسان، تندی نوسانگر بیشینه است که این اتفاق اولین بار در $t_1 = \frac{T}{4}$ رخ می‌دهد. داریم:

$$\left. \begin{aligned} x &= 0,05 \cos 20\pi t \\ x &= A \cos \omega t \end{aligned} \right\} \omega = 20\pi \rightarrow \frac{2\pi}{T} = 20\pi \rightarrow T = \frac{1}{10} s \rightarrow t_1 = \frac{T}{4} = \frac{1}{40} s$$

ب

در دو انتهای مسیر، تندی نوسانگر برابر صفر است. پس از لحظه صفر، نوسانگر اولین بار در $t_2 = \frac{T}{2}$ به انتهای مسیر ($x = -A$) می‌رسد:

$$t_2 = \frac{T}{2} = \frac{1}{20} s$$

الف ۹۳

$$A = 9 cm = 9 \times 10^{-2} m$$

$$w = \sqrt{\frac{k}{m}} = \sqrt{\frac{6 \times 10^2 \frac{N}{m}}{1 kg}} = 10 \sqrt{6} \frac{rad}{s}$$

$$v_{max} = A\omega \rightarrow v_{max} = 9 \times 10^{-2} \times 10 \sqrt{6} = 0,9 \sqrt{6} \frac{m}{s}$$



$$E = K_{max} = \frac{1}{2}mv_{max}^2 \rightarrow E = \frac{1}{2} \times 1 \times (0,9\sqrt{6})^2 = 2,43J$$

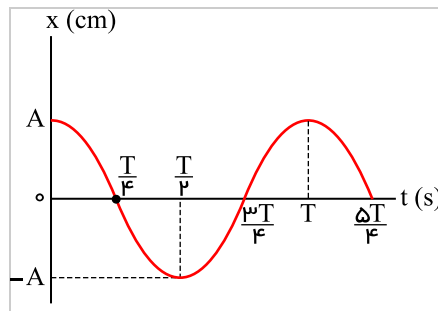
$$K = \frac{1}{2}mv^2 = \frac{1}{2} \times 1 \times (1,6)^2 = 1,28J$$

۵۳

$$E = U + K \rightarrow U + 2,43 - 1,28 = 1,15J$$

۹۴

الف) ابتدا با توجه به نمودار، دامنه و دوره تناوب حرکت را به دست می آوریم:



$$A = 4cm = 4 \times 10^{-2}m \quad \text{و} \quad \frac{\Delta T}{4} = 0,5s \rightarrow T = 0,4s$$

$$\omega = \frac{2\pi}{T}$$

$$T = 0,4s$$

$$\text{معادله حرکت: } x = A \cos \omega t \rightarrow x = 4 \times 10^{-2} \cos 5\pi t$$

(ب)

$$2 \times 10^{-2} = 4 \times 10^{-2} \cos 5\pi t_1 \rightarrow \cos 5\pi t_1 = \frac{1}{2}$$

$$\xrightarrow{\text{دفع اول}} 5\pi t_1 = \frac{\pi}{3} \rightarrow t_1 = \frac{1}{15}s$$

(پ)

$$\omega = \sqrt{\frac{k}{m}} \rightarrow k = m\omega^2 \quad \left. \begin{array}{l} F = -m\omega^2 x \xrightarrow{F=ma} a = -\omega^2 x \\ F = -kx \end{array} \right\}$$

$$\rightarrow |a| = (5\pi)^2 \times 2 \times 10^{-2} = 0,5\pi^2 \frac{m}{s^2}$$

الف) دوره تناوب سامانه جرم - فنر با یک فنر معین ولی وزنه های متفاوت، با جذر جرم وزنه به طور مستقیم متناسب است ($T \propto \sqrt{m}$). جرم های مختلفی به فنری با ثابت معین $k = 100 \frac{N}{m}$ متصل می کنیم. پس از رسیدن جسم به تعادل، آن را کمی به پایین می کشیم و رها می کنیم؛ سپس تعداد نوسان های N را در مدت t ثانیه ثبت می کنیم و از رابطه $T = \frac{t}{N}$ دوره تناوب جسم را به دست می آوریم. این کار را برای تمام وزنه ها انجام می دهیم و اعداد به دست آمده را در جدول زیر ثبت می کنیم.

| جرم (kg) | ثابت فنر ($\frac{N}{m}$) | دوره $T(s)$ |
|--------------|----------------------------|-------------|
| ۱ kg | $100 \frac{N}{m}$ | ۰,۶۲۸ s |
| ۴ kg | $100 \frac{N}{m}$ | ۱,۲۵۶ s |
| ۹ kg | $100 \frac{N}{m}$ | ۱,۸۸۴ s |

نتایج آزمایش مشخص می کند که دوره تناوب با جذر جرم وزنه به طور مستقیم متناسب است؛ یعنی وقتی جرم ۴ برابر می شود دوره تناوب ۲ برابر می شود.

ب) دوره تناوب سامانه جرم - فنر با یک وزنه معین ولی فنرهای متفاوت، با جذر ثابت فنر به طور وارون متناسب است. ($T \propto \frac{1}{\sqrt{k}}$). یک وزنه با جرم ۱ kg را به فنرهایی با ثابت های متفاوت متصل می کنیم و آزمایش را به همان شکل که در بالا توضیح دادیم، انجام می دهیم و نتایج آزمایش را در جدول زیر ثبت می کنیم.

| جرم (kg) | ثابت فنر ($\frac{N}{m}$) | دوره $T(s)$ |
|--------------|----------------------------|-------------|
| ۱ kg | $64 \frac{N}{m}$ | ۷,۸۵ s |
| ۱ kg | $81 \frac{N}{m}$ | ۰,۶۹۸ s |
| ۱ kg | $100 \frac{N}{m}$ | ۰,۶۲۸ s |

نتایج آزمایش نشان می دهد که دوره تناوب سامانه جرم - فنر با جذر ثابت فنر نسبت وارون دارد.

پ) دوره تناوب سامانه جرم - فنر مستقل از دامنه است. سامانه جرم - فنر را با دامنه های مختلف به نوسان درمی آوریم. برای هر دامنه معین دوره تناوب را اندازه گیری می کنیم. مشخص می شود



از آنجایی که وزن خودرو به طور یکنواخت روی فنرها توزیع شده، هر فنر $\frac{1}{4}$ جرم خودرو را تحمل می‌کند.

$$m' = \frac{m}{4} = \frac{1600}{4} = 400 \text{ kg}$$

$$T = 2\pi\sqrt{\frac{m'}{k}}$$

$$\rightarrow T = 2 \times 3,14 \times \sqrt{\frac{400}{2 \times 10^4}} \approx 0,89 \text{ s}$$

$$f = \frac{1}{T} = \frac{1}{0,89 \text{ s}} = 1,12 \text{ Hz}$$

$$\omega = \frac{2\pi}{T} \rightarrow$$

$$\omega = \frac{2 \times 3,14}{0,89} = 7,06 \frac{\text{rad}}{\text{s}}$$

$$T = 2\pi\sqrt{\frac{m}{k}} \rightarrow \frac{T_2}{T_1} = \sqrt{\frac{m_2}{m_1}}$$

$$\frac{m_2 = m + 2}{m_1 = m} \rightarrow \frac{3}{2} = \sqrt{\frac{m + 2}{m}}$$

$$\rightarrow \frac{9}{4} = \frac{m + 2}{m} \rightarrow 9m = 4m + 8$$

$$\Rightarrow m = \frac{8}{5} = 1,6 \text{ kg}$$

$$E = U_{\text{max}} = \frac{1}{2}kA^2 \rightarrow E = \frac{1}{2} \times 74 \times (8 \times 10^{-2})^2 = 23,68 \times 10^{-2} \text{ J}$$

$$E = K + U \rightarrow K = E - U$$

$$\rightarrow K = 23,68 \times 10^{-2} - 8 \times 10^{-2} = 15,68 \times 10^{-2} \text{ J}$$

$$\left. \begin{array}{l} E = K + U \\ K = U \end{array} \right\} E = K + K \xrightarrow{E=K_{\text{max}}} K_{\text{max}} = 2k$$

$$\frac{1}{2}mv_{\text{max}}^2 = 2 \times \frac{1}{2}mv^2$$

$$\xrightarrow{v_{\text{max}} = A\omega} (0,05 \times 20\pi)^2 = 2v^2 \rightarrow v = \pi \frac{\sqrt{2}}{2} \frac{m}{s}$$

۱۰۰ الف) می‌دانیم که دوره تناوب آونگ از رابطه $T = 2\pi\sqrt{\frac{l}{g}}$ به دست می‌آید، پس در استوا: ($T_{\text{استوا}} < T_{\text{تهران}} < T_{\text{استوا}} < g_{\text{استوا}} < g_{\text{تهران}}$) ساعت عقب می‌افتد. برای محاسبه مقدار عقب افتادن

در شبانه‌روز از روش زیر استفاده می‌کنیم:

$$\frac{\Delta T}{T_{\text{تهران}}} = \frac{T_{\text{استوا}} - T_{\text{تهران}}}{T_{\text{تهران}}} = \frac{2\pi\sqrt{\frac{l}{g_{\text{استوا}}}} - 2\pi\sqrt{\frac{l}{g_{\text{تهران}}}}}{2\pi\sqrt{\frac{l}{g_{\text{تهران}}}}} = \sqrt{\frac{g_{\text{تهران}}}{g_{\text{استوا}}}} - 1$$

$$\frac{\Delta T}{T_{\text{تهران}}} = \sqrt{\frac{9,8}{9,78}} - 1 \approx 0,001 \xrightarrow{T_{\text{تهران}} = 1 \text{ s}} \Delta T \approx 0,001 \text{ s}$$

یعنی در هر ثانیه که آونگ در تهران نوسان می‌کند، آونگ در استوا به اندازه $0,001 \text{ s}$ عقب می‌افتد.

از طرفی تعداد ثانیه‌های شبانه‌روز برابر است با:

$$n = 24 \times 60 \times 3600$$

که اگر در ΔT بالا ضرب شود حاصل می‌شود:

$$\Delta t = n\Delta T \approx 5184 \text{ (s)} = 86,4 \text{ (دقیقه)}$$

یعنی در هر ۲۴ ساعت، ساعت در استوا به اندازه $86,4$ دقیقه عقب می‌افتد.

ب) با افزایش دما، طبق رابطه $L_2 = L_1(1 + \alpha\Delta\theta)$ ، طول فنر افزایش می‌یابد. افزایش طول فنر باعث افزایش دوره تناوب نیز افزایش می‌یابد؛ یعنی ساعت عقب می‌افتد.



* به عنوان یک نکته توجه داشته باشید که با افزایش دوره تناوب، ساعت عقب می‌افتد و با کاهش دوره تناوب، ساعت جلو می‌افتد.

۱۰۱

$$T = 2\pi\sqrt{\frac{L}{g}} \xrightarrow{\omega = \frac{2\pi}{T}} \omega = \sqrt{\frac{g}{L}} \Rightarrow \begin{cases} \omega_1 = 2 \frac{\text{rad}}{\text{s}} \Rightarrow L_1 = \frac{9,8}{4} = 2,45 \text{m} \\ \omega_2 = 4 \frac{\text{rad}}{\text{s}} \Rightarrow L_2 = \frac{9,8}{16} = 0,6125 \text{m} \end{cases}$$

۱۰۲ هر ساخته دست بشر یا هر جسم دلخواه اگر وادار به نوسان شود با یک یا چند بسامد، نوسان می‌کند که به آنها بسامد طبیعی جسم می‌گوییم. ساختمان‌ها مانند میله‌هایی هستند که در زمین فرو رفته‌اند. حال اگر این میله را به یک سمت بکشیم و رها کنیم شروع به نوسان می‌کند و اگر تشدید رخ دهد، امکان دارد فرو بریزد. این کار توسط زلزله می‌تواند رخ دهد. هر زلزله از تعداد زیادی نوسان‌های پشت سر هم یا بسامدهای متفاوت تشکیل شده است. در این زمین لرزه، بسامد زلزله با بسامد ساختمان‌های نیمه‌بلند یکسان بوده و به همین دلیل پدیده تشدید در ساختمان‌های نیمه‌بلند اتفاق افتاد. اگرچه در ساختمان‌های کوتاه‌تر و بلندتر هم نوسان و لرزش وجود داشت ولی تشدید اتفاق نیفتاده و تخریبی در آنها صورت نگرفته است.

۱۰۳ انرژی آونگ وادارنده توسط نخ به آونگ‌های دیگر منتقل می‌شود و طول هر کدام از آونگ‌ها که با طول آونگ وادارنده برابر باشد به علت برابری $f_0 = f_d$ در آن آونگ تشدید رخ داده و با دامنه بزرگی به نوسان درمی‌آید. که این پدیده در آونگ شماره (۶) اتفاق می‌افتد. در حالی که به آونگ‌های دیگر انرژی کمتری منتقل شده و با دامنه‌های بسیار کوچکی به نوسان درمی‌آیند.

۱۰۴ نوسان‌های آونگ X از طریق سیم به آونگ‌های دیگر منتقل می‌شود و همه آنها به نوسان در می‌آیند. چون آونگ B با آونگ X هم طول است، بسامد طبیعی آنها با هم یکسان است؛ در نتیجه در آونگ B تشدید رخ می‌دهد و با بیشترین دامنه و به مدت طولانی به نوسان درمی‌آید. در سایر آونگ‌ها چون طول متفاوتی دارند، تشدید رخ نمی‌دهد و پس از چند نوسان می‌ایستند.

۱۰۵ حرکت منظم گروهی از افراد، یک نیروی خارجی به این پل وارد کرده است؛ به طوری که بسامد نیروی خارجی با بسامد طبیعی پل برابر شده و پدیده تشدید رخ داده است. در پدیده تشدید، دامنه نوسان بیشینه می‌شود که این موضوع باعث ویرانی و فرو ریختن پل شده است.

۱۰۶ در موج طولی ایجاد شده در فنر، ابتدا چشمه موج شروع به نوسان می‌کند و حلقه متصل به آن نیز شروع به نوسان می‌کند و در نتیجه انرژی به طور مستقیم در چشمه موج به حلقه منتقل می‌شود. این انرژی از یک حلقه به حلقه بعد که در جهت انتشار است منتقل می‌شود و در نتیجه این موج پیش‌رونده، انرژی را از یک نقطه به نقطه دیگر منتقل می‌کند. این انتقال انرژی بدون انتقال جرم صورت می‌گیرد. هر حلقه حول نقطه تعادل خود با همان بسامد چشمه نوسان می‌کند و انتقال انرژی توسط حلقه از یک نقطه به نقطه دیگر در جهت انتشار موج است.

۱۰۷ خیر؛ موج v تندی انتشار موج در راستای محور افقی است که مقدار آن ثابت است و به محیط انتشار بستگی دارد. اما ذره v تندی حرکت نوسانی ذرات موج است که در مرکز نوسان بیشینه و در دامنه‌ها صفر است. ذره v به چشمه نوسان وابسته است.

۱۰۸

$$v = \sqrt{\frac{FL}{m}} \begin{cases} \text{بالاترین بسامد} & v = \sqrt{\frac{226 \times 0,628}{0,208 \times 10^{-3}}} = 826,04 \frac{\text{m}}{\text{s}} \\ \text{پایین‌ترین بسامد} & v = \sqrt{\frac{226 \times 0,628}{3,32 \times 10^{-3}}} = 206,76 \frac{\text{m}}{\text{s}} \end{cases}$$

۱۰۹

$$v = \sqrt{\frac{FL}{m}} \xrightarrow[m=AV]{m=\rho V} v = \sqrt{\frac{F \cancel{L}}{\rho A \cancel{L}}} = \sqrt{\frac{F}{\rho A}}$$

$$\rightarrow v = \sqrt{\frac{156 \text{N}}{(\gamma,8 \times 10^3 \frac{\text{kg}}{\text{m}^3}) \times (0,5 \times 10^{-6} \text{m}^2)}} = 200 \frac{\text{m}}{\text{s}}$$

۱۱۰ الف) تندی موج (زیرا تندی موج فقط به محیط انتشار بستگی دارد و با تغییر منبع، تغییر نمی‌کند).

ب) طبق رابطه $v = \sqrt{\frac{F}{\mu}}$ ، با افزایش کشش ریسمان، تندی موج افزایش می‌یابد و چون بسامد تغییری نکرده است، طبق رابطه $v = f\lambda$ ، با افزایش تندی، طول موج نیز افزایش می‌یابد.

۱۱۱ الف) دامنه برابر ولی طول موج کوچک‌تر است.

ب) دامنه کوچک‌تر ولی طول موج برابر است.

پ) دامنه کوچک‌تر و طول موج کوچک‌تر است.

۱۱۲ ذرات a و b بالا و ذرات c و d پایین می‌روند.

۱۱۳ با توجه به شکل:

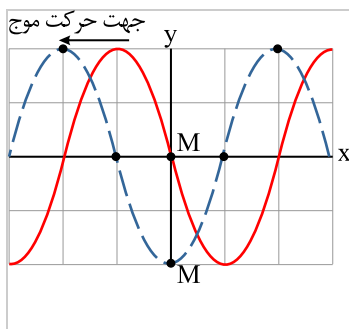
$$\Delta x = \lambda = 40 \text{cm}$$

$$\Delta y = A = 15 \text{cm}$$

$$v = f\lambda \rightarrow v = 8 \times 40 \times 10^{-2} = 32 \frac{\text{m}}{\text{s}}$$

$$T = \frac{1}{f} = \frac{1}{8} \text{s}$$

۱۱۴



ذره M در خلاف جهت محور y ، به اندازه دامنه حرکت کرده است.

ب

$$v = f\lambda \rightarrow f = \frac{v}{\lambda} = \frac{10 \frac{cm}{s}}{5cm} = 2Hz$$

پ

$$\Delta x = \frac{\lambda}{4} = \frac{5}{4} = 1,25cm$$

در مدت $\frac{T}{4}$ ، موج به اندازه $\frac{\lambda}{4}$ پیشروی می‌کند؛ بنابراین داریم:

۱۱۵

الف

| | | | | | | |
|------------------|-------------|---------|----------|--------|----------|---------|
| | پرتوهای X | P | Q | R | S | T |
| پرتوهای γ | | فرابنفش | نور مرئی | فروسرخ | میکروموج | رادیویی |

ب

از چپ به راست یعنی از سمت پرتوهای گاما به سمت امواج رادیویی:

(۱) طول موج افزایش یابد.

(۲) بسامد موج کاهش می‌یابد.

(۳) سرعت انتشار آنها در خلأ تغییر نمی‌کند.

(الف) طول موج از طریق رابطه $\lambda = \frac{v}{f}$ با بسامد رابطه دارد که در آن $c = v_{\text{هوا}}$ سرعت نور در هواست که برابر $3 \times 10^8 \frac{m}{s}$ است؛ پس داریم:

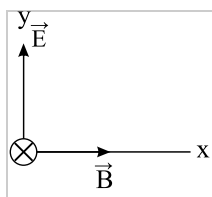
$$6,2 \times 10^{-7} = \frac{3 \times 10^8}{f} \rightarrow f = \frac{3 \times 10^8}{6,2 \times 10^{-7}} = \frac{15}{31} \times 10^{15} Hz$$

(ب) طبق همان رابطه داریم:

$$\text{هوا: } \lambda_{\text{هوا}} = \frac{v_{\text{هوا}}}{f} \rightarrow \lambda_{\text{هوا}} = \frac{3 \times 10^8}{\frac{15}{31} \times 10^{15}} = \frac{30}{43} \times 10^{-6} m$$

$$\lambda_{\text{بی}} = \frac{v_{\text{بی}}}{f} \rightarrow \lambda_{\text{بی}} = \frac{2,25 \times 10^8}{\frac{15}{43} \times 10^{15}} = \frac{22,5}{43} \times 10^{-6} m$$

۱۱۷



با توجه به قاعده دست راست، اگر چهار انگشت در جهت میدان الکتریکی و انگشت شست در جهت انتشار موج (خلاف جهت z یا همان درونسو) باشد، کف دست راست، جهت میدان مغناطیسی را نشان خواهد داد.
پس میدان \vec{B} در جهت x است.

جدول زیر نحوه تولید، آشکارسازی و کاربرد طیف موج‌های الکترومغناطیسی را بیان می‌کند. ۱۱۸



| نام و حدود طول موج | چشمه | وسایل آشکارسازی | بعضی از ویژگی‌های خاص و کاربرد |
|-----------------------------------------------------|---------------------------------------------------------|-----------------------------------|---------------------------------------------------------------------------------------------------------------------------------------------------------------------------------------------|
| پرتو گاما (γ) $1pm = 10^{-12}m$ | هسته مواد رادیواکتیو و پرتوهای کیهانی | شمارشگر گایگر - مولر و فیلم عکاسی | ویژگی‌ها: فوتون‌های با انرژی بسیار بالا و با قدرت نفوذ بسیار زیاد، خیلی خطرناک کاربرد: بافت‌های سرطانی را از بین می‌برد. برای پیدا کردن ترک در فلزات، برای ضد عفونی کردن تجهیزات و وسایل |
| پرتو ایکس (X) $100pm = 10^{-10}m$ | لامپ پرتو X | فیلم عکاسی و صفحه فلوروسان | ویژگی‌ها: فوتون‌های بسیار پرانرژی و با قدرت نفوذ زیاد، خیلی کاربرد: استفاده در پرتونگاری، استفاده در مطالعه ساختار بلورها، معالجه بیماری‌های پوستی، استفاده در پرتودرمانی |
| فرابنفش (UV) $10nm = 10^{-8}m$ | خورشید، جسم‌های خیلی داغ، جرقه الکتریکی، لامپ بخار جیوه | فیلم عکاسی، فوتوسل | ویژگی: توسط شیشه جذب می‌شود، سبب بسیاری از واکنش‌های شیمیایی می‌شود، یاخته‌های زنده را از بین می‌برد، کاربرد: لامپ‌های UV در پزشکی |
| نور مرئی $0.4\mu m = 4 \times 10^{-7}m$ (سبز) | خورشید، جسم‌های داغ، لیزرها | چشم، فیلم عکاسی، فوتوسل | ویژگی: در دیدن اجسام نقش اساسی دارد. برای رشد گیاهان و عمل فتوسنتز نقش حیاتی دارد. کاربرد: در سیستم‌های مخابراتی (لیزر و تارهای نوری) مورد استفاده قرار می‌گیرد. |
| فروسرخ (IR) $100\mu m = 10^{-4}m$ | خورشید، جسم‌های گرم و داغ | فیلم‌های مخصوص عکاسی | ویژگی: هنگامی که جذب می‌شود پوست را گرم می‌کند. کاربرد: برای گرم کردن برای فیلم‌برداری و عکاسی در مه و تاریکی، عکاسی IR توسط ماهواره‌ها |
| رادیویی $3m(VHF)$ | اجاق‌های میکروویو، آنتن‌های رادیویی و تلویزیونی | رادیو و تلویزیون | کاربرد: در آشپزی، رادیو، تلویزیون، مخابرات ماهواره‌ای و در رادارها برای آشکارسازی هواپیما، موشک و کشتی |

۱۱۹ صوت جزء امواج مکانیکی بوده و برای انتشار نیاز به محیط مادی دارد و با تخلیه هوا صدای آن را نمی‌شنویم؛ ولی امواج الکترومغناطیسی برای انتشار نیاز به محیط مادی ندارند و در خلأ نیز منتشر می‌شوند.

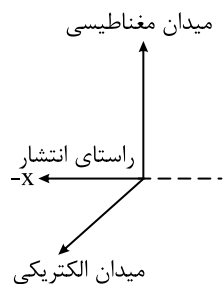
۱۲۰ طول موج را محاسبه می‌کنیم:

$$L = \frac{\lambda}{4} \Rightarrow \lambda = 4 \times 8,5 = 34cm = 0,34m$$

حالا بسامدی را که موبایل دریافت می‌کند طبق رابطه زیر به دست می‌آوریم:

$$f = \frac{c}{\lambda} = \frac{3 \times 10^8}{34 \times 10^{-2}} = 8,82 \times 10^6 Hz$$

۱۲۱ با در نظر گرفتن جهت‌های $+x$ ، $+y$ و $+z$ مطابق شکل داده‌شده، طبق قاعده دست راست، جهت انتشار موج در جهت $-x$ است.



۱۲۲ الف) فاصله بین دو تراکم متوالی همان طول موج است.

$$\lambda = \frac{v}{f} = \frac{100 \frac{m}{s}}{10 Hz} = 10m$$

ب) فاصله بین تراکم و یک انبساط متوالی برابر نصف طول موج است.

$$\frac{\lambda}{2} = 5m$$



$$v = \frac{\Delta x}{\Delta t} \rightarrow \Delta t = \frac{\Delta x}{v} \rightarrow \begin{cases} \Delta t_L = \frac{\Delta x}{v_L} \\ \Delta t_T = \frac{\Delta x}{v_T} \end{cases}$$

$$\Delta t_T - \Delta t_L = 4 \times 10^{-3} s \rightarrow \frac{\Delta x}{50} - \frac{\Delta x}{150} = 4 \times 10^{-3}$$

$$\rightarrow \frac{3\Delta x - \Delta x}{150} = 4 \times 10^{-3} \rightarrow \Delta x = \frac{4 \times 10^{-3} \times 150}{2} = 0.3 m$$

۵۸

۱۲۴) تندی انتشار یک موج (در اینجا صوت) فقط به جنس و شرایط فیزیکی محیط بستگی دارد؛ بنابراین تندی صوت فقط به مورد (ت) یعنی دمای هوا، بستگی دارد.

۱۲۵) الف)

$$t_{\text{فلز}} = \frac{L}{v_{\text{فلز}}} \quad \Delta t = t_{\text{هوا}} - t_{\text{فلز}} \rightarrow \Delta t = L \left(\frac{1}{v_{\text{هوا}}} - \frac{1}{v_{\text{فلز}}} \right)$$

$$t_{\text{هوا}} = \frac{L}{v_{\text{هوا}}}$$

ب)

$$v_{\text{فلز}} = 5941 \frac{m}{s}, \quad v_{\text{هوا}} = 340 \frac{m}{s}$$

$$\Delta t = 1 s \rightarrow 1 = L \left(\frac{1}{340} - \frac{1}{5941} \right)$$

$$L = \frac{5941 \times 340}{5941 - 340} = 360.63 m$$

۱۲۶) صوت در داخل میله و در هوا یک مسافت را طی می‌کند تا صدا از محل ضربه به گوش شنونده برسد، بنابراین:

$$x_1 = x_2 \Rightarrow v_1 t_1 = v_2 t_2 \xrightarrow{v_2 = 15v_1} t_1 = 15t_2$$

$$t_1 - t_2 = 0.12 s \Rightarrow 14t_2 = 0.12 \Rightarrow t_2 = \frac{0.12}{14} = 0.85 \times 10^{-2} s \Rightarrow t_1 = 15t_2 = 15 \times 0.85 \times 10^{-2} = 12.75 \times 10^{-2} s$$

$$x_1 = v_1 t_1 = 340 \times 12.75 \times 10^{-2} = 43.71 m$$

۱۲۷) الف) دیپازون از یک فلز دوشاخه‌ای درست شده است که انتهای آنها به هم بسته شده است. اگر ضربه‌ای به یکی از شاخه‌ها بزیم، لایه هوای مجاور آن متراکم می‌شود. این لایه متراکم به سمت جلو حرکت کرده و لایه مجاورش را متراکم می‌کند و هنگامی که شاخه دیپازون برمی‌گردد، لایه هوای مجاور آن منبسط می‌شود. این لایه انبساط یافته به صورت یک تب انبساطی (کم فشار) در هوا منتشر می‌شود. پس هنگامی که دیپازون مرتعش می‌شود، تب‌های متوالی تراکمی و انبساطی در هوا منتشر می‌کند که تولید صدا می‌کنند. ب) وزوزی که هنگام پرواز حشرات به گوش می‌رسد، نتیجه آن است که حشرات هنگام پرواز بال‌هایشان را در هر ثانیه صدها بار تکان می‌دهند. بال حشرات صفحه‌ای مرتعش است که ارتعاش آنها باعث ارتعاش و لرزیدن هوا هم می‌شود، در نتیجه صدایی ایجاد می‌شود که ما آن را به صورت وزوز می‌شنویم.

۱۲۸)

الف)

$$\omega = 2\pi f = 2 \times 3.14 \times 6.7 \times 10^6 = 42.076 \times 10^6 \frac{rad}{s}$$

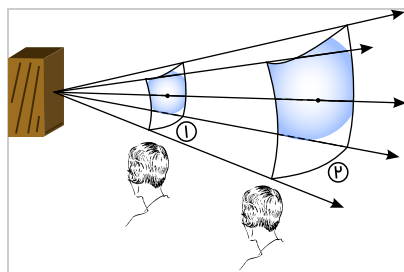
ب)

$$\lambda = \frac{v}{f} = \frac{1500 \frac{m}{s}}{6.7 \times 10^6 Hz} = 2.24 \times 10^{-4} m$$

۱۲۹)

$$\frac{I_2}{I_1} = \left(\frac{r_1}{r_2} \right)^2 \rightarrow \frac{I_2}{16 \frac{W}{m^2}} = \left(\frac{60 m}{160 m} \right)^2 = 16 \Rightarrow I_2 = 1.6 \frac{W}{m^2}$$

۱۳۰)



$$P_1 = P_2 = 1.2 \times 10^{-5} W, \quad A_1 = 4 m^2, \quad A_2 = 12 m^2$$

$$I_1 = \frac{P_1}{A_1} = \frac{1.2 \times 10^{-5}}{4} = 3 \times 10^{-6} \frac{W}{m^2}, \quad I_2 = \frac{P_2}{A_2} = \frac{1.2 \times 10^{-5}}{12} = 10^{-6} \frac{W}{m^2}$$

از آنجا که بلندی صدا در گوش انسان به شدت صوت مربوط است و $I_1 > I_2$ ، بدیهی است که شنونده در محل صفحه دوم صدا را آهسته‌تر می‌شنود.

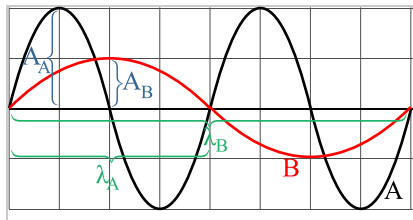
۱۳۱)

$$\beta_2 - \beta_1 = 10 \log \left(\frac{I_2}{I_1} \right) = 10 \log \left(\frac{1}{16} \right) = 10 \log \left(\frac{1}{2^4} \right) = 10 \log \left(2^{-4} \right) = -40 dB$$



۱۳۲

با توجه به شکل:



$$\lambda_B = 2\lambda_A$$

$$A_A = 2A_B$$

برای محاسبه بسامد، از رابطه $v = f\lambda$ استفاده می‌کنیم. (چون هر دو موج در یک محیط منتشر می‌شوند، تندی آنها یکسان است):

$$v_A = v_B \rightarrow f_A \lambda_A = f_B \lambda_B \xrightarrow{\lambda_B = 2\lambda_A} f_A \cancel{\lambda_A} = f_B \times 2 \cancel{\lambda_A}$$

$$\rightarrow f_A = 2f_B$$

برای محاسبه شدت صوت، داریم:

$$\frac{I_B}{I_A} = \left(\frac{f_B}{f_A}\right)^2 \left(\frac{A_B}{A_A}\right)^2$$

$$\rightarrow \frac{I_B}{I_A} = \left(\frac{f_B}{2f_B}\right)^2 \left(\frac{A_B}{2A_B}\right)^2 = \frac{1}{16} \rightarrow I_A = 16I_B$$

۱۳۳

$$\beta_2 - \beta_1 = 10 \log \frac{I_2}{I_1}$$

$$95 - 90 = 10 \log \frac{I_2}{I_1} \rightarrow 5 = 10 \log \frac{I_2}{I_1}$$

$$\rightarrow 0.5 = \log \frac{I_2}{I_1} \xrightarrow{0.5 = \log 3} \log 3 = \log \frac{I_2}{I_1} \rightarrow \frac{I_2}{I_1} = 3$$

۱۳۴

$$\beta = 10 \log \frac{I}{I_0}$$

$$28 = 10 \log \frac{I_1}{10^{-12}} \rightarrow 2.8 = \log \frac{I_1}{10^{-12}} \rightarrow 4 \times 0.8 = \log \frac{I_1}{10^{-12}}$$

$$\xrightarrow{0.8 = \log 6.3} 4 \times \log 6.3 = \log \frac{I_1}{10^{-12}} \rightarrow \frac{I_1}{10^{-12}} = 6.3^4 \rightarrow I_1 = 6.3^4 \times 10^{-12} \frac{W}{m^2}$$

$$92 = 10 \log \frac{I_2}{10^{-12}} \rightarrow 9.2 = \log \frac{I_2}{10^{-12}} \rightarrow 8 + 1.2 = \log \frac{I_2}{10^{-12}}$$

$$\xrightarrow{\substack{\lambda = \log 10^8 \\ 0.2 = \log 2}} \log 10^8 + 1.2 = \log \frac{I_2}{10^{-12}} \rightarrow \frac{I_2}{10^{-12}} = 2^8 \times 10^8$$

$$\rightarrow I_2 = 16 \times 10^{-4} \frac{W}{m^2}$$

۱۳۵

$$\beta = 10 \log \frac{I}{I_0} \rightarrow \beta = 10 \log \frac{10^{-2} \frac{W}{m^2}}{10^{-12} \frac{W}{m^2}} = 10 \log 10^8$$

$$\rightarrow \beta = 10 \times 8 = 80 \text{ dB}$$

(الف) در شکل (الف) تندی چشمه صفر است (کمترین مقدار) و در شکل (ت) تندی چشمه بیشترین مقدار است یعنی:

$$v \text{ (الف)} > v \text{ (ب)} > v \text{ (پ)} > v \text{ (ت)}$$

در شکل (الف) و (ب) تندی چشمه از تندی صوت کمتر است و در شکل (پ) تندی صوت و چشمه برابرند و در شکل (ت) تندی چشمه از تندی صوت بیشتر است.

۱۳۶

(الف) ناظر و چشمه هر دو ساکن هستند. $f_s = f_o$ (بسامدی که ناظر می‌شنود) = f_s (بسامد چشمه)

(ب) چشمه به ناظر نزدیک می‌شود $f_s < f_o$

(پ) چشمه از ناظر دور می‌شود $f_o < f_s$

(ت) ناظر از چشمه دور می‌شود $f_o < f_s$

(ث) ناظر به چشمه نزدیک می‌شود $f_s < f_o$

(ج) ناظر و چشمه به هم نزدیک می‌شوند $f_s < f_o$

(چ) ناظر و چشمه از هم دور می‌شوند $f_o < f_s$

۱۳۸



$$t_1 = \frac{2d_1}{v}$$

که d_1 فاصله صخره نزدیک، v سرعت صوت و t_1 زمان رفت و برگشت صوت از آن صخره است. با قرار دادن $d_1 = 240m$ و $t_1 = 1.5s$ در رابطه فوق، سرعت صوت در هوا به دست می‌آید:

$$1.5 = \frac{2 \times 240}{v} \rightarrow v = \frac{480}{1.5} = 320 \frac{m}{s}$$

(ب) برای محاسبه فاصله بین دو صخره، ابتدا فاصله صخره دورتر را به صورت زیر محاسبه می‌کنیم:

$$t_2 = \frac{2d_2}{v} \quad t_2 = 1.5 + 1.5 = 3s \rightarrow 2d_2 = v \times t_2 = 320 \times 3 = 960 \rightarrow d_2 = 480m$$

حاصل جمع d_1 و d_2 برابر فاصله دو صخره است؛ بنابراین داریم:

$$d = d_1 + d_2 = 240 + 480 = 720m$$

۱۳۹ تعیین تندی خون در بافت‌های مختلف بدن نشانگر صحت یا عدم صحت کارکرد اندام‌های مختلف است. یکی از روش‌های اندازه‌گیری تندی شارش خون به کمک مکان‌یابی پژواکی به همراه اثر دوپلر است. در این روش قسمتی از یک موج فراصوتی روی بافت تابانده می‌شود و به وسیله گویچه‌های خون بازتابیده می‌شود و فرکانس موج پژواکی تغییر می‌کند و پس از دریافت و پردازش سیگنال، تندی خون را به دست می‌آورند.

۱۴۰ رادار دوپلری وسیله‌ای است که براساس پدیده دوپلر کار می‌کند و برای اندازه‌گیری تندی و جهت حرکت شیء، تشخیص بارندگی و پیش‌بینی آب‌وهوای منطقه به کمک امواج الکترومغناطیسی به کار می‌رود. برای تعیین تندی خودرو، این وسیله یک موج الکترومغناطیسی به سمت هدف ارسال می‌کند و سپس انعکاس آن را دریافت می‌کند. با تغییر فرکانس موج ارسالی و موج دریافتی و به کمک رابطه دوپلر می‌توان تندی خودرو را تعیین کرد.

۱۴۱ اگر تأخیر زمانی بین دو صوت اولیه و پژواک کمتر از $0.1s$ باشد، گوش انسان نمی‌تواند پژواک را از صوت اولیه تمیز دهد، یعنی زمان لازم برای رفت و برگشت صدا، حداقل باید 0.1 ثانیه باشد.

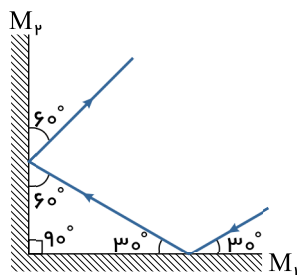
$$\Delta x = v \Delta t \Rightarrow 2L = 340 \times 0.1 \Rightarrow L = 17m$$

۱۴۲ میکروفون سهموی، دارای یک منعکس‌کننده با سطح کوا است، که برای تجمع و متمرکز کردن امواج صوتی بر روی گیرنده که در کانون سطح کوا قرار دارد استفاده می‌شود. این میکروفون که می‌تواند صدا را از چند متر دورتر دریافت کند، برای کارهایی از جمله ضبط صدای طبیعت، یا صداهای ضعیف، استراق سمع و حتی جاسوسی کاربرد دارد. دستگاه لیتوتریسی سنگ‌شکنی به کمک امواج است که نیازی به جراحی ندارد. در این روش امواج پر قدرت از بدن عبور داده می‌شود تا سنگ‌ها را خرد کرده تا به قطعات کوچکی به اندازه دانه‌های شن شکسته شوند. این امواج با انرژی بالا به وسیله بازتابنده‌های بیضوی در کانون متمرکز می‌شوند و باعث خرد شدن سنگ‌ها می‌شوند.

۱۴۳ این دستگاه شامل دو لوله متصل به دو دهانه است که یکی نقش دهانه ورودی صدا (چشمه صوت) و دیگری نقش گوشی (شنونده) را بازی می‌کند. با ایجاد صدا در دهانه ورودی صوت پس از عبور از لوله اول و بازتاب از یک دیواره سخت با عبور از لوله دوم وارد دهانه گوشی می‌شود و ما آن را می‌شنویم. شنونده با حرکت لوله دوم در زاویه‌های متفاوت درمی‌یابد که در چه زمانی و در چه زاویه‌ای صدا با بیشترین بلندی به گوش او می‌رسد. به کمک این وسیله درمی‌یابیم که بیشترین بلندی دریافتی به ازای برابر بودن زاویه تابش و زاویه بازتابش حاصل می‌شود.

۱۴۴ اگر در مقابل یک مانع به فاصله d قرار بگیریم و یک بار کف بزیم، صدای تولید شده پس از طی مسافت $l = 2d$ برمی‌گردد و پژواک آن به گوش ما می‌رسد. حال اگر مانع به صورت یک پلکان منظم باشد، صدای تولید شده از هر پله یک بار برمی‌گردد و زنجیره‌ای از پژواک‌های متوالی به گوش ما می‌رسد که مانند یک نت نواخته شده به گوش می‌رسد.

۱۴۵

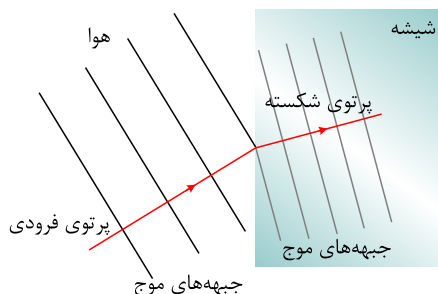


۱۴۶ زیرا سطح دیوار برای لیزر سطح ناهمواری محسوب می‌شود؛ بنابراین بازتاب لیزر از دیوار، بازتاب پخشنده است و پرتوهای بازتاب به‌طور کاتوره‌ای در تمام جهات پراکنده می‌شوند و به چشم همه دانش‌آموزان می‌رسند.

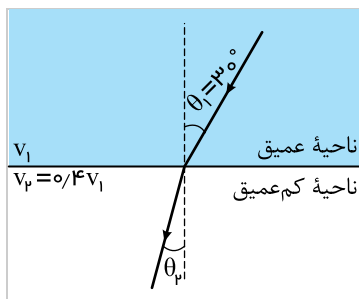
۱۴۷

(۱) برابر هستند.

(۲)



نمودار پرتویی را رسم می‌کنیم، به کمک قانون شکست عمومی داریم:



$$\frac{\sin \theta_2}{\sin \theta_1} = \frac{v_2}{v_1} \xrightarrow{v_2 = 0.4v_1} \frac{\sin \theta_2}{\sin 30^\circ} = \frac{1}{2} \Rightarrow \sin \theta_2 = 0.2 \Rightarrow \theta_2 = 11.54^\circ$$

۱۴۹ بسامد موج ثابت می‌ماند، از طرفی فاصله دو برآمدگی متوالی همان طول موج است. پس داریم:

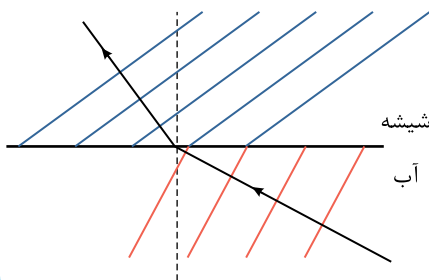
$$f = \frac{v}{\lambda} \Rightarrow \frac{v_{\text{عمیق}}}{\lambda_{\text{عمیق}}} = \frac{v_{\text{کم عمیق}}}{\lambda_{\text{کم عمیق}}} \xrightarrow{v_{\text{کم عمیق}} = 0.4v_{\text{عمیق}}} \frac{v_{\text{عمیق}}}{10} = \frac{0.4v_{\text{عمیق}}}{\lambda_{\text{کم عمیق}}} \Rightarrow \lambda_{\text{کم عمیق}} = 4 \text{ cm}$$

۱۵۰ جرم واحد طول (μ) طناب نازک، کوچک‌تر از طناب ضخیم است پس طبق رابطه $v = \sqrt{\frac{F}{\mu}}$ تندی موج عبوری از قسمت نازک بیشتر از تندی موج ورودی از قسمت ضخیم است.

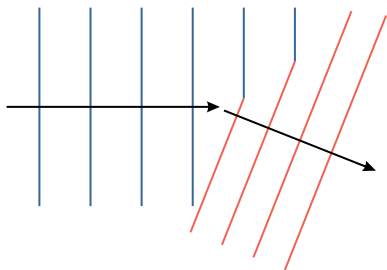
بسامد موج عبوری و ورودی برابرند. ($f_{\text{نازک}} = f_{\text{ضخیم}}$)

طبق رابطه $\lambda = \frac{v}{f}$ ، چون $v_{\text{نازک}} > v_{\text{ضخیم}}$ است، طول موج در طناب نازک بزرگ‌تر از طول موج در طناب ضخیم است، یعنی: $\lambda_{\text{نازک}} > \lambda_{\text{ضخیم}}$

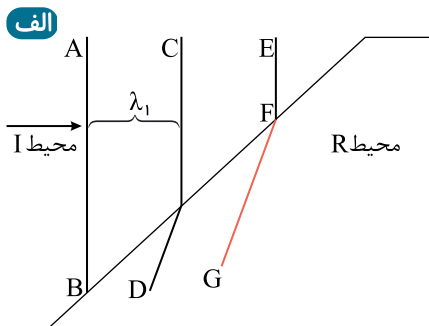
۱۵۱



۱۵۲ با رسیدن موج به ساحل شیب‌دار، عمق آب و در نتیجه تندی موج در سطح آب کاهش می‌یابد. در نتیجه آن بخش از موج که زودتر به ناحیه کم عمق ساحل می‌رسد، با تندی کمتری حرکت می‌کند و از بقیه موج که هنوز به ساحل نرسیده‌اند، عقب می‌افتد. برای همین، فاصله بین جبهه‌های موج و طول موج کاهش می‌یابد. این موضوع در نهایت باعث تغییر جهت جبهه‌های موج در مرز دو محیط می‌شود.



۱۵۳

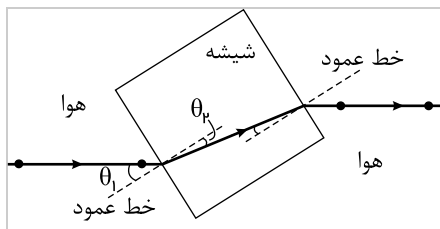


۱۵۴ ب چون بسامد موج در عبور از محیطها تغییر نمی‌کند، تندی موج با طول موج آن رابطه مستقیم دارد. از طرفی می‌دانیم که فاصله دو جبهه موج متوالی برابر طول موج است؛ بنابراین در محیط I که فاصله جبهه‌های موج بیشتر است، تندی موج نیز بیشتر است.

بله. با توجه به رابطه $\lambda = \frac{v}{f}$ و ثابت بودن f ، داریم:

$$\frac{\lambda_I}{\lambda_R} = \frac{v_I}{v_R}$$

با توجه به اینکه طول موج در هر محیط برابر با فاصله دو جبهه موج متوالی است، با اندازه‌گیری فاصله جبهه‌های موج در هر دو محیط، می‌توان نسبت تندی دو محیط را به دست آورد.



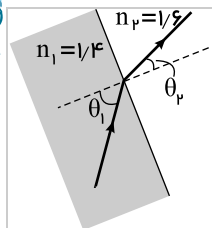
برای حالت‌های مختلف، θ_1 و θ_p را اندازه‌گیری می‌کنیم و طبق رابطه $n_1 \sin \theta_1 = n_p \sin \theta_p$ که در آن $n_1 = 1$ است، می‌توانیم n_p را به دست بیاوریم و آنها را در یک جدول بنویسیم:

| شماره آزمایش | θ_1 | θ_p | $n_p = \frac{n_1 \sin \theta_1}{\sin \theta_p}$ |
|--------------|------------|------------|----------------------------------------------------|
| آزمایش ۱ | 30° | 19° | $n_p = \frac{\sin 30^\circ}{\sin 19^\circ} = 1,54$ |
| آزمایش ۲ | 36° | 23° | $n_p = \frac{\sin 36^\circ}{\sin 23^\circ} = 1,5$ |
| آزمایش ۳ | 42° | 26° | $n_p = \frac{\sin 42^\circ}{\sin 26^\circ} = 1,52$ |
| آزمایش ۴ | 45° | 28° | $n_p = \frac{\sin 45^\circ}{\sin 28^\circ} = 1,51$ |

با میانگین‌گیری از عددهای اندازه‌گیری شده داریم:

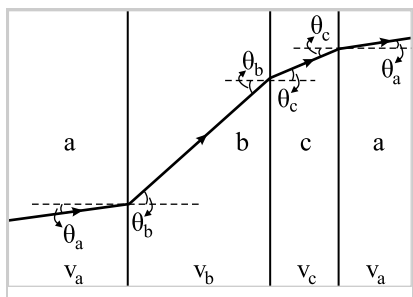
$$n_p = \frac{1,54 + 1,50 + 1,52 + 1,51}{4} = \frac{6,07}{4} = 1,52$$

در هر شکل خط عمود بر سطوح جداکننده را رسم می‌کنیم و زاویه تابش و شکست را مقایسه می‌کنیم. طبق قانون شکست اسنل $n_1 \sin \theta_1 = n_2 \sin \theta_2$ می‌توان نتیجه گرفت که اگر ضریب شکست در هر محیطی بزرگ‌تر باشد، آنگاه زاویه پرتو با خط عمود باید کوچک‌تر باشد، بنابراین:



شکل (الف) از نظر فیزیکی ممکن است، زیرا ضریب شکست محیط دوم بزرگ‌تر است و زاویه شکست کوچک‌تر است. $n_2 > n_1 \Rightarrow \theta_2 < \theta_1$.
شکل (ب) از نظر فیزیکی ممکن نیست، زیرا پرتو نور در سمت درستی شکسته نشده است و امکان شکسته شدن پرتو در آن ناحیه وجود ندارد.
شکل (پ) از نظر فیزیکی ممکن نیست، زیرا باید پرتو شکست به خط عمود نزدیک شود.

شکل را مجدداً رسم کرده و زاویه‌های تابش و شکست را نام‌گذاری می‌کنیم.



طبق قانون شکست عمومی $(\frac{\sin \theta_p}{\sin \theta_1} = \frac{v_p}{v_1})$ ، زاویه در هر محیطی که بزرگ‌تر باشد، تندی موج در آن محیط بیشتر است، یعنی:

$$\theta_b > \theta_c > \theta_a \Rightarrow v_b > v_c > v_a$$

(الف) تندی نور در هوا برابر $c = 3 \times 10^8 \frac{m}{s}$ است. داریم:

$$\lambda_{\text{هوا}} = \frac{c}{f} \rightarrow f = \frac{c}{\lambda} = \frac{3 \times 10^8 \frac{m}{s}}{633 \times 10^{-9} m} = 4,7 \times 10^{14} \text{ Hz}$$

(ب)

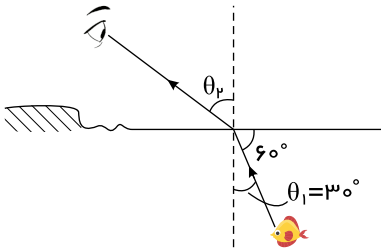
$$n = \frac{c}{v_{\text{چشم}}} \xrightarrow{c=f\lambda_{\text{هوا}}} n = \frac{\lambda_{\text{هوا}}}{\lambda_{\text{چشم}}}$$

$$\rightarrow n = \frac{633}{474} = 1,34$$



$$v_{\text{چشم}} = f \lambda_{\text{چشم}} \rightarrow v_{\text{چشم}} = 4,7 \times 10^{14} \times 474 \times 10^{-9} = 2,2 \times 10^8 \frac{m}{s}$$

۱۵۸ با توجه به قانون شکست اسنل داریم:

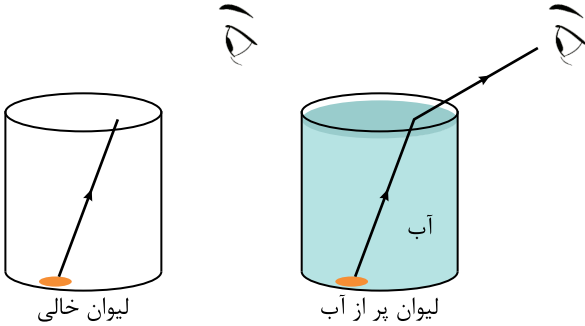


$$\underbrace{n_1 \sin \theta_1}_{\text{آب}} = \underbrace{n_2 \sin \theta_2}_{\text{هوا}}$$

$$1,33 \times \sin 30^\circ = 1 \times \sin \theta_p$$

$$\rightarrow \sin \theta_p = 0,665 \rightarrow \theta_p \approx 41,7^\circ$$

۱۵۹ هنگامی که در لیوان آب می‌ریزیم، پرتویی که از سکه می‌تابد، هنگام ورود از آب به هوا می‌شکند و این تغییر مسیر پرتو، باعث می‌شود که به چشم ما برسد و ما سکه را ببینیم.



۱۶۰ هنگامی که نور از هوا وارد شیشه می‌شود؛ با محیط غلیظ‌تری روبرو می‌شود؛ در نتیجه تندی آن کاهش یافته و به خط عمود نزدیک‌تر می‌شود. بنابراین پرتوی C می‌تواند ادامه مسیر این پرتو در شیشه را به‌درستی نشان دهد.

۱۶۱ کافی است این دو نفر، نور زرد را از یک منشور با سطح مقطع مثلثی شکل عبور دهند (بهتر است پرتوی فرودی به سطح اولین وجه این منشور عمود نباشد). اگر پرتوی فرودی پس از عبور از منشور به طیف‌های مختلف سبز و قرمز تجزیه شد، این نور زرد از ترکیب دو نور قرمز و سبز بوده و اگر تجزیه نشد، این نور فقط یک نوع رنگ (تک‌رنگ) می‌باشد.

۱۶۲ طبق قانون شکست اسنل داریم:

$$n_1 \sin \theta_1 = n_2 \sin \theta_2 \xrightarrow{n_1=1} \sin \theta_2 = \frac{\sin \theta_1}{n_2}$$

$$\text{برای نور قرمز: } \sin \theta_2 = \frac{\sin 45^\circ}{1,459} = 0,484 \Rightarrow \theta_2 = 29^\circ$$

$$\text{برای نور آبی: } \sin \theta_2 = \frac{\sin 45^\circ}{1,467} = 0,482 \Rightarrow \theta_2 = 28,82^\circ$$

۱۶۳ طبق قانون اسنل، هنگامی که نور از محیط غلیظ‌تر به محیط رقیق‌تر وارد می‌شود، از خط عمود دور می‌شود. همچنین نور آبی بیشتر از نور قرمز می‌شکند؛ بنابراین شکل (ت) صحیح است.